









Prénom :

Date :

<h1>Mathématiques</h1>	<p>Exercices d'entraînement Séquence 34 Picbille</p>
------------------------	--

1. **Ecris** combien il y a de jetons dans la boîte

 → 5	 →	 →
 →	 →	 →
 →	 →	 →

2. **Compte** et complète les calculs (tu peux t'aider de la boîte du chariot)



$1 + 9 =$	$3 + 5 =$	$1 + 8 =$
$5 + 3 =$	$4 + 4 =$	$2 + 6 =$
$2 + 5 =$	$3 + 7 =$	$6 + 2 =$
$3 + 3 =$	$2 + 2 =$	$5 + 1 =$

3. **Calcule** les soustractions (si tu n'es pas sûr dessine comme Picbille)

$5 - 3 =$	$3 - 1 =$	$4 - 2 =$
$2 - 0 =$	$4 - 1 =$	$2 - 1 =$
$4 - 3 =$	$3 - 2 =$	$5 - 2 =$
$5 - 0 =$	$4 - 4 =$	$5 - 5 =$