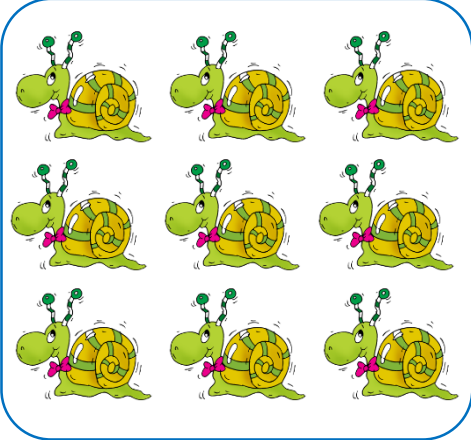




Situations multiplicatives

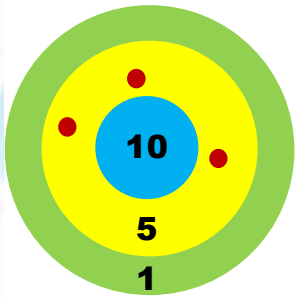
Compte les objets en faisant une multiplication !

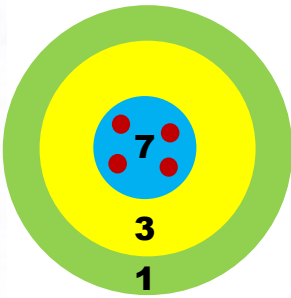


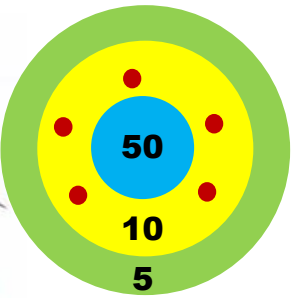




Calcule le score de chaque enfant en faisant une multiplication.








Le carreleur a refait le sol de la maison. Calcule le nombre de carreaux utilisés.

Mes recherches :



Ma réponse :

Complète ces extraits de tables de multiplication.

X	2		5
3			
4		16	
			30

X	8	10	
	24		
5			
2			8

X		6	7
2	18		
		36	
3			

Résous les problèmes suivants.



Ma réponse :




Ma réponse :



Jade décore 8 tables.
 Sur chaque table, elle pose un vase de 3 fleurs.
 De combien de fleurs a-t-elle besoin ?

Ma réponse :



Le suspect porte un nombre entre 0 et 20.
 C'est un multiple de 2, 3 et 4.
 Quel numéro porte le suspect ?

Ma réponse :