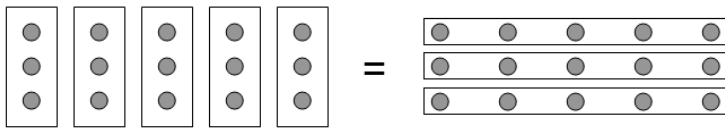


AMM 1 NC LA MULTIPLICATION (1)



www.ecolesaintjeandetouslas.fr

Niveau CE1



$$5 \times 3 = 3 \times 5$$

$3 + 3 + 3 + 3 + 3$
5 groupements de 3
 5×3

$5 + 5 + 5$
3 groupements de 5
 3×5

AMM 2 NC LA MULTIPLICATION (2)

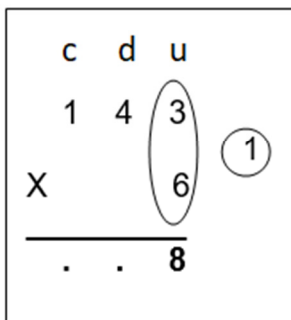


www.ecolesaintjeandetouslas.fr

Niveau CE2

J'ai gagné 143€ au mois de janvier, 143€ au mois de février, 143€ au mois de mars, 143€ au mois d'avril, 143€ au mois de mai et 143€ au mois de juin. Combien d'euros ai-je gagnés au total ?

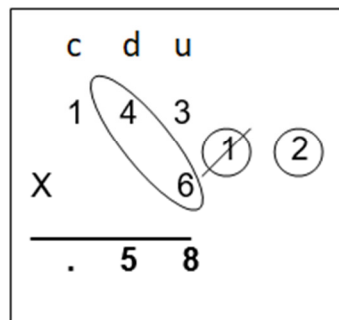
étape 1



6×3 unités = 18 unités

Je pose 8 unités
et je retiens 1 dizaine.

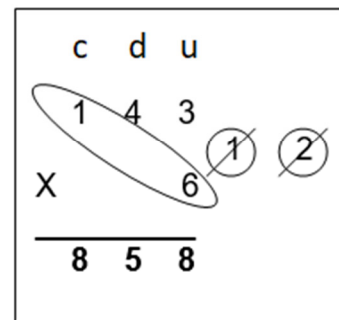
étape 2



6×4 dizaines = 24 dizaines

$24 + 1 = 25$ dizaines
Je pose 5 dizaines
et je retiens 2 centaines.

étape 3



6×1 centaines = 6 centaines

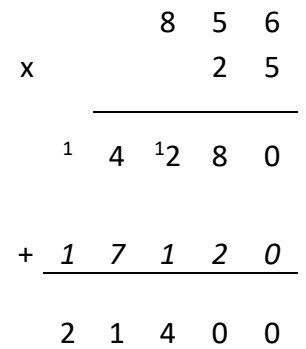
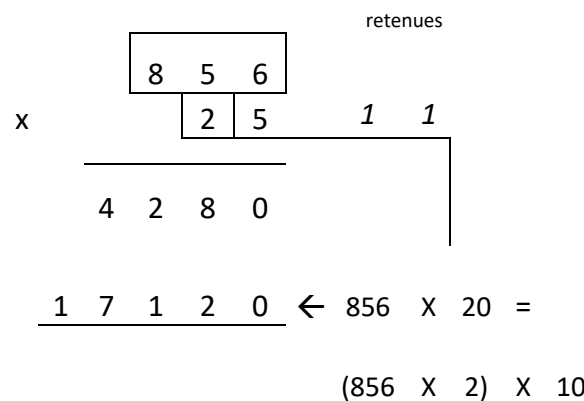
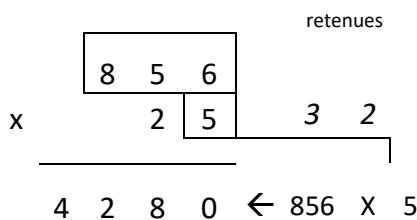
$6 + 2 = 8$ centaines
Je pose 8 centaines.

AMM 3 NC LA MULTIPLICATION (3)



www.ecolesaintjeandetouslas.fr

Niveau CM1



La célèbre chanteuse Lilia part en tournée dans toute la France.
Elle va chanter dans vingt-cinq villes et gagnera 856€ à chaque concert.
Après les cinq premiers concerts, Lilia dépose l'argent gagné à la Banque Régionale de Bretagne.
Elle continue sa tournée.
Lilia dépose l'argent gagné avec les vingt autres concerts à la Caisse d'Épargne de Paris.
Combien d'euros a-t-elle gagnés, en tout ?

Somme déposée à la Banque Régionale de Bretagne : $856\text{€} \times 5 = 4280\text{€}$
Somme déposée à la Caisse d'Épargne de Paris : $856\text{€} \times 20 = 856\text{€} \times (2 \times 10) = (856\text{€} \times 2) \times 10 = 17120\text{€}$
Lilia a gagné, au total : $4280\text{€} + 17120\text{€} = 21400\text{€}$.