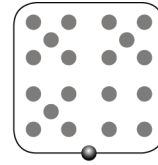
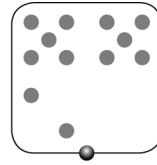
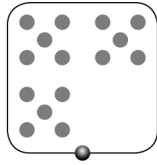
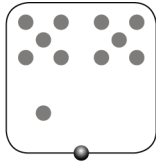


Nom : .....

Date : .....

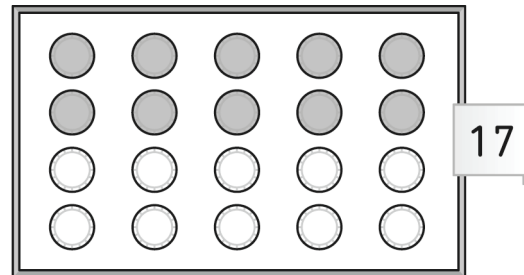
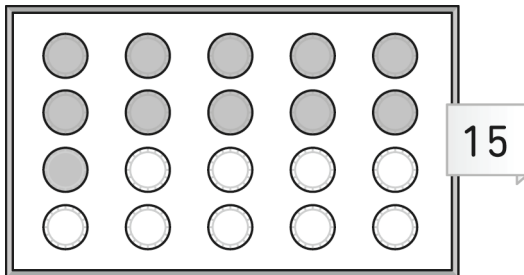
**1 Relie.**



**2 Écris en chiffres.**

quatorze : ..... dix : ..... onze : ..... seize : .....

**3 Complète le coloriage.**



**4 Complète les additions.**

$3 + 1 = \dots\dots\dots$

$3 + 2 = \dots\dots\dots$

$4 + 0 = \dots\dots\dots$

$2 + 1 = \dots\dots\dots$

$4 + 1 = \dots\dots\dots$

$2 + 3 = \dots\dots\dots$

$1 + 4 = \dots\dots\dots$

$1 + 3 = \dots\dots\dots$

$0 + 2 = \dots\dots\dots$

**5 Voici des listes de nombres.**

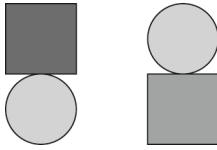
À chaque fois, entoure en rouge le plus grand et en vert le plus petit.

- a. 5 11 8 12

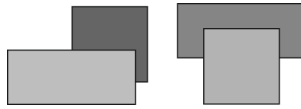
- b. 12 8 13 4

**6 a. Entoure le bon dessin dans chaque cas.**

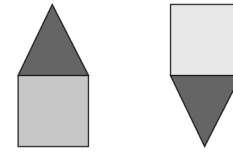
Un carré sur un rond



Un carré derrière un rectangle

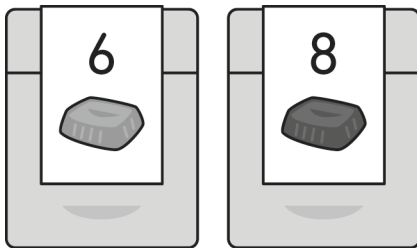


Un triangle sous un carré.



**b. Dessine un rectangle bleu entre deux ronds rouges.**

**7** Léo reçoit deux boîtes de chocolat. L'une contient 6 chocolats au lait et l'autre contient 8 chocolats noirs.



Il offre tous les chocolats.  
**Combien de chocolat a-t-il offerts ? Complète :**  
Léo a offert ..... chocolats.

**8** Le pion de Noa est sur la case 3.  
Il lance le dé.



**Sur quelle case Noa va-t-il mettre son pion ?**

**Complète :**  
Noa va mettre son pion sur la case .....

**9 Relie chaque phrase à une étiquette.**

C'est l'heure du petit déjeuner

C'est l'heure du dîner

C'est l'heure du déjeuner

matin

midi

soir