


### La monnaie

Comprendre les principes d'utilisation de la monnaie

① Dessine les sommes demandées en utilisant le moins de billets et de pièces possible.



55 €



238 €



16 €

.....

.....

.....

② Tu paies tes courses avec une pièce de 1 €.

Quelle somme le marchand va-t-il te rendre si tu achètes :

- a. 90 c de bonbons ? .....
- b. 50 c de bonbons ? .....
- c. 70 c de bonbons ? .....
- d. 85 c de bonbons ? .....

### 3 Résous ces problèmes.

Inès a 1 €. Elle souhaite acheter une craie à 30 c et un effaceur d'ardoise à 70 c.

**Peut-elle faire ces achats ?** Justifie ta réponse.

.....


Clara a 100 centimes. Elle veut acheter un stylo qui coûte 1 € 20.

**A-t-elle assez d'argent ?** Justifie ta réponse.


.....

**Qui a le plus d'argent ?**

Lucas



Lina



Jules

