

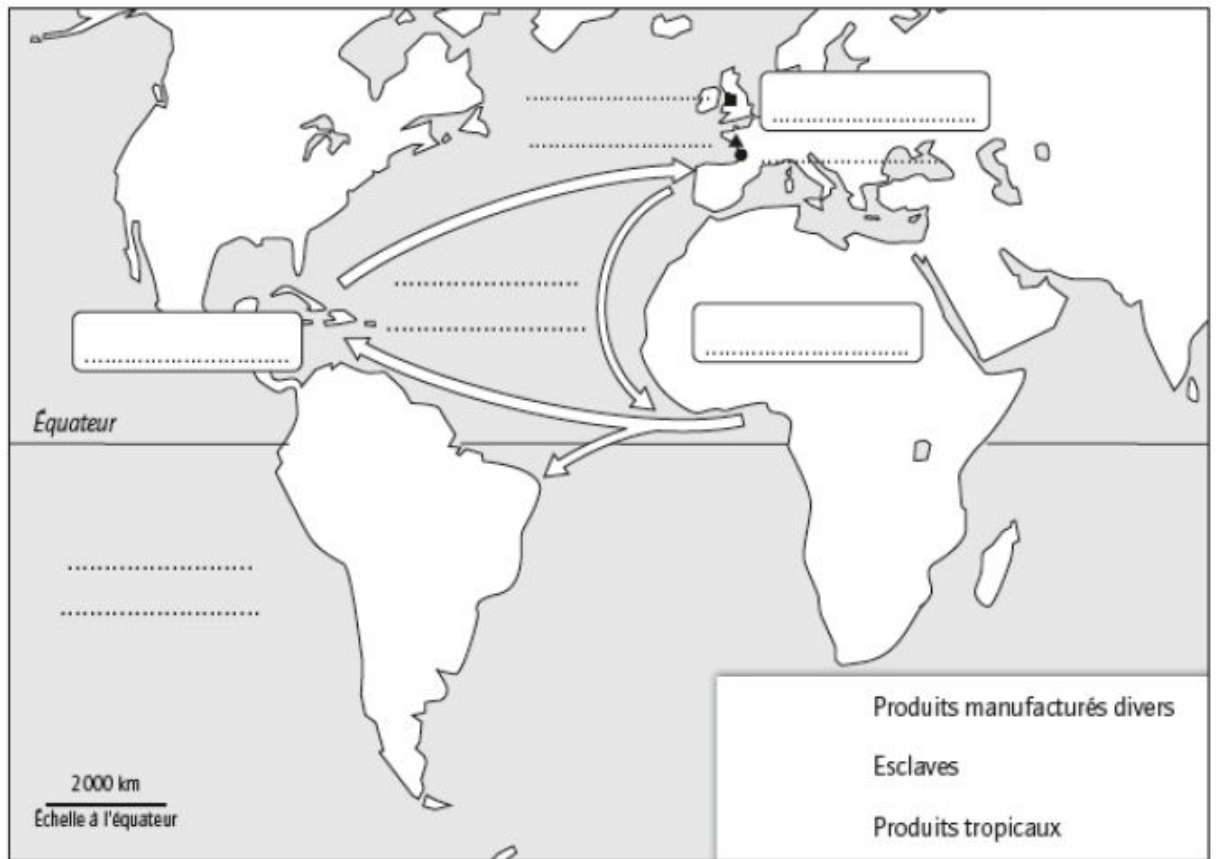
Nom :

Prénom :

Epreuve commune adaptée. Histoire-géographie-EMC. 4^{ème}.

Partie Histoire : Bourgeoisies marchandes, négoce et traites négrières :


Les connaissances :



Le commerce triangulaire au XVIII^e siècle

- Placez sur la carte en lettres majuscules et en noir : Europe, Amérique, Afrique.
- En lettres minuscules et en bleu, placez : Océan Atlantique, Océan Pacifique.
- En lettres minuscules et en noir, placez : Nantes, Bordeaux, Liverpool.
- Indiquez le transport :
 - des « produits manufacturés divers » par une flèche orange ;
 - des « esclaves » par une flèche noire ;
 - des « produits tropicaux » par une flèche verte.
- Complétez la légende.

Etude de documents :



Une plantation dans une colonie française

La culture du café à l'île de Bourbon (actuelle Réunion), aquarelle attribuée à Patu de Rosemont, début du XIX^e siècle, musée du Quai Branly, Paris.

Réponds aux questions en faisant une phrase.

1) Quelle est la nature du document ?

2) Décris ce que tu vois au premier plan. Utilise les mots de vocabulaire que tu as appris.

.....

.....

.....

3) Quel produit tropical est cultivé ? Où est-il destiné ?

.....

4) A qui profite le travail des esclaves dans les plantations ?

.....

Partie Géographie : Les connaissances : L'urbanisation dans le monde. Un monde de migrants.

Que veut dire une métropole ?

Cite les trois pouvoirs que l'on retrouve dans une métropole. Donne un exemple pour chaque type de pouvoir.

- 1)
- 2)
- 3)

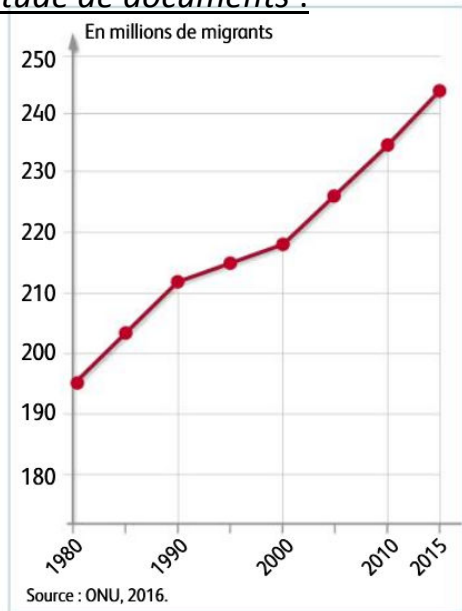
Cite une ville attractive sur la scène internationale :

Cite en ville qui a d'abord été en déclin puis qui a su redevenir attractive en innovant entre autres dans les nouvelles technologies :

Que veut dire un migrant ?

Cite 4 raisons qui poussent une personne à quitter son pays ?

Etude de documents :



Évolution du nombre de migrants internationaux

- 1) Quelle est la nature du document ?
- 2) Que représente l'axe des abscisses ?
- 3) Que représente l'axe des ordonnées ?
- 4) En 1980, combien il y avait-il de migrants dans le monde ?
- 5) En 2015, combien il y avait-il de migrants dans le monde ?
- 6) Que peux tu dire de l'évolution du nombre de migrants dans le monde ?

Partie EMC : Les élections des délégués.

Rédige une dizaine de lignes pour raconter comment se déroule une élection de délégués de classe. Tu dois absolument utiliser le vocabulaire spécifique appris en classe.

.....

.....

.....

.....

.....

.....

.....

.....

.....

.....

.....

Aide pour se remémorer la chronologie :

