


























Je compte de 5 en 5

Compte en ajoutant 5 à chaque case. Complète avec les nombres manquants :

 5	 10			 25
		 40		
	 60			 75
			 95	
 105				



La file numérique de 0 à 100

0	1	2	3	4	5	6	7	8	9	10
20	19	18	17	16	15	14	13	12	11	10
21	22	23	24	25	26	27	28	29	30	30
40	39	38	37	36	35	34	33	32	31	31
41	42	43	44	45	46	47	48	49	50	50
60	59	58	57	56	55	54	53	52	51	51
61	62	63	64	65	66	67	68	69	70	70
80	79	78	77	76	75	74	73	72	71	71
81	82	83	84	85	86	87	88	89	90	90
100	99	98	97	96	95	94	93	92	91	91