


La guerre froide



Etudes de documents

Source documents : Hatier

P'tit blog de Segpa

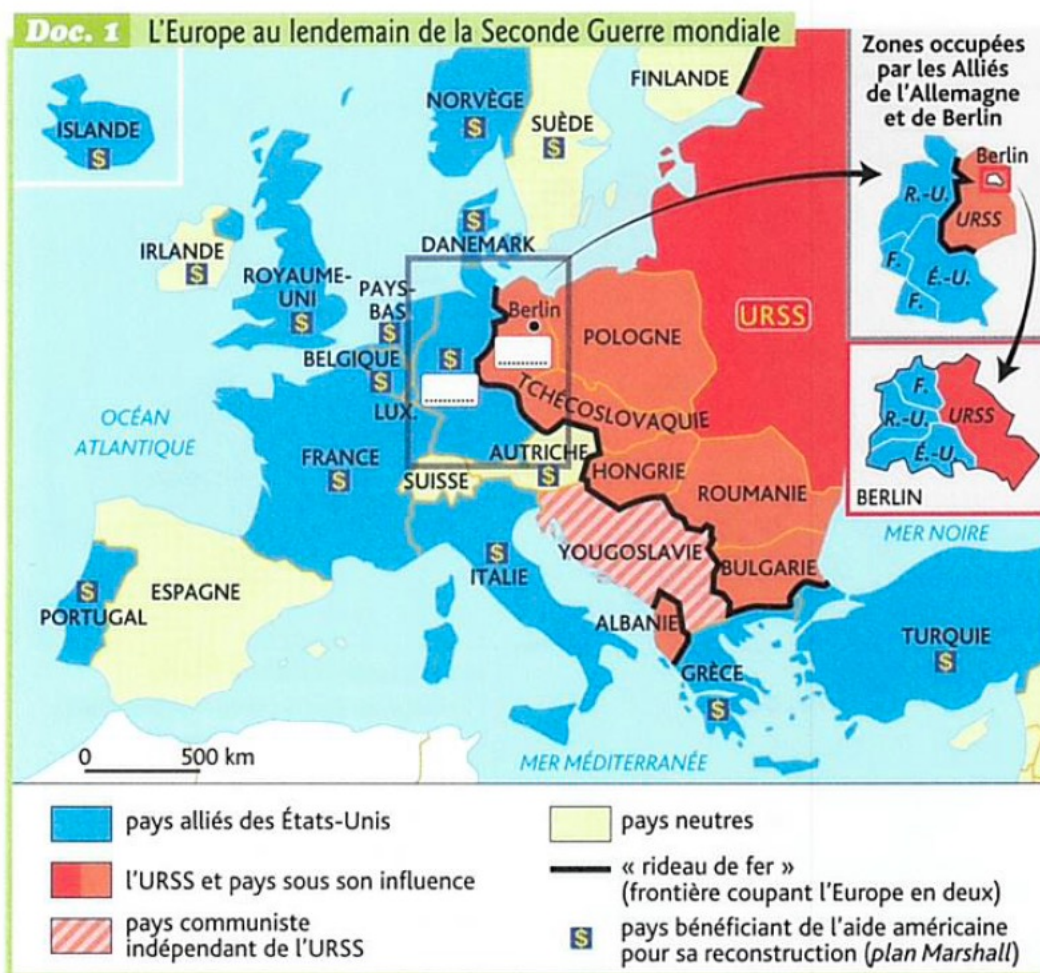


La guerre froide

Où et comment débute la guerre froide entre les deux Grands ?

Compétences:

Analyser une carte et une caricature



1). Dans la légende de la carte, soulignez les deux puissances qui exercent leur influence en Europe.

.....

2). Comment appelle-t-on la frontière coupant l'Europe en deux ?

.....

3). Comment les États-Unis aident-ils leurs alliés à se reconstruire ?

.....

.....

4). Quelle est la situation de l'Allemagne et de sa capitale au lendemain de la 2^e guerre mondiale ?

.....

5). De quel côté du rideau de fer Berlin est-elle située ?

.....

Doc. 2 La crise de Berlin (1948-1949)



Caricature américaine de Fred O. Seibel, 29 juin 1948.

Première crise de Berlin (juin 1948-mai 1949)

Suite à l'union politique et économique des trois secteurs – américain, britannique et français – de l'Allemagne, Staline décide un blocus de Berlin qui consiste à couper les voies d'accès à la ville. Les Occidentaux répliquent par un pont aérien. En mai 1949, Staline lève le blocus. À la suite de cette crise, l'Allemagne est divisée en deux États : la République fédérale allemande à l'Ouest (RFA) et la République démocratique allemande à l'Est (RDA).

6). Dans la légende, soulignez ce qui provoque la première crise de Berlin

7). Entourez ses dates

8). Que décide Staline ?

.....

9). Quelle est la réaction des Occidentaux ?

.....

10). **Décrivez la caricature:**

- Comment sont représentées les deux puissances ?

.....

- Que semblent vouloir faire les Soviétiques ?

.....

- Quelle semble être la réaction des Américains ?

.....

11). Entourez la conséquence de cette crise pour l'Allemagne puis complétez la carte

.....

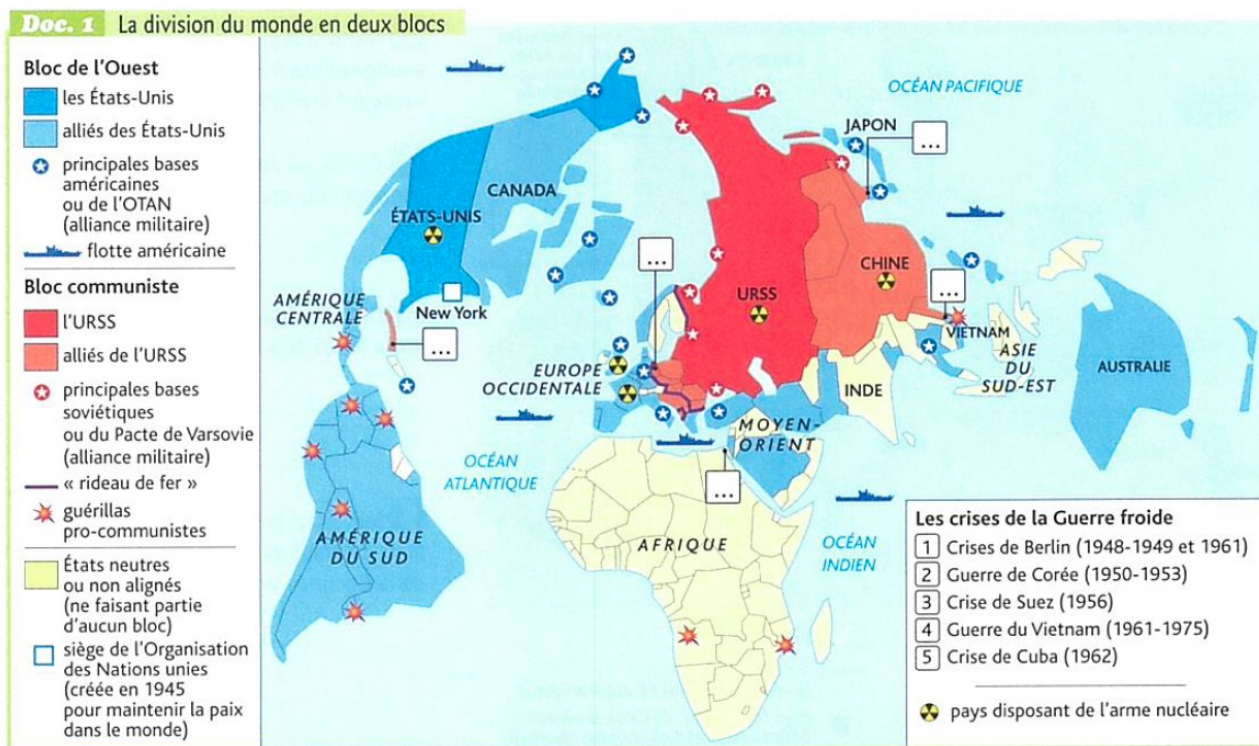
La guerre froide

Comment se présente le monde au temps de la guerre froide ?

Compétences:

Analyser une carte

Situer dans le temps



1). Dans la légende de la carte, soulignez en bleu le nom donné à l'ensemble formé par les États-Unis et ses alliés

2). Dans la légende de la carte, soulignez en rouge le nom donné à l'ensemble formé par l'URSS et ses alliés

3). Entourez ensuite le nom des alliances militaires que chacun a mis en place.

4). Localisez les crises de la guerre froide sur la carte en écrivant leurs numéros dans les cases correspondantes.

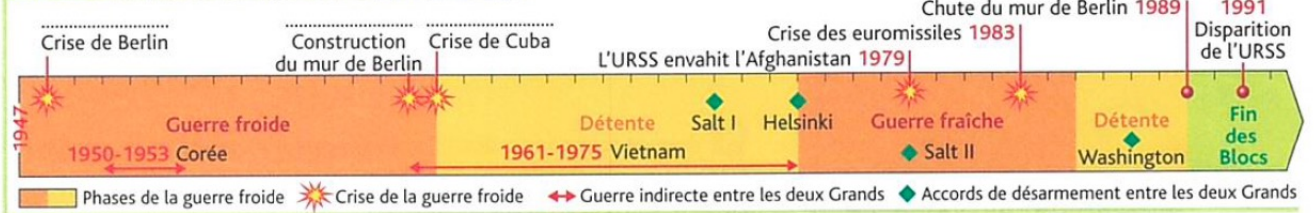
5). Quelle arme rend cette confrontation dangereuse pour le monde entier ?

.....

6). Quelle organisation internationale tente de maintenir la paix dans le monde ?

.....

Doc. 2 Les phases de la guerre froide (1947-1991)



7). D'après la frise, qu'est-ce qui montre que ce n'est pas un affrontement permanent ?

.....

.....

8). Sur la frise, écrivez les dates des grandes crises marquantes de la guerre froide.

9). Entourez les deux évènements marquant la fin de la guerre froide