

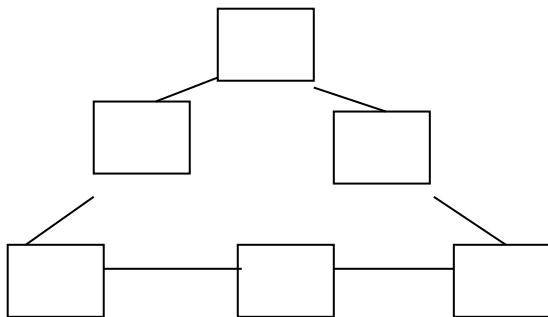
# DEFI MATHS

MON EQUIPE : .....

**SCORE**  
... / 100

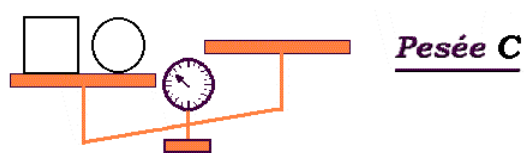
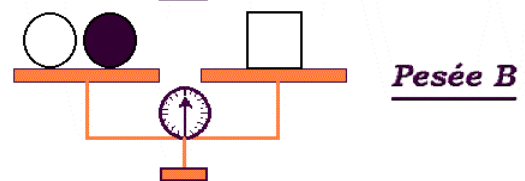
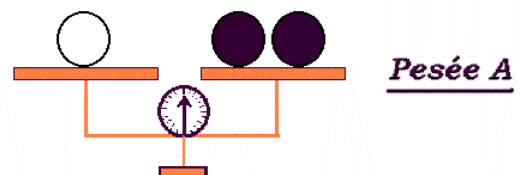
## DEFI N°1 : SUITE DE NOMBRES .... / 18 PTS

Ecris les chiffres de 1 à 6 sans que deux chiffres consécutifs se suivent.



## DEFI N°2 : BALLES EN NOIR ET BLANC .... / 20 PTS

De combien de balles noires avons-nous besoin pour remettre la dernière balance en équilibre ?



Réponse :

**DEFI N°3 : LE TGV****.... / 30 PTS**

	<b>TGV 1</b>
Niort	6 h 37 min
St-Maixent	6 h 50 min
Poitiers	7 h 41 min
Bordeaux	9 h 21 min

	<b>Train 2</b>
Niort	17 h 01 min
Surgères	17 h 19 min
St Jean d'Angely	17 h 43 min
Bordeaux	21 h 28 min

	<b>Train 3</b>
Niort	13 h 10 min
Saintes	14 h 34 min
Bordeaux	18 h 12 min

Réponds aux questions :

1/ Amandine doit arriver à Bordeaux avant 10 heures, quelle train doit-elle prendre ?

.....

2/ Scotty prend le train n°2, à quelle heure arrive t-il à Bordeaux ?

.....

3/ Océane descend du train à 17h43, dans quelle ville est-elle arrivée ?

.....

**DEFI N°4 : GRIGNOTAGE DE SOURIS****.... / 38 PTS**

Les deux souris ont grignoté des carreaux de la tablette a chocolat. Peux-tu me dire combien ?



Réponse :

POINTS DE RAPIDITE

... / 4 PTS