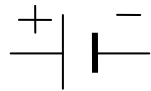


Fiche 16: montage en dérivation 2 ampoules + interrupteur

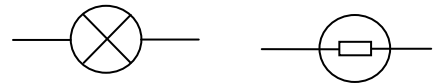
Réalise le montage suivant et réponds aux questions.

Prénom : _____


pile :



lampe:



interrupteur ouvert



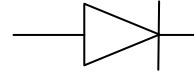
interrupteur fermé



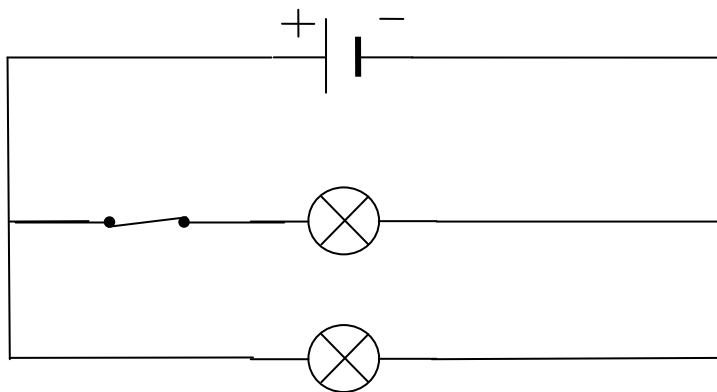
moteur



diode



1



Ferme et ouvre l'interrupteur, les 2 ampoules s'arrêtent-elles ? oui non

2/ où vas-tu placer l'interrupteur pour éteindre les 2 ampoules

