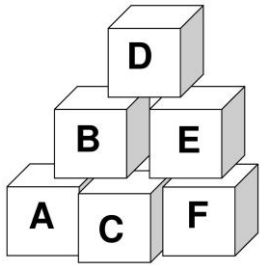
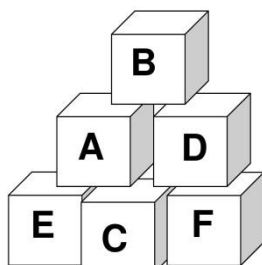


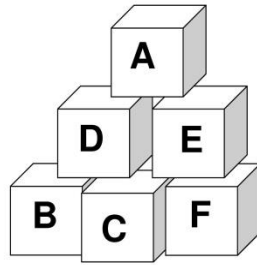
LUNDI			MARDI			MERCREDI			JEUDI			VENDREDI			SAMEDI		DIMANCHE						
1	2	3	4	5	6	7	8	9	10	11	12	13	14	15	16	17	18						
19	20	21	22	23	24	25	26	27	28	29	30												
janvier		février		mars		avril		mai		juin		juillet		août		septembre		octobre		novembre		décembre	



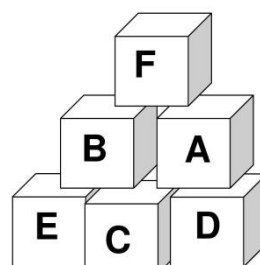
1



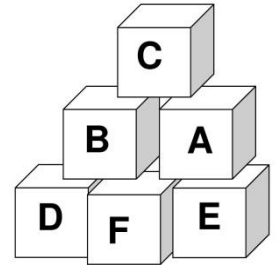
2



3



4



5

1) Dans quel empilement le cube E est à droite du cube D ?

2) Dans quel empilement le cube A est le plus haut ?

3) Dans quel empilement le cube C est entre le cube E et le cube F ?

4) Dans quel empilement le cube F est au sommet ?

5) Dans quel empilement le cube B est dans la rangée du bas ?