

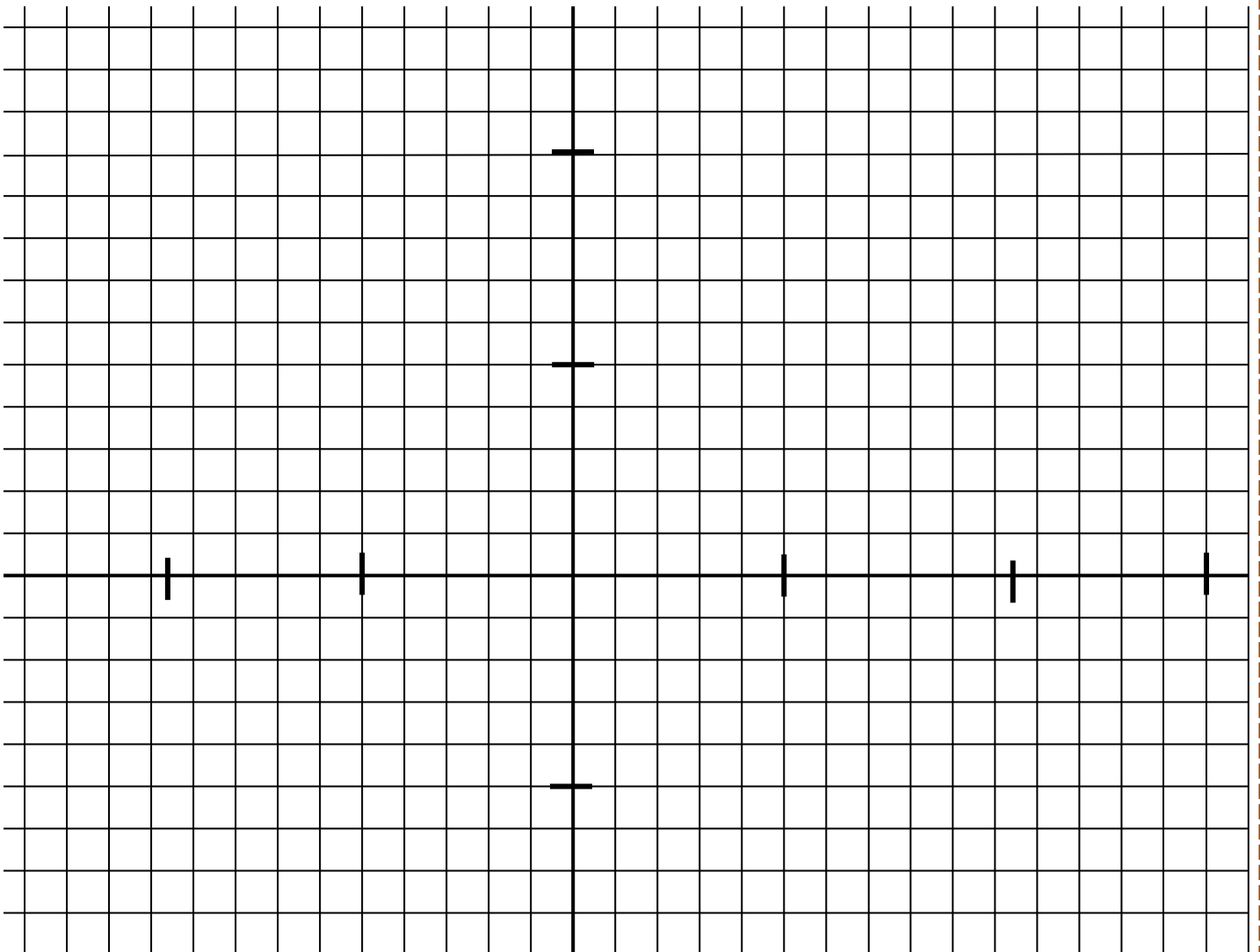


- Dessine les points et relie-les dans l'ordre ligne par ligne :

Qu'est-ce ? _____

a) $(-11;-1), (-10;-2)$

b) $(15;11), (12;10), (11;7), (9;6), (4;-8), (2;-8), (4;-3), (3;-1), (0;-3), (-3;-4)$
 $(-5;-8), (-7;-8), (-6;-4), (-7;-3), (-9;-4), (-10;-4), (-12;-3), (-13;0),$
 $(-12;2), (-10;3), (-11;4), (-6;3), (-3;4), (-1;7), (4;10), (8;7), (10;8), (11;10)$
 $(13;11), (15;11)$





- Dessine les points et relie-les dans l'ordre ligne par ligne :

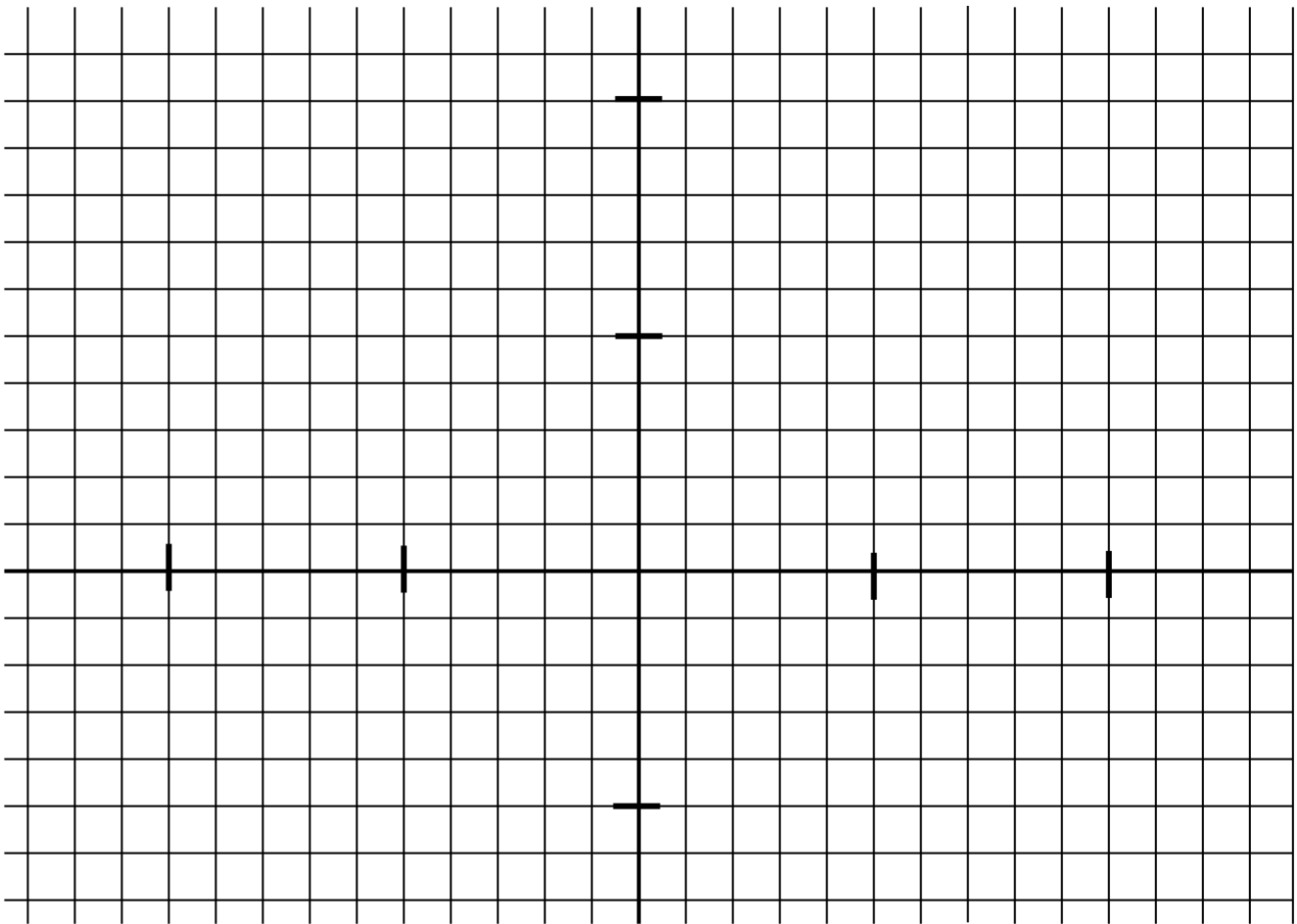
Qu'est-ce ? _____

a) $(-1;1), (4;0), (5;2), (0;2)$

b) $(-3;5), (-2;6), (5;6), (3;4)$

c) $(-8;1), (-10;1), (-9;2), (-8;2), (-7;1)$

d) $(-12;1), (-10;3), (-8;4), (-4;5), (0;5), (3;4), (6;3), (8;2), (10;2), (14;3)$
 $(13;2), (11;1), (14;-2), (10;-1), (9;-1), (5;-2), (0;-3), (-1;-3), (1;-5),$
 $(-2;-5), (-4;-3), (-7;-2), (-11;0), (-12;0), (-11;1), (-12;1)$





● Dessine les points et relie-les dans l'ordre ligne par ligne : Qu'est-ce ? _____

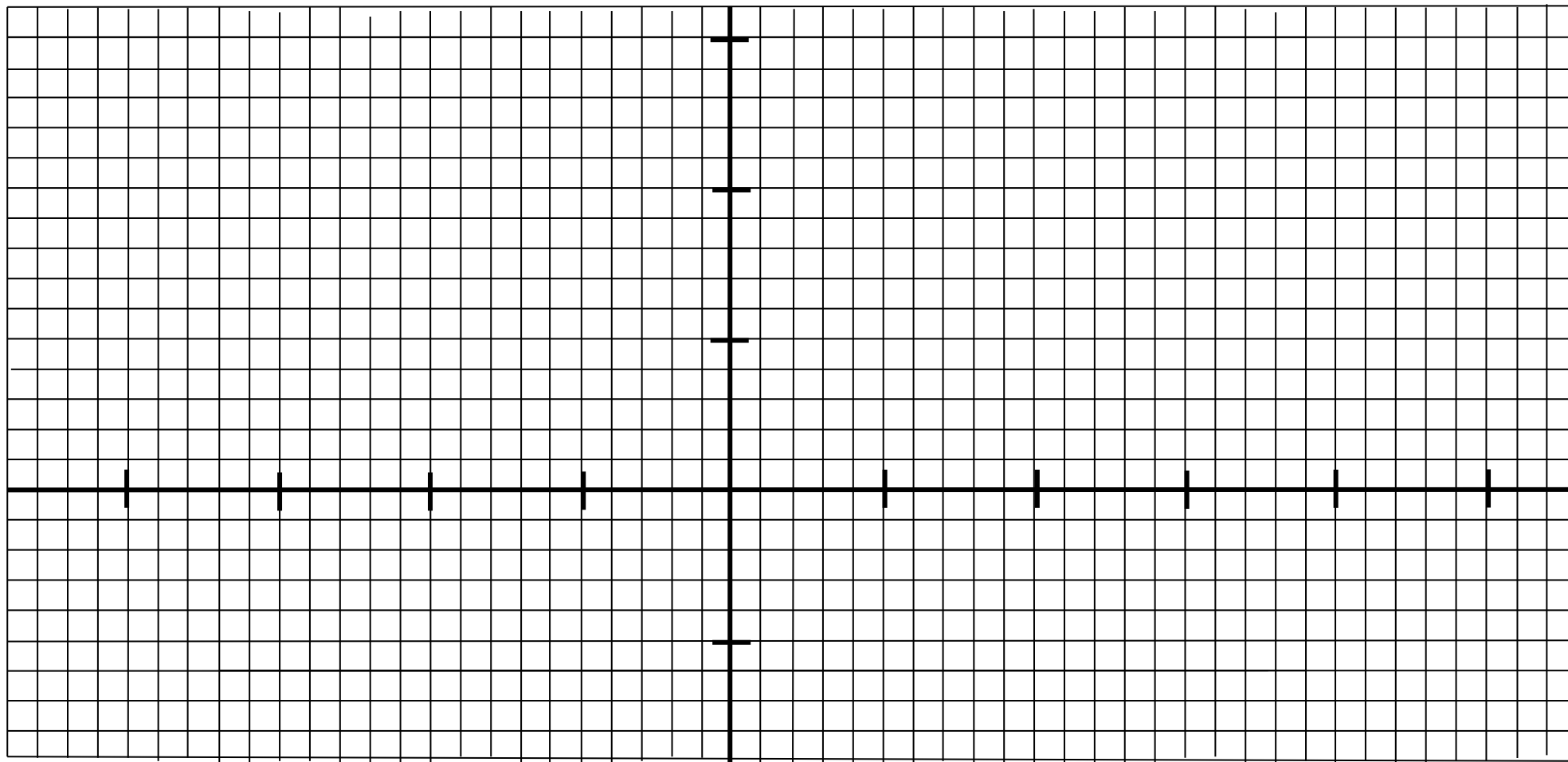
a) $(-18;1), (-14;2), (-18;3), (-24;6), (-20;7), (-18;7), (-16;8), (-5;11), (2;9), (4;8), (8;7), (12;5), (14;5), (20;7)$
 $(24;8), (28;9), (20;4), (22;-4), (18;0), (14;1), (0;1), (-5;0), (-1;-7), (-9;0), (-7;-4), (-4;-7), (-8;-4), (-10;0)$
 $(-14;0), (-18;1)$

b) $(-5;11), (-2;14), (2;16), (1;14), (2;12), (4;11), (2;9)$

c) $(14;5), (18;3), (14;1)$

d) $(4;1), (5;-1), (9;-3), (8;-1), (9;0), (8;1)$

e) $(-17;5)$

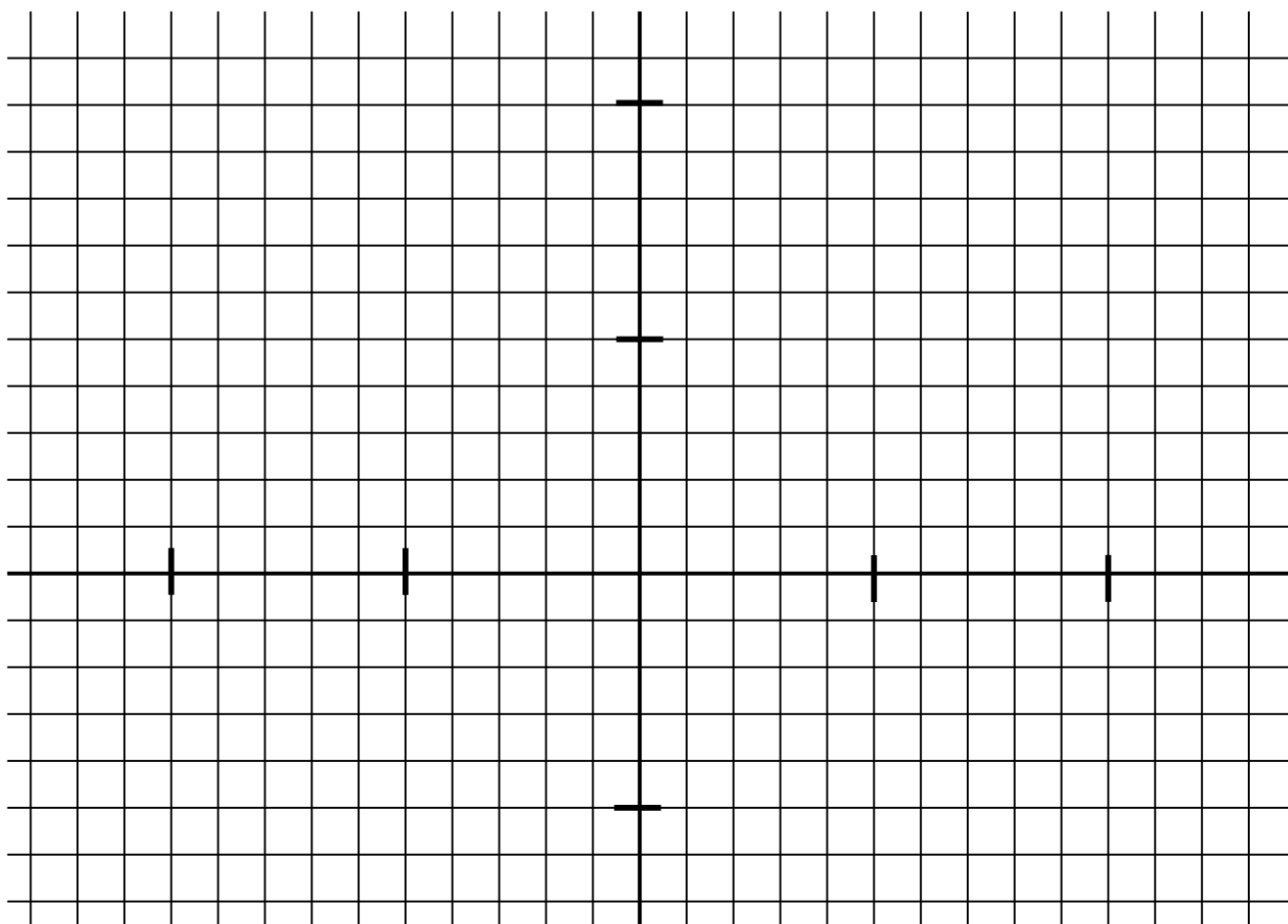




- Dessine les points et relie-les dans l'ordre ligne par ligne :

Qu'est-ce ? _____

- a) $(-9;-3), (-10;-3), (-10;3), (2;3), (2;7), (11;7), (11;-3), (10;-3)$
- b) $(-9;-3), (-9;-1), (-8;0), (-6;0), (-5;-1), (-5;-3), (-6;-4), (-8;-4), (-9;-3)$
- c) $(-5;-3), (-4;-3), (-4;-1), (-3;0), (-1;0), (0;-1), (0;-3), (-1;-4), (-3;-4), (-4;-3)$
- d) $(0;-3), (1;-3), (2;-4), (4;-4), (5;-3), (5;-1), (4;0), (2;0), (1;-1), (1;-3)$
- e) $(5;-3), (6;-3), (7;-4), (9;-4), (10;-3), (10;-1), (9;0), (7;0), (6;-1), (6;-3)$
- f) $(3;6), (6;6), (6;3), (3;3), (3;6)$
- g) $(10;3), (7;3), (7;6), (10;6), (10;3)$
- h) $(-5;3), (-5;5), (-2;5), (-2;6), (0;6), (0;5), (1;5), (1;3)$
- i) $(-8;3), (-8;6), (-10;10), (-4;10), (-6;6), (-6;3)$
- j) $(-7;-1), (-2;-3)$ k) $(-2;-1), (3;-3)$ l) $(3;-1), (8;-3)$





- Dessine les points et relie-les dans l'ordre ligne par ligne :

Qu'est-ce ? _____

a) $(5; -1), (3; -3), (0; -5), (-3; -3), (-5; -1)$

b) $(-3; -3), (-3; -6), (-5; -5), (-11; -7)$

c) $(-4; 7), (-5; 4), (-5; -5), (-8; -6), (-8; 5), (-7; 7)$

d) $(-7; 8), (-1; 13), (1; 13), (7; 8), (7; 7), (-7; 7), (-7; 8), (7; 8)$

e) $(3; -3), (3; -6), (5; -5), (11; -7)$

f) $(4; 7), (5; 4), (5; -5), (8; -6), (8; 5), (7; 7)$

g) $(-3; -2), (-1; -1), (1; -1), (3; -2), (0; -3), (-3; -2), (3; -2)$

h) $(-3; 3), (-5; 1), (-3; 0)$

i) $(3; 3), (5; 1), (3; 0)$

j) $(-3; 4), (-2; 4)$

k) $(-2; 3), (-1; 4), (-2; 5)$

l) $(2; 4), (3; 4)$

m) $(2; 5), (1; 4), (2; 3)$

