

Mardi 11 mai
Dictée 2 semaine 3



Au printemps, les rameaux ^{= ils} sont recouverts ^{= des} de bourgeons ^{= des} et de petites feuilles
couvertes de duvet.

Français

Sur le cahier du jour, écrire une phrase longue:

L'après-midi, le papillon vole tranquillement dans le jardin
pour profiter du soleil.

Qui
Quoi
Quand
Où
Comment
Pourquoi



6 questions à se poser

Quelques exemples inventés par les élèves

Le midi, le papillon vole vite dans la maison parce qu'il est content.

Un garçon joue tranquillement au foot dans le jardin à 15h30 pour s'amuser.

Nous répondons bien aux 6 questions posées

Les aires

5 carreaux

10 carreaux

5 carreaux

- 1) Calcule le périmètre de chacune des figures (en carreaux)
- 2) Essaie de trouver la surface (aire) de chaque figure en comptant les carreaux puis en essayant de retrouver le résultat par le calcul.

Les aires

$c = \text{côté}$



c

Aire du carré : $c \times c$

$L = \text{longueur}$
 $l = \text{largeur}$



L

Aire du rectangle : $L \times l$







Atelier jeux de société

- continuer à fabriquer les jeux et à écrire les règles.

- jeux par groupes:
Yam's, Dobble

www.regledujeu.fr

YAMS

	J1	J2	J3	J4	J5	J6
1 [total de 1]  = 1						
2 [total de 2]  = 2						
3 [total de 3]  = 3						
4 [total de 4]  = 4						
5 [total de 5]  = 5						
6 [total de 6]  = 6						
Bonus si > à 62 [35]						
Total supérieur						
Brelan [total]						
Carré [total]						
Full House [25]						
Petite suite [30]						
Grande suite [40]						
Yams [50]						
Chance [total]						
Total inférieur						
Total						