

Mathématiques CP - Année 2016/2017 - Bilan 8

Date : _____

Ton prénom : _____

1 Ecris les résultats des calculs dictés.


● ■ ★ ☾ ♥ ▲

2 Ecris les nombres des cases grises.

Ecris ensuite à la bonne place :

5 61 94 50 36

Où est ce nombre ?



	11								
							28		
40									
							67		
			83						

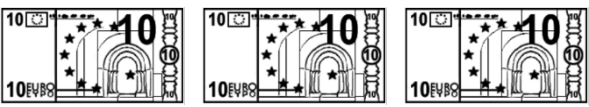
3 Complète.


30 + 20 =

20 + 10 + 30 =


30 + 40 + 20 =


4 Entoure les billets qu'il faut pour réaliser la somme d'argent indiquée.





40 €





80 €

5 Complète.

9 + = 10

6 + = 10

10 + = 14

10 + = 19

3 + = 12

7 + = 15

4 + = 18

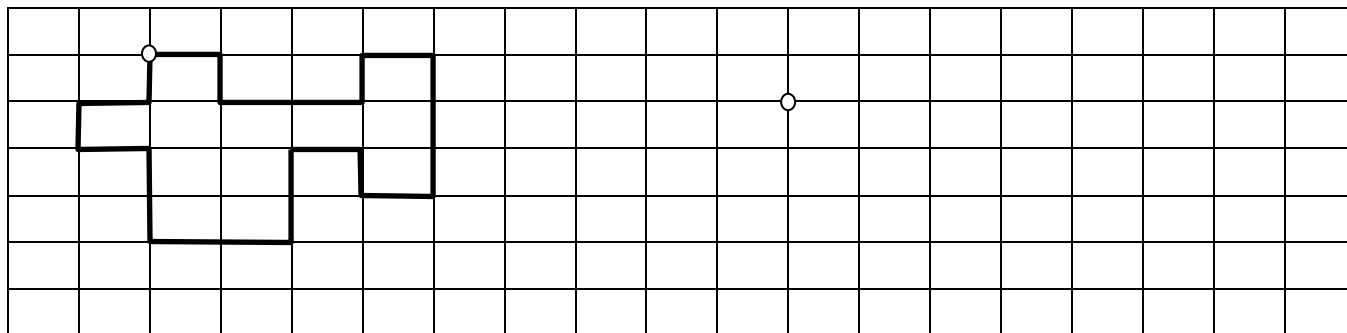
..... + 7 = 13



6



Reproduis le dessin à partir du point.



7



Utilise la règle à mesurer **bleue** puis **écris la longueur** du trait noir.



Le trait noir mesure unités.

8



Sur la ligne grise, **trace un trait de 3 unités** avec ta règle à mesurer **bleue**.



9



Colorie les cartes que chacun doit choisir pour atteindre la cible.



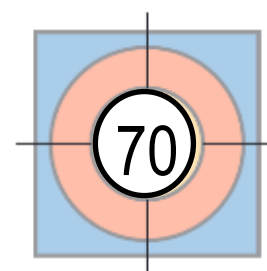
10 10 40 20



40 30 30 10



40 20 10 20



10

Les sacs contiennent des balles. Le nombre de balles est inscrit sur les sacs.

Entoure les sacs que tu dois choisir pour obtenir le bon nombre de balles.

14



15

