

45A

Nom
Prénom
Date

Maths au CE1
Grandeurs
et mesures


1- Dessine les pièces nécessaires pour obtenir les sommes demandées.

1€ 50c

2€ 60c

75c

2- Calcule le prix de chaque objet et complète l'étiquette.



45A

Nom
Prénom
Date

Maths au CE1
Grandeurs
et mesures




1- Dessine les pièces nécessaires pour obtenir les sommes demandées.

1€ 50c

2€ 60c

75c

2- Calcule le prix de chaque objet et complète l'étiquette.



45B

Nom

Prénom

Date

Maths au CE1

Grandeurs
et mesures




1- Dans chaque ligne, entoure le prénom de l'enfant qui a la plus grosse somme d'argent.

<p>Lilou</p>	<p>Théo</p>
--------------	-------------

<p>Anna</p>	<p>Farid</p>
-------------	--------------

<p>Tom</p>	<p>Jade</p>
------------	-------------

2- Dessine les pièces qui manquent pour avoir à chaque fois un euro.

**45B**

Nom

Prénom

Date

Maths au CE1

Grandeurs
et mesures


1- Dans chaque ligne, entoure le prénom de l'enfant qui a la plus grosse somme d'argent.

<p>Lilou</p>	<p>Théo</p>
--------------	-------------

<p>Anna</p>	<p>Farid</p>
-------------	--------------

<p>Tom</p>	<p>Jade</p>
------------	-------------

2- Dessine les pièces qui manquent pour avoir à chaque fois un euro.



45C

Nom
Prénom
Date

Maths au CE1

Grandeurs
et mesures



45C

Nom
Prénom
Date

Maths au CE1

Grandeurs
et mesures



Résous les problèmes.

- 1 - Tom achète un gâteau à 1€ 40c et 3 bonbons qui coutent 20c chacun.
Combien Tom dépense-t-il ?

- 2 - Mila achète un magazine à 3€ 25c. Elle paie avec un billet de 5€.
Combien la marchande lui rendra-t-elle ?

Résous les problèmes.

- 1 - Tom achète un gâteau à 1€ 40c et 3 bonbons qui coutent 20c chacun.
Combien Tom dépense-t-il ?

- 2 - Mila achète un magazine à 3€ 25c. Elle paie avec un billet de 5€.
Combien la marchande lui rendra-t-elle ?
