

Mathématiques : jeudi 19 mars

1. Activité ritualisée

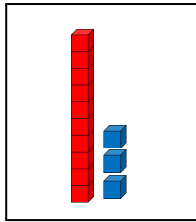
- Ecris en lettres

1 : **un**

2 : **deux**


- Pour chaque nombre dessine dans le cadre le bon nombre de dizaines et d'unités

exemple : 13

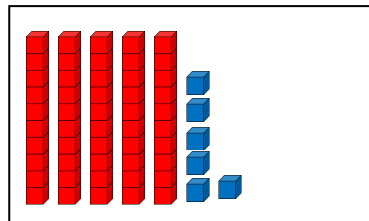


À ton tour

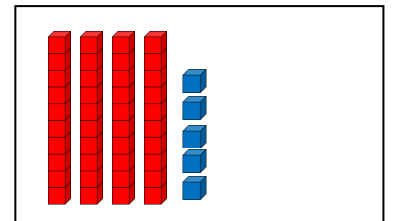
34



56



45



2. Calcul mental

Complète les additions suivantes

exemple : $1 + 3 = 4$

Combien faut-il
ajouter à 1 pour
avoir 4 ???

N'hésite pas à utiliser des jetons pour t'aider. Si tu n'en as pas demande à un adulte, un grand frère ou grande sœur de te donner des pâtes ou alors découpe des bouts de papier.

À ton tour

$1 + 5 = 6$

$7 + 3 = 10$

$4 + 5 = 9$

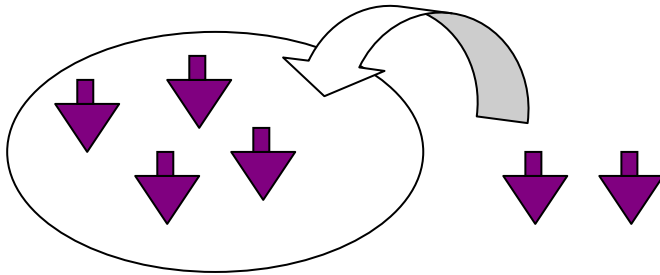
$2 + 9 = 11$

3. Résolution de problèmes

A l'aide d'un dessin ou un schéma puis d'un calcul résous le problème suivant :

Tom adore les toupies, il en a 4. Pour son anniversaire, son copain lui en offre 2.
Combien a-t-il de toupies maintenant ?

dessin ou schéma



calcul

$$4 + 2 = 6$$

phrase réponse

Maintenant, Tom a **6** toupies.

4. Apprentissage :

- Ecriture des nombres en lettres

9

neuf

14

quatorze

10

dix

18

dix-huit

Attention à bien respecter le lignage !

- Pyramide : complète les pyramides

exemple

