

Ma région : l'Île de France (1)



Thème 1
CM1

➤ Colorie la région Ile de France en **vert** et souligne en **rouge** la capitale régionale.

➤ Rédige une phrase qui situe cette région en France.

.....

.....

.....

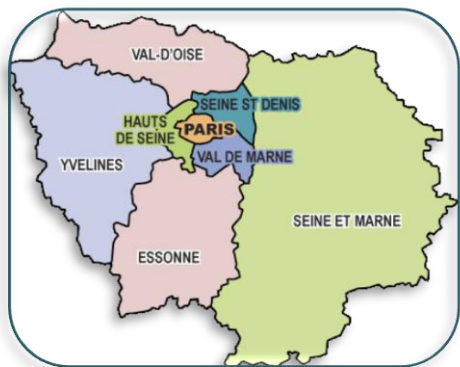
➤ Quelles sont les régions voisines ?

.....

.....

.....

Document 2 : Carte des départements de l'Île de France.



➤ Quels départements appartiennent à cette région ? Précise leur numéro.

.....

.....

.....

.....

Document 3 : L'Île de France en chiffres.

| Île de France | | |
|-----------------------|----------------------------|-------------------------------|
| Population en 2016 | 12 000 000 d'habitants | 1 ^{er} rang mondial |
| Superficie | 12 012 km ² | 3 ^{ème} rang mondial |
| Densité de population | 1 005 hab./km ² | |
| Préfecture de région | Paris | |


➤ A quel rang national se situe l'Île de France pour sa population ?

➤ Pour sa superficie ?

➤ Quelle ville fait l'identité de la région Ile-de-France ?

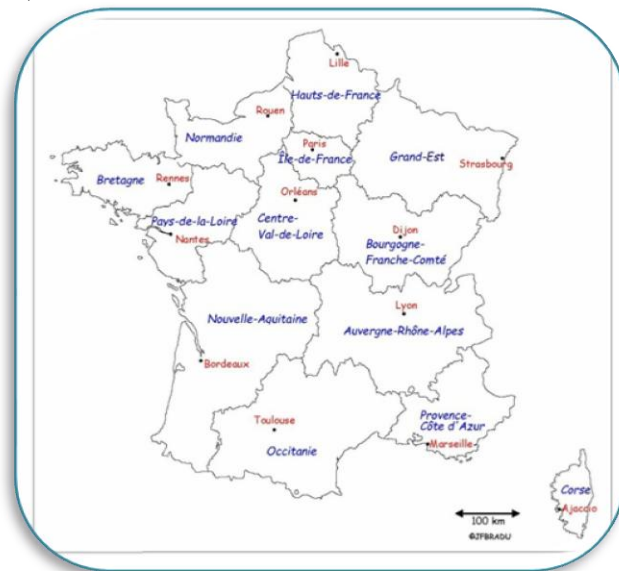
Document 4 : le logo de l'Île de France.

Chaque région possède un logo qui permet de l'identifier et d'exprimer ce qu'elle représente. Ce logo date de 2005. Il représente une étoile rouge à huit branches accolée des mots Ile-de-France de la même couleur. Les huit branches de l'étoile représentent les huit départements de la région. Ses habitants sont appelés les Franciliens.



➤ Colorie le logo de la région Ile-de-France comme indiqué.

Document 1 : Carte des nouvelles régions de France.
1^{er} juillet 2016





La région Ile-de-France est la région **la plus riche et la plus puissante de France** :
C'est la **région capitale**.

Elle exerce le pouvoir économique et politique et exerce une attraction culturelle et touristique très importante.

L'économie francilienne est une économie essentiellement de **services (économie tertiaire) qui accueille les sièges de grands groupes nationaux ou internationaux**

C'est la 1ère région pour le commerce et les transports, notamment avec les deux aéroports internationaux de **Roissy Charles de Gaulle (95) et Orly (94)**.

Elle est aussi le principal **centre industriel du pays qui s'est développé le long de la Seine**. Elle est **basée sur le domaine de la chimie, des nouvelles technologies**.

L'Ile-de-France est le 1er **espace céréalier de l'Union Européenne**.

Les champs de céréales sont associés à la betterave à sucre.

C'est une **agriculture industrielle basée sur des exploitations de grandes tailles et l'utilisation de grosses machines, d'engrais et de pesticides**.

➤ Pour chaque photo indique quelle branche économique est concernée : agriculture (A), services (S), tourisme (T), industrielle (I)



Le château de Versailles



Un champ de blé



Aéroport Charles de Gaulle



Usine



Tour Total à la Défense



Tour Eiffel