


Défi maths

2


Logique

① La fleuriste

Françoise a 3 sortes de fleurs :



Des tulipes




des marguerites



des roses




Elle veut faire des bouquets de 3 fleurs. En voici des exemples :




Combien de bouquets différents peut-elle faire ?



② Place et colorie les boules en t'aidant des indices suivants :

La boule  est plus près du cochonnet que la boule  , mais elle est plus loin que la boule  .

C'est la boule  qui est la plus proche du cochonnet.




Défi maths

2


Logique

① La fleuriste


Françoise a 3 sortes de fleurs :



Des tulipes




des marguerites



des roses




Elle veut faire des bouquets de 3 fleurs. En voici des exemples :




Combien de bouquets différents peut-elle faire ?



② Place et colorie les boules en t'aidant des indices suivants :

La boule  est plus près du cochonnet que la boule  , mais elle est plus loin que la boule  .

C'est la boule  qui est la plus proche du cochonnet.

