

**NIVEAU** : CM2

**Durée** : 2 x 45 min

**Discipline** : Géographie

**Titre de la séquence** : **Les frontières de l'Europe**

**Objectif du socle commun** : identifier sur une carte et connaître quelques caractères des grands ensembles physiques et humains de l'échelle locale à celle du monde

**Objectif des programmes** : Le territoire français dans l'Union européenne : les frontières de l'Europe


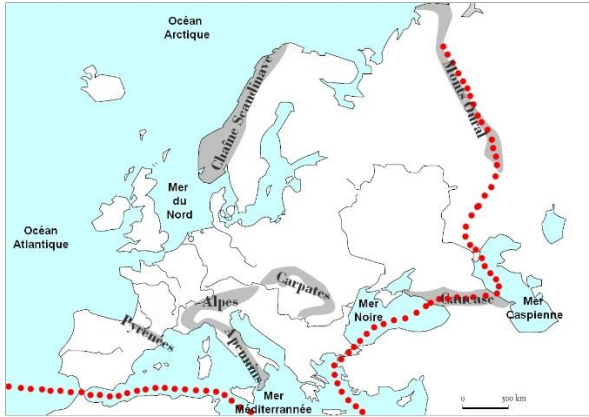
**Compétences travaillées** :

**Savoir** : ♦ connaître les frontières de l'Europe

**Savoir-faire** : ♦ étudier des cartes

♦ observer et analyser des cartes à différentes échelles

**Déroulement** :

Dispositif	Durée en min	Tâche - consigne	Matériel
<b>Séance 1</b>			
<b>Objectif</b> : Connaître les frontières naturelles de l'Europe			
collectif	15	<p>→ <b>Photo satellite : l'Europe</b></p>  <p>Observer la photo : C'est une photo satellite. <i>Questions</i> : Qu'est-ce qui est blanc ? (<i>des montagnes</i>) Bleu ? (<i>les mers / l'océan</i>) Quel continent est « collé » à l'Europe ? (<i>l'Asie</i>) <b>On va essayer de dessiner la limite entre l'Europe et l'Asie.</b> Quels éléments peuvent servir de frontières (<i>montagnes, fleuves, mers...</i>) → repérer ses éléments sur la photo satellite → donner les noms au fur et à mesure. → vérification avec la carte suivante</p> 	TBI

Individuel 25 Distribution d'une fiche de travail fiche élève


## Géographie :

### Les limites de l'Europe

#### 1. La carte de l'Europe

En t'aidant de la carte au tableau, complète la carte suivante :

- colorie les mers et l'océan en bleu pale,
- écris le nom des mers et de l'océan au bon endroit en bleu,
- colorie les massifs montagneux en vert clair,
- écris le nom des massifs montagneux en vert
- trace les limites de l'Europe en rouge



Document A : Carte physique de l'Europe

Quels massifs montagneux forment des frontières physiques de l'Europe ?

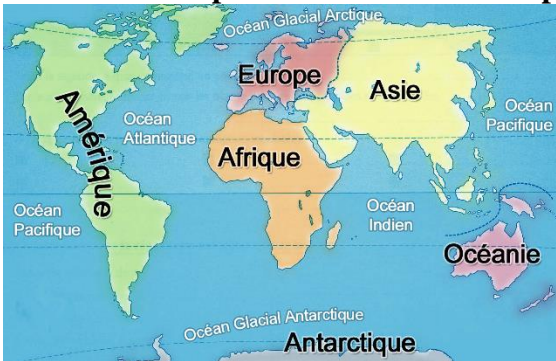

L'Europe (1), page 1

collectif 5 → correction collective de la question

### Séance 2

**Objectif :** Qu'est-ce que l'Europe ?

collectif 5 → Tableau comparatif des continents + planisphère à projeter TBI



Continent	Superficie (km²)	Population approchée (2013)	Nombre de pays
Afrique	30 065 000	1 094 737 000	54
Amérique du Nord	24 256 000	455 230 619	3
Amérique du Sud	17 819 000	404 903 000	12
Antarctique	13 209 000	1 000	
Asie	44 579 000	4 292 816 000	44
Europe	9 938 000	739 055 000	46
Océanie	7 687 000	32 000 000	14

Source : Worldatlas.com

→ repérer les océans et les continents  
 → remarques à faire :  
 Les 2 Amériques ne forment qu'un continent.  
 Pour parler de l'Asie et de l'Europe on parle parfois de l'Eurasie.

individuel 20

→ travail sur une fiche

2. L'Europe dans le monde

Observe ce tableau :

Continent	Superficie (km²)	Population approchée (2013)	Nombre de pays
Afrique	30 065 000	1 094 737 000	54
Amérique du Nord	24 256 000	455 230 619	3
Amérique du Sud	17 819 000	404 903 000	12
Antarctique	13 209 000	1 000	
Asie	44 579 000	4 292 816 000	44
Europe	9 938 000	739 056 000	46
Océanie	7 687 000	32 000 000	14

Source : Worldatlas.com

Document B : Comparaison des continents

Quel continent a la superficie la plus importante ?


Quel continent est le plus peuplé ?


Quel continent comporte le plus de pays ?


collectif 10

→ mise en commun  
→ étude de documents pour caractériser l'Europe :



Europe est une jeune princesse séduite par Zeus transformé en taureau blanc.



→ questions :

D'où vient le nom « Europe » ?


Que représente chaque étape du dessin de Plantu ?




L'empire romain englobe une grande partie de l'Europe



L'empire Napoléonien s'étend également sur une grande partie de l'Europe

→ lecture de la leçon

## **Géographie :** **Les limites de l'Europe**

L'Europe est un petit continent limité à l'ouest par l'Océan Atlantique, au sud par le Mer Méditerranée et au nord par l'Océan Arctique. Les limites à l'est sont plus floues car ce sont des limites terrestres.

Les pays européens partagent une culture commune héritée de l'Histoire ainsi que des valeurs communes comme les droits de l'Homme et la démocratie.

L'Europe a connu de nombreuses guerres mais l'Ouest de l'Europe connaît depuis 1945 une grande période de paix.

individuel

15

→ copie de la leçon

