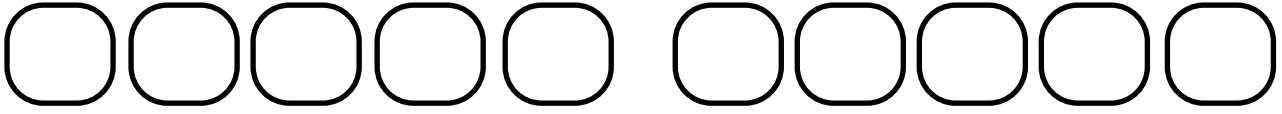


Ton prénom : _____

1. Calcul mental (table de 4, complément à une dizaine supérieure, soustraction, échanges)



2. Soustraction : recherche de compléments

► Ce train est composé de 14 wagons.

Combien de wagons sont déjà entrés dans le tunnel ?



.....

3. Soustraction : calcul réfléchi

► Calcule

30 - 5 =

30 - 20 =

30 - 18 =

63 - 5 =

63 - 15 =

63 - 45 =

48 - 24 =

83 - 75 =

73 - 54 =



4. Division : groupements par 2 et par 5

► Alex a 45 beaux cailloux. Il les range dans des boîtes en mettant 5 cailloux dans chaque boîte.



Combien lui faut-il de boîtes ?

.....



► Lisa a 18 images. Elle les range par paquets de 2.



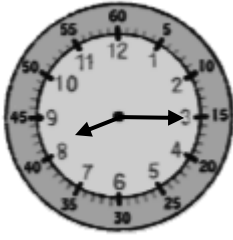
Combien peut-elle faire de paquets ?

.....



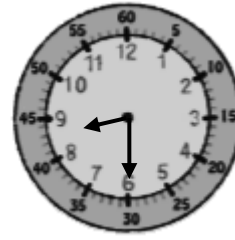
5. Horaires et durées en heures et minutes.

► Complète puis réponds à la question.



Papa part à la boulangerie pour acheter du pain

à



Il rentre à la maison

à

Combien de temps a-t-il mis ?

6. Longueur en m et cm.

► Voici le tableau des mesures de trois enfants.

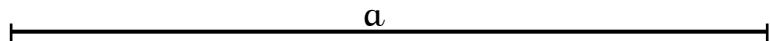


	taille
Zoé	129 cm
Lisa	1 m 14 cm
Nanie	1 m 31 cm

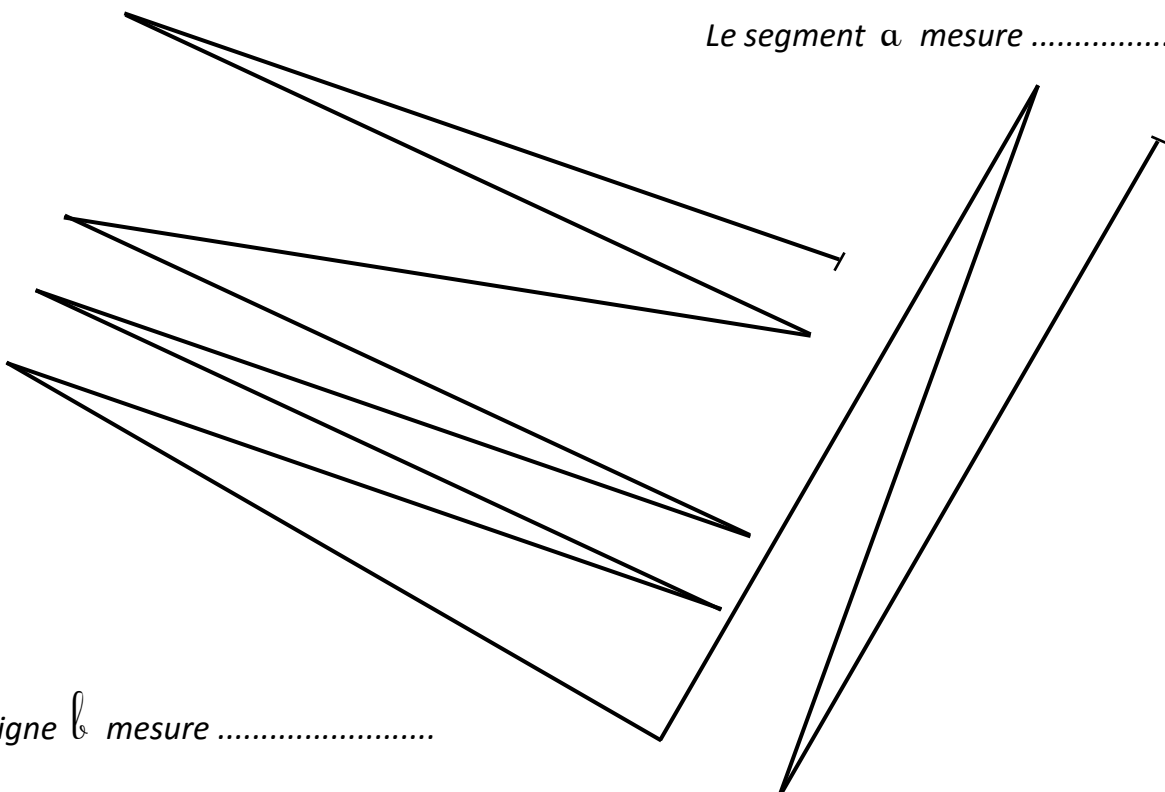
Range les élèves du plus petit au plus grand.

.....

► Complète.



Le segment a mesure



La ligne b mesure