

Numération- Les fractions (1)



CM2

Compétences :	A+	A	PA	NA
Lire et écrire les fractions.				
Partager l'unité, coder une fraction.				
Repérer et placer une fraction sur une droite graduée.				
Commentaires :	Note :			

1/ écris les fractions dictées.

2/ écris en chiffres.

Un quart

Trois demis

Sept tiers

Six huitièmes

Quatre sixièmes

Sept douzièmes

neuf septièmes

vingt centièmes

trois cinquièmes

huit dixièmes

quinze tiers

un neuvième

3/ écris en lettres.

$\frac{4}{6}$

$\frac{5}{3}$

$\frac{11}{10}$

$\frac{5}{4}$

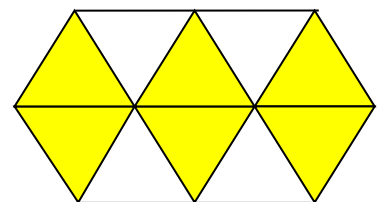
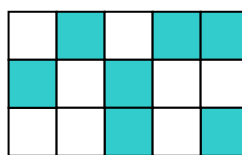
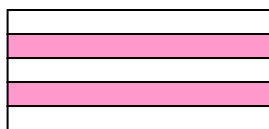
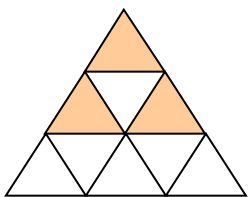
$\frac{5}{8}$

$\frac{19}{2}$

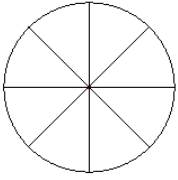
$\frac{15}{30}$

$\frac{12}{16}$

4/ écris les fractions représentées par les parties colorées.



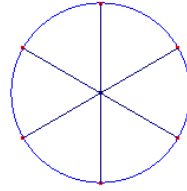
5/ Colorie pour obtenir la fraction demandée.



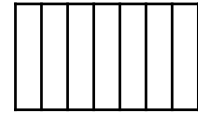
$$\frac{5}{8}$$



$$\frac{7}{10}$$

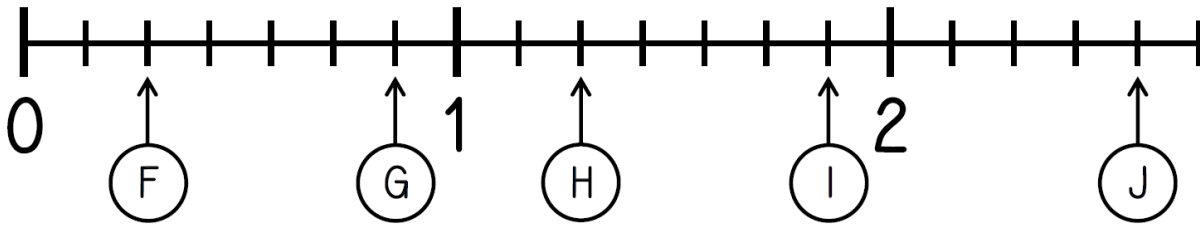
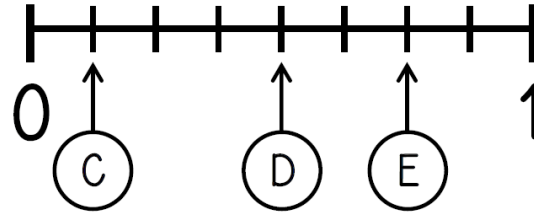
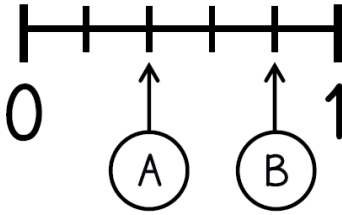


$$\frac{4}{6}$$



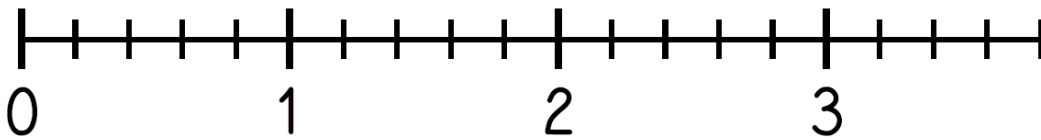
$$\frac{3}{7}$$

6/ écris la fraction qui correspond à chaque lettre.



7/ Place les fractions sur la droite graduée.

$$\frac{2}{5} \quad \frac{5}{5} \quad \frac{10}{5} \quad \frac{4}{5} \quad \frac{13}{5}$$



$$\frac{6}{8} \quad \frac{9}{8} \quad \frac{16}{8} \quad \frac{1}{2} \quad 1 + \frac{3}{8}$$

