
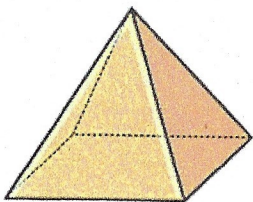



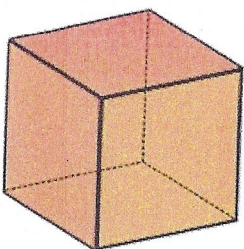
CE2 Les solides

Maths
Fiche n°9

1 Découpe et colle toutes les faces du solide. Complète le tableau.



Nombre de faces	Nombre d'arêtes	Nombre de sommets
5	8	5

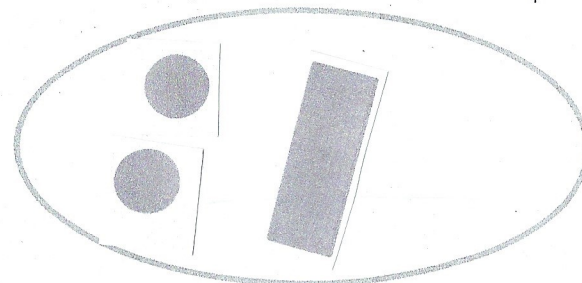



Nombre de faces	Nombre d'arêtes	Nombre de sommets
6	12	8

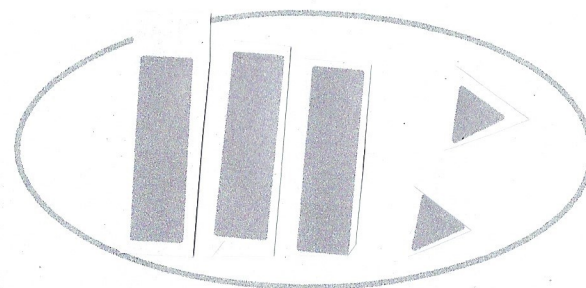
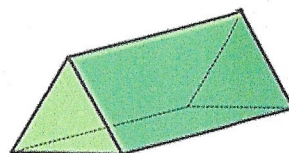
CE2 Les solides

Maths
Fiche n°10

2 Découpe et colle toutes les faces du solide. Complète le tableau.



Nombre de faces	Nombre d'arêtes	Nombre de sommets
3	0	0



Nombre de faces	Nombre d'arêtes	Nombre de sommets
5	9	6

1 Nomme les solides que tu connais.



LA PYRAMIDE



LE CYLINDRE



LE CUBE



LE CÔNE



LA SPHÈRE



LE PAVÉ DROIT

1 Entoure la ou les bonnes réponses.

▲ Je n'ai pas de sommet.

LE CÔNE
LA PYRAMIDE

LA SPHÈRE
LE PAVÉ
DROIT

LE CUBE
LE CYLINDRE

▲ J'ai un seul sommet.

LE CÔNE
LA PYRAMIDE

LA SPHÈRE
LE PAVÉ
DROIT

LE CUBE
LE CYLINDRE

▲ J'ai au moins une face qui est un cercle.

LE CÔNE
LA PYRAMIDE

LA SPHÈRE
LE PAVÉ
DROIT

LE CUBE
LE CYLINDRE

▲ J'ai 6 faces.

LE CÔNE
LA PYRAMIDE

LA SPHÈRE
**LE PAVÉ
DROIT**

LE CUBE
LE CYLINDRE