


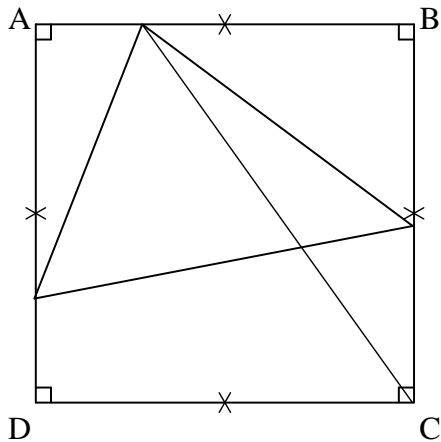
Construction et reproduction - évaluation CFG

Résoudre des problèmes de reproduction, de construction


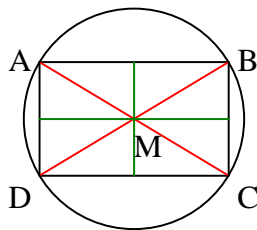
Avoir au moins 15 sur 20

validé : oui - non

1) *Reproduis la figure de gauche.* 15



2) *Reproduis la figure en l'agrandissant par 2.* 15



Date :


Prénom :

3) Réalise le programme de construction ci-dessous.

/5

Programme à réaliser

- Trace un rectangle EFGH avec ces mesures : $EF = 6\text{cm}$; $FG = 4\text{cm}$.
- Trace en rouge le segment [FH].
- Place le point I milieu de [EH] et le point J milieu de [FG].
- Trace en vert le segment [IJ].



4) Réalise le programme de construction ci-dessous.

/5

Programme à réaliser

- Trace un carré ABCD de côté 5cm.
- Place le point I milieu de [AB].
- Place le point J milieu de [BC].
- Place le point K milieu de [CD].
- Place le point L milieu de [DA].
- Trace en rouge le quadrilatère IJKL.

