

ECRIS EN  
Chiffres

1

Deux cent soixante-dix



ECRIS EN  
Chiffres

2

Quatre cent dix-huit



ECRIS EN  
Chiffres

3

Sept cent cinq



ECRIS EN  
Chiffres

4

Neuf cent quatre-vingt-  
dix-sept



ECRIS EN  
Chiffres

5

Six cent quarante



ECRIS EN  
Chiffres

6

Trois cents vingt-sept



ECRIS EN  
Chiffres

7

Cinq cent onze



ECRIS EN  
Chiffres

8

Trois cent soixante-et-  
un



ECRIS EN  
Chiffres

9

Quatre-vingt-dix-huit



ECRIS EN  
Chiffres

10

Sept cent sept



ECRIS EN  
Chiffres

11

Cinq cent neuf



ECRIS EN  
Chiffres

12

Huit cent trente



ECRIS EN  
Chiffres

13

Deux cent vingt-deux



ECRIS EN  
Chiffres

14

Cent quinze



ECRIS EN  
Chiffres

15

Cent soixante-et-un



ECRIS EN  
Chiffres

16

Trois cent soixante-dix



ECRIS EN  
Chiffres

17

Huit cent quatre-vingt-  
dix



ECRIS EN  
Chiffres

18

Neuf cent soixante-  
quinze



ECRIS EN  
Chiffres

19

Quatre cent quarante



ECRIS EN  
Chiffres

20

Six cent cinquante-deux



ECRIS EN  
Chiffres

21

Neuf cent seize



ECRIS EN  
Chiffres

22

Mille



ECRIS EN  
Chiffres

23

Deux cent vingt



ECRIS EN  
Chiffres

24

Quatre cent trente-  
et-un



ECRIS EN  
Chiffres

25

Cent dix



ECRIS EN  
Chiffres

26

Cent quarante quatre



ECRIS EN  
Chiffres

27

Soixante-seize



Trouve le plus grand

1

453  
443  
523  
123



Trouve le plus grand

2

864  
875  
854  
800



Trouve le plus grand

3

595  
598  
596  
545



Trouve le plus grand

4

945  
954  
654  
955



Trouve le plus grand

5

583  
586  
588  
875



Trouve le plus grand

6

660  
606  
603  
630



Trouve le plus grand

7

421  
428  
423  
492



Trouve le plus grand

8

485  
487  
448  
446



Trouve le plus grand

9

965  
966  
985  
975



Trouve le plus grand

10

589  
579  
599  
569



Trouve le plus grand

11

792  
715  
723  
700



Trouve le plus grand

12

212  
421  
652  
248



Trouve le plus grand

13

966  
999  
988  
977



Trouve le plus grand

14

567  
558  
956  
565



Trouve le plus grand

15

665  
659  
633  
611



Trouve le plus grand

16

654  
626  
623  
655



Trouve le plus grand

17

465  
489  
412  
455



Trouve le plus grand

18

169  
233  
129  
155



Trouve le plus grand

19

756  
395  
330  
888



Trouve le plus grand

20

812  
820  
809  
890



Trouve le plus grand

21

785  
784  
758  
748



Trouve le plus grand

22

440  
450  
404  
540



Trouve le plus grand

23

540  
541  
504  
547



Trouve le plus grand

24

60  
660  
600  
606



Trouve le plus grand

25

158  
128  
184  
146



Trouve le plus grand

26


390  
389  
392  
397



Trouve le plus grand

27

5  
50  
500  
550



**LIS LE  
NOMBRE**

1

756



**LIS LE  
NOMBRE**

2

808



**LIS LE  
NOMBRE**

3

230



**LIS LE  
NOMBRE**

4

780



**LIS LE  
NOMBRE**

5

106



**LIS LE  
NOMBRE**

6

208



**LIS LE  
NOMBRE**

7

985



**LIS LE  
NOMBRE**

8

450



**LIS LE  
NOMBRE**

9

520



**LIS LE  
NOMBRE**

10

667



**LIS LE  
NOMBRE**

11

815



**LIS LE  
NOMBRE**

12

418



**LIS LE  
NOMBRE**

13

608



**LIS LE  
NOMBRE**

14

910



**LIS LE  
NOMBRE**

15

1000



**LIS LE  
NOMBRE**

16

235



**LIS LE  
NOMBRE**

17

750



**LIS LE  
NOMBRE**

18

704





**LIS LE  
NOMBRE**

19

825



**LIS LE  
NOMBRE**

20

611



**LIS LE  
NOMBRE**

21

713



**LIS LE  
NOMBRE**

22

219



**LIS LE  
NOMBRE**

23

105



**LIS LE  
NOMBRE**

24

780



**LIS LE  
NOMBRE**

25

340



**LIS LE  
NOMBRE**

26

702



**LIS LE  
NOMBRE**

27

697



Trouve le  
nombre caché

1

*4 c 2 d 5 u*



Trouve le  
nombre caché

2

*1 c 5 d 3 u*



Trouve le  
nombre caché

3

*5 c 6 d 1 u*



Trouve le  
nombre caché

4

*4 c 8 d*



Trouve le  
nombre caché

5

*8 c 6 d*



Trouve le  
nombre caché

6

*7 c 2 d*



Trouve le  
nombre caché

7

*1 c 5 u*



Trouve le  
nombre caché

8

*2 c 3 u*



Trouve le  
nombre caché

9

*4 c 6 u*



Trouve le  
nombre caché

10

$$800 + 20 + 6$$



Trouve le  
nombre caché

11

$$100 + 60 + 4$$



Trouve le  
nombre caché

12

$$500 + 8$$



Trouve le  
nombre caché

13

$$700 + 60$$



Trouve le  
nombre caché

14

$$900 + 50$$



Trouve le  
nombre caché

15

$$300 + 5$$



Trouve le  
nombre caché

16

$$400 + 30$$



Trouve le  
nombre caché

17

$$500 + 10 + 4$$



Trouve le  
nombre caché

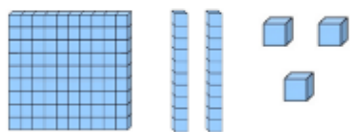
18

$$100 + 9$$



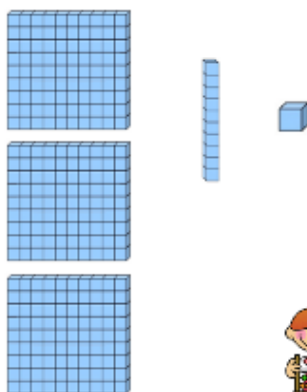
Trouve le nombre caché

19



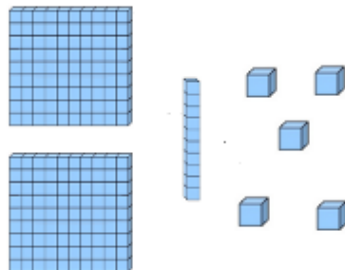
Trouve le nombre caché

20



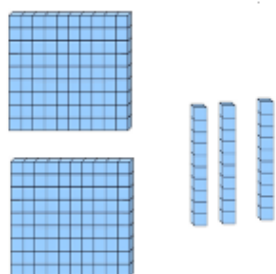
Trouve le nombre caché

21




Trouve le nombre caché

22



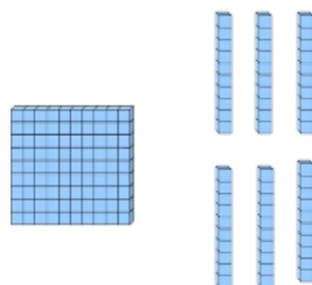
Trouve le nombre caché

23



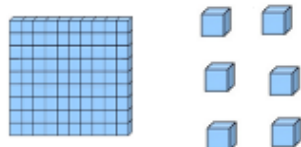
Trouve le nombre caché

24



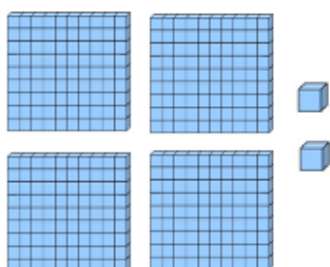
Trouve le nombre caché

25




Trouve le nombre caché

26



Trouve le nombre caché

27



## Feuille de score

Lis le nombre :

--	--	--	--	--

Trouve le plus grand :

--	--	--	--	--

Ecris en chiffres :

--	--	--	--	--

Trouve le nombre caché:

--	--	--	--	--

## Feuille de score

Lis le nombre :

--	--	--	--	--

Trouve le plus grand :

--	--	--	--	--

Ecris en chiffres:

--	--	--	--	--

Trouve le nombre caché:

--	--	--	--	--

## Feuille de score

Lis Le nombre :

--	--	--	--	--

Trouve le plus grand :

--	--	--	--	--

Ecris en chiffres :

--	--	--	--	--

Trouve le nombre caché:

--	--	--	--	--

## Feuille de score

Lis Le nombre :

--	--	--	--	--

Trouve le plus grand :

--	--	--	--	--

Ecris en chiffres :

--	--	--	--	--

Trouve le nombre caché:

--	--	--	--	--

Règle du jeu : placer son pion sur n'importe quelle case. Lancer le dé et déplacer son pion. Lire le thème sur le plateau de jeu et piocher une carte correspondante, répondre à la question. Si la réponse est correcte, cocher une case dans sa feuille de score.