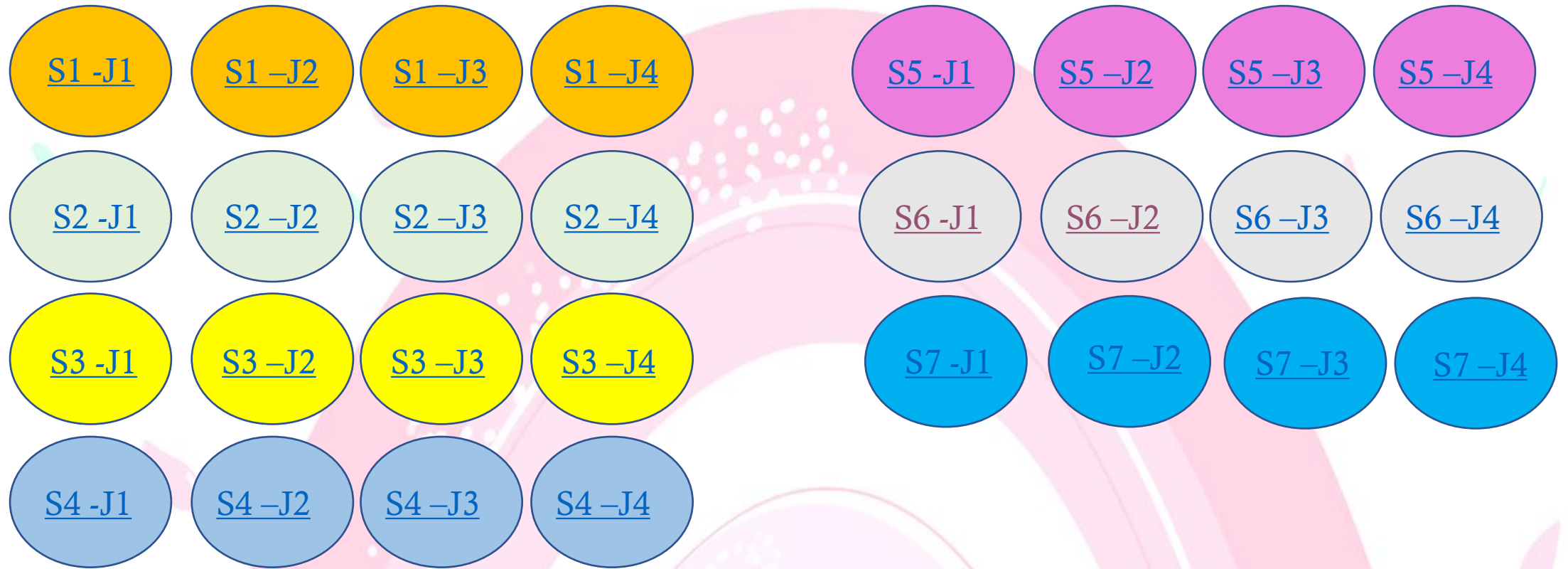


Mes petits problèmes quotidiens






PROBLEMES CP

PROBLEME DE TRANSFORMATION

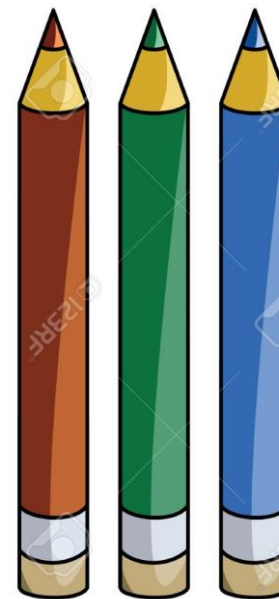

**→ Recherche de la
quantité totale**

Léo a 3 cubes. Sarah lui donne 5 cubes. Combien Léo a-t-il de cubes maintenant ?



TOTAL=

Aya a 7 crayons. Charlie lui donne 3 crayons. Combien Louise a-t-elle de crayons maintenant?



--	--

TOTAL=

Il y a 4 enfants dans le bus. Un enfant monte . Combien d'enfants sont dans le bus maintenant?



--	--

TOTAL=

Emma a 4 cubes. José lui en donne 3 cubes. Combien Emma a-t-elle de cubes maintenant?



TOTAL=	


A toi de jouer ! Tu
peux prendre du
matériel si tu en as
besoin.



Dominique a nettoyé 3 classes ce matin , puis 4 classes cet après-midi. Trouve le nombre de classes qui ont été nettoyées en tout?

TOTAL=


6 enfants chantent, 2 enfants arrivent. Combien d'enfants chantent maintenant?



--	--

TOTAL=

Liam a 4 cubes. Lina lui en donne 2 cubes. Combien Liam a-t-il de cubes maintenant?



TOTAL=	



Il y a 5 enfants dans le bus. 3 enfants montent à l'arrêt.
Combien d'enfants sont dans le bus maintenant?



--	--

TOTAL=

Mamie plante 4 clous. Puis elle en plante 5 autres. Quelle quantité de cubes plante-t-elle en tout?



--	--

TOTAL=

A toi de jouer ! Tu
peux prendre du
matériel si tu en as
besoin.



5 enfants jouent au football. 4 enfants entrent sur le terrain. Combien d'enfants jouent maintenant?

TOTAL=



PROBLEME DE TRANSFORMATION

**→ Recherche de la
quantité totale**

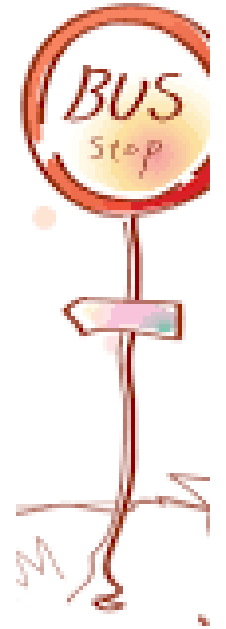
Nour a 8 billes. Elle donne 2 billes à Noa. Combien Nour a-t-elle de billes maintenant?



--	--

TOTAL=

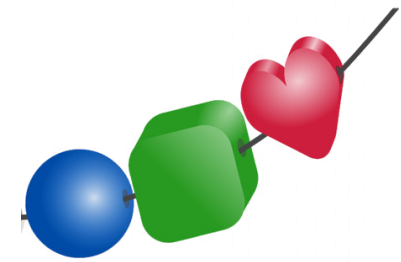
Il y a 5 enfants dans le bus. 3 enfants montent à l'arrêt.
Combien d'enfants sont dans le bus maintenant?



--	--

TOTAL=

Mamie a 6 perles . Elle perd 3 perles. Trouve le nombre de perles qu'il lui reste.




--	--

TOTAL=

Maman achète un paquet de 10 clous. En chemin, 3 clous tombent du sachet. Combien reste t-il de clous?

CLOUS



TOTAL=

A toi de jouer ! Tu
peux prendre du
matériel si tu en as
besoin.



Il y a 8 vitres à laver. Papa en a déjà lavé 4. Combien de vitres reste-t-il à laver?

TOTAL=

Nour a 7 cartes. Elle en donne 3 à Sacha. Combien reste-t-il de cartes à Nour?



--	--

TOTAL=

Sarah a 6 billes . José lui prend 2 billes. Combien Sarah a-t-elle de billes maintenant?



--	--

TOTAL=

Il y a 4 enfants dans le bus. 2 enfants descendent à l'arrêt.
Combien d'enfants sont dans le bus maintenant?



--	--

TOTAL=

Ali a 5 billes , il donne 3 billes à Paula . Combien Ali a-t-il de billes maintenant?



--	--

TOTAL=

A toi de jouer ! Tu
peux prendre du
matériel si tu en as
besoin.



Tatie a un bracelet de 7 perles. Le bracelet se casse et tatie perd 5 perles. Combien reste-t-il de perles?

TOTAL=

PROBLEME DE TRANSFORMATION


**→ Recherche de la
quantité totale**

Ali a 5 cubes , Aya lui donne 2 cubes. Combien Ali a-t-il de cubes maintenant?



TOTAL=

Dans la forêt , Liam ramasse 10 noisettes. Puis il tombe et en perd 3. Combien de noisettes lui reste-t-il?



--	--



TOTAL=

Il y a 4 enfants dans le bus. 5 enfants montent à l'arrêt.
Combien d'enfants sont dans le bus maintenant?



TOTAL=	

Dans sa trousse, Louise a 7 crayons. Elle en prête 3 à Sacha. Combien de crayons reste-t-il à Louise?



--	--

TOTAL=

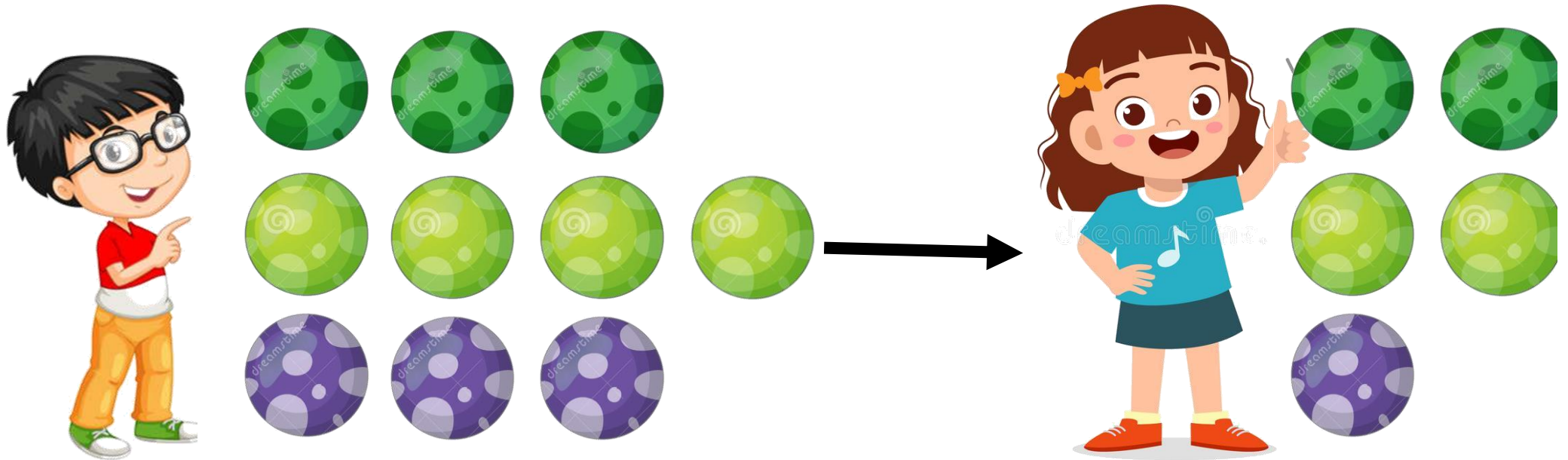
A toi de jouer ! Tu
peux prendre du
matériel si tu en as
besoin.



5 enfants jouent au football. 3 enfants entrent sur le terrain. Combien d'enfants jouent maintenant sur le terrain?

TOTAL=

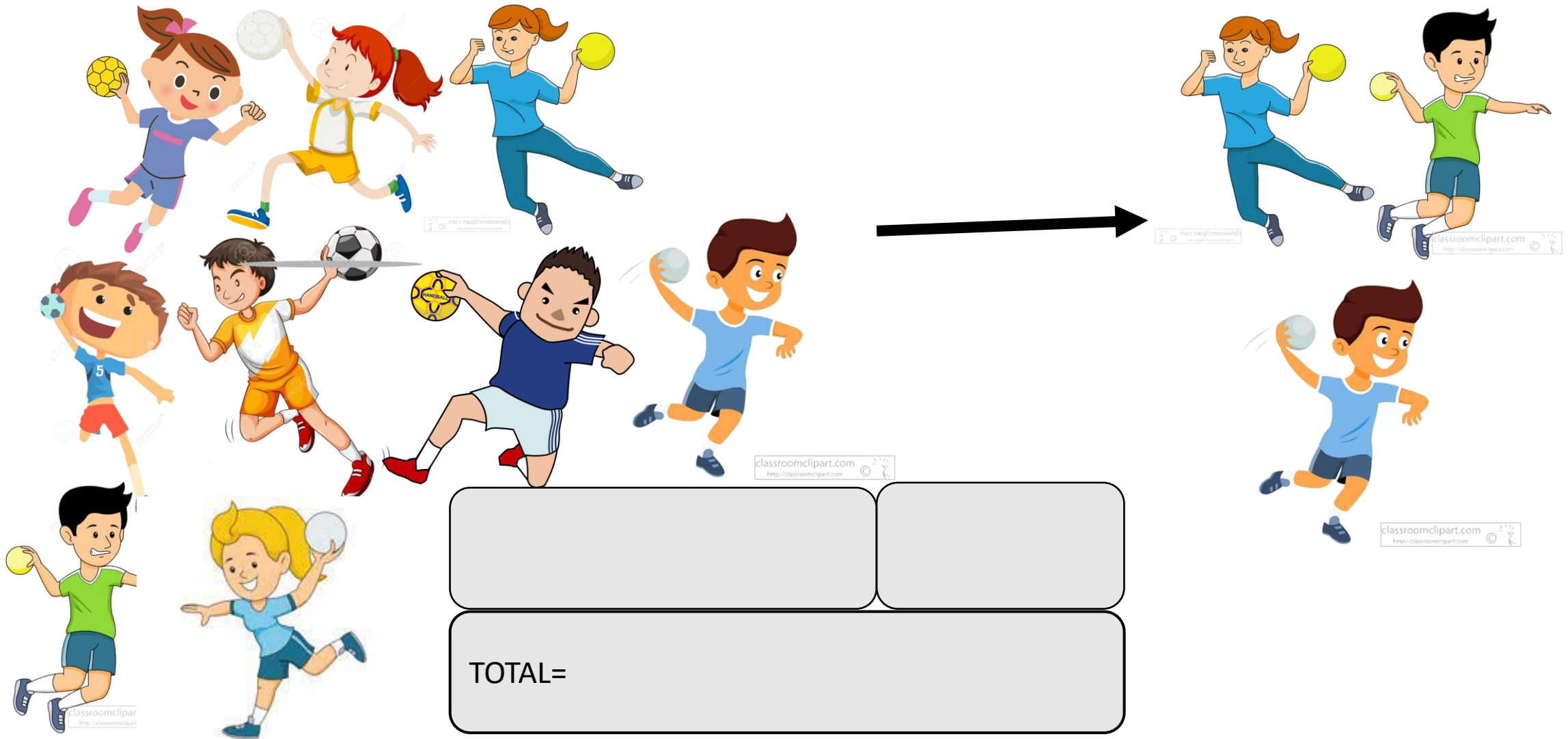
Ali a 10 billes. Il donne 5 billes à Paola. Combien Ali a-t-il de billes maintenant?



--	--

TOTAL=


9 enfants jouent au handball. 3 enfants sortent du terrain. Combien d'enfants jouent maintenant sur le terrain?



--	--

TOTAL=

Sara a 8 crayons. La maitresse lui en donne 2. Calcule le nombre de crayons que Sara possède maintenant?



TOTAL=	

Le matin, Catherine nettoie les 3 classes de CP , puis l'après-midi elle nettoie les 2 classes de CE1. Combien de classes ont été nettoyées en tout?



TOTAL=

A toi de jouer ! Tu
peux prendre du
matériel si tu en as
besoin.




**Il y a 7 personnes dans le bus, 2 personnes descendent.
Combien y'a-t-il de personnes dans le bus maintenant?**

TOTAL=

PROBLEME DE COMPARAISON

**→ Recherche de
la comparaison
positive**


Tom a 2 cousines. Louis en a 6. Qui a le plus de cousines?
Combien de plus?



--	--

TOTAL=



Noa a 4 livres sur les animaux. Sa sœur en a 7. Qui a le plus de livres? Combien de plus?



--	--

TOTAL=

Louise mange 5 cerises. Charlie en mange 2. Qui mange le plus de cerises? Combien de plus?



TOTAL=	

Julia a 10 euros. Sacha a 6 euros. Qui a le plus d'euros?
Combien de plus?



TOTAL=	

A toi de jouer ! Tu
peux prendre du
matériel si tu en as
besoin.



Pendant la course longue, Jasmine parcourt 6 tours et Léo parcourt 2 tours. Qui parcourt le plus de tours? Combien de plus?

--	--

TOTAL=

Léa achète un jeu à 5€ . Sandro paye 9€ pour le même jeu. Qui paye le plus? Combien de plus?



TOTAL=	

Louise a 7 ans. Son frère a 3 ans. Qui est le plus âgé? De combien d'années en plus?



7 ans



3 ans

TOTAL=	


José réalise une tour de 9 cubes. Emma réalise une tour de 6 cubes. Qui a la plus grande tour? Combien de cubes en plus?



--	--

TOTAL=

Tom mange 6 cerises. Aya en mange 4. Qui a mangé le plus de cerises? Combien de plus?



--	--

TOTAL=

A toi de jouer ! Tu
peux prendre du
matériel si tu en as
besoin.



La petite voiture de Lina mesure 7 cm , celle de Liam mesure 5 cm. Qui a la plus grande voiture? Combien de cm en plus?


--	--

TOTAL=

PROBLEME DE COMPARAISON

**→ Recherche de
la comparaison
négative**


Paula a 10 voitures. Noah en a 5. Qui a le moins de voitures?
Combien de moins?



--	--

TOTAL=

Louise a 8 cartes. Ali en a 6. Qui a le moins de cartes? Combien de moins?



--	--

TOTAL=

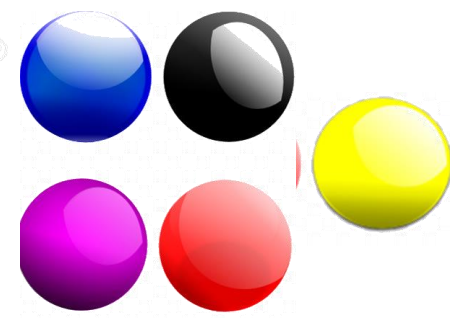

Paola a 7 feutres. Sacha en a 9. Qui a le moins de feutres?
Combien de moins?



--	--

TOTAL=

Tiago a 9 billes. Léa en a 5. Qui a le moins de billes? Combien de moins?



TOTAL=	

A toi de jouer ! Tu
peux prendre du
matériel si tu en as
besoin.




Louise a 8 euros. Noah a 3 euros. Qui a le moins d'euros?
Combien de moins?

--	--

TOTAL=

Jasmine possède 3 fleurs. Léo en a 8. Qui possède le moins de fleurs? Combien de moins?



TOTAL=	


José a 5 crayons. Sarah en a 8. Qui a le moins de crayons?
Combien de moins?



--	--

TOTAL=

Liam a 10 voitures. Charlotte en a 1. Qui a le moins de voitures?
Combien de moins?





TOTAL=

Célia mange 10 noisettes. La maitresse en mange 4. Qui mange le moins de noisettes? Combien de moins?



Célia



--	--

TOTAL=

A toi de jouer ! Tu
peux prendre du
matériel si tu en as
besoin.



Tom a 6 voitures. Lina en a 10. Quel enfant a le moins de voitures? Combien de moins?

--	--

TOTAL=

**PROBLEME DE LA
PARTIE DU TOUT
→ Recherche de
la quantité totale**



Sarah a 7 billes. Léo a 3 billes. Combien de billes ont-ils ensemble?



--	--


TOTAL=

Liam a 3 cubes. Emma en a 5. Combien de cubes ont-ils ensemble?



TOTAL=	

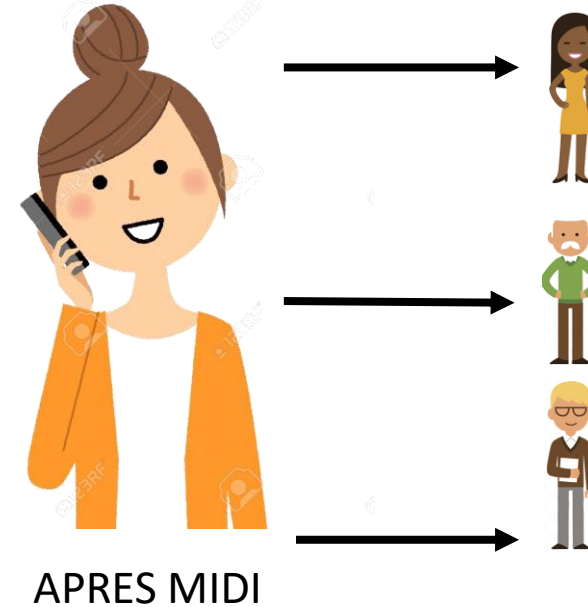

Il y a 6 enfants avec des lunettes et 4 enfants sans lunettes.
Combien y'a-t-il d'enfants en tout?



--	--

TOTAL=

Pour son travail, maman téléphone a 4 clients le matin et à 3 clients l'après-midi. Combien maman a-t-elle appelé de clients?



--	--

TOTAL=

A toi de jouer ! Tu
peux prendre du
matériel si tu en as
besoin.



Dans une classe, 4 enfants mangent à la cantine, dans l'autre classe 5 enfants mangent à la cantine. Combien d'enfants mangent à la cantine en tout?

--	--

TOTAL=

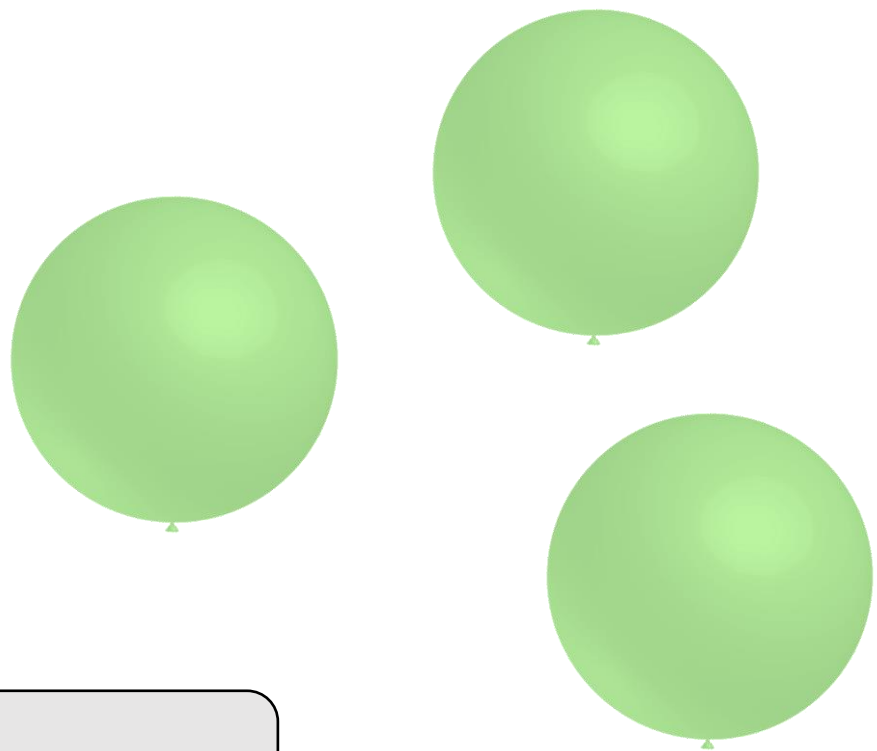

Dans la classe , il y a 5 enfants qui portent une montre et 8 enfants qui n'en portent pas. Combien y'a-t-il d'élèves en tout?



--	--

TOTAL=

Pour jouer dans la cour, il y a 5 ballons jaunes et 3 ballons verts. Combien y'a-t-il de ballons en tout?



--	--

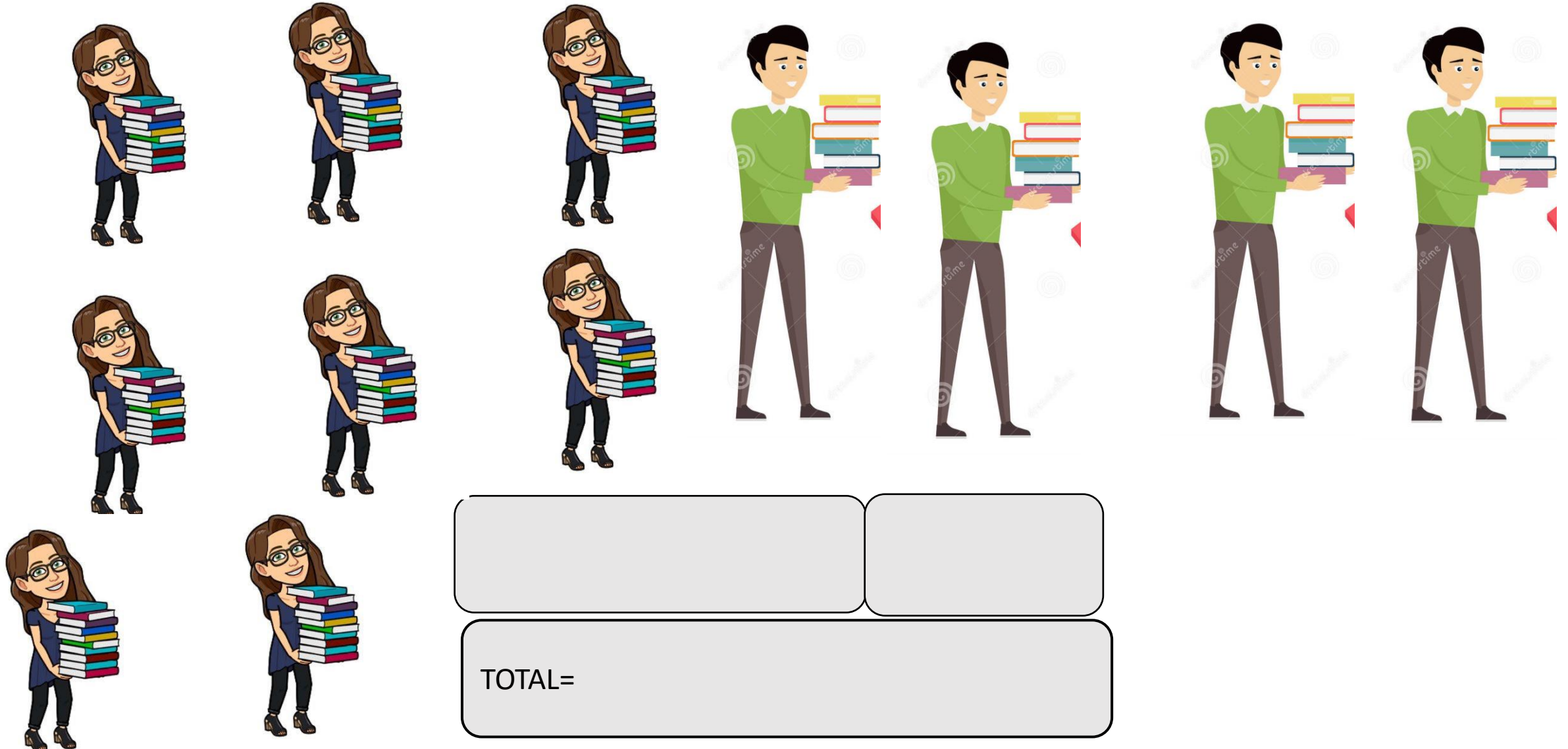
TOTAL=

Aya a 5 bagues et sa sœur en a 4. Combien ont-elles de bagues en tout?



TOTAL=

Dans l'école il y a 8 maitresses et 4 maitres. Combien y'a-t-il d'enseignants en tout?



--	--

TOTAL=

A toi de jouer ! Tu
peux prendre du
matériel si tu en as
besoin.



Sacha a 5 crayons et 4 feutres. Quelle est la quantité totale d'outils qu'il a pour colorier?

--	--

TOTAL=



PROBLEME DE REVISIONS SANS DESSIN

L'équipe des bleus a 8 points. Elle gagne encore 2 points.
Calcule son score final.

TOTAL=	

Ali a 6 crayons. Il perd 2 crayons. Combien lui reste t'il de crayons ?

TOTAL=	

Louise a 11 euros. Noah a 9 euros. Combien d'euros Noah a-t-il de moins que Louise?

TOTAL=	

Aya a déjà 3 cartes. Sa mamie lui en donne 7. Combien Aya a-t-elle de cartes maintenant?

TOTAL=	

Il y a 3 fleurs rouges et 8 fleurs jaunes dans le vase.
Calcule combien il y a de fleurs dans le vase?

--	--

TOTAL=

Tonton achète 3 pommes et 4 bananes. Combien a-t-il acheté de fruits en tout?

TOTAL=	

Lola a 12 noix. Elle en donne 5 à Charlie. Combien de noix reste t'il à Lola?

--	--

TOTAL=

Dans le tiroir il y a 5 fourchettes et 6 couteaux. Combien y'a-t-il de couverts en tout?

TOTAL=	

Papa a 8 pommes , il en utilise 4 dans une tarte. Combien de pommes lui reste t'il?

TOTAL=	

**Paola doit résoudre 8 problèmes, elle en a déjà résolu 3.
Combien lui reste t'il de problèmes à résoudre?**

--	--

TOTAL=
