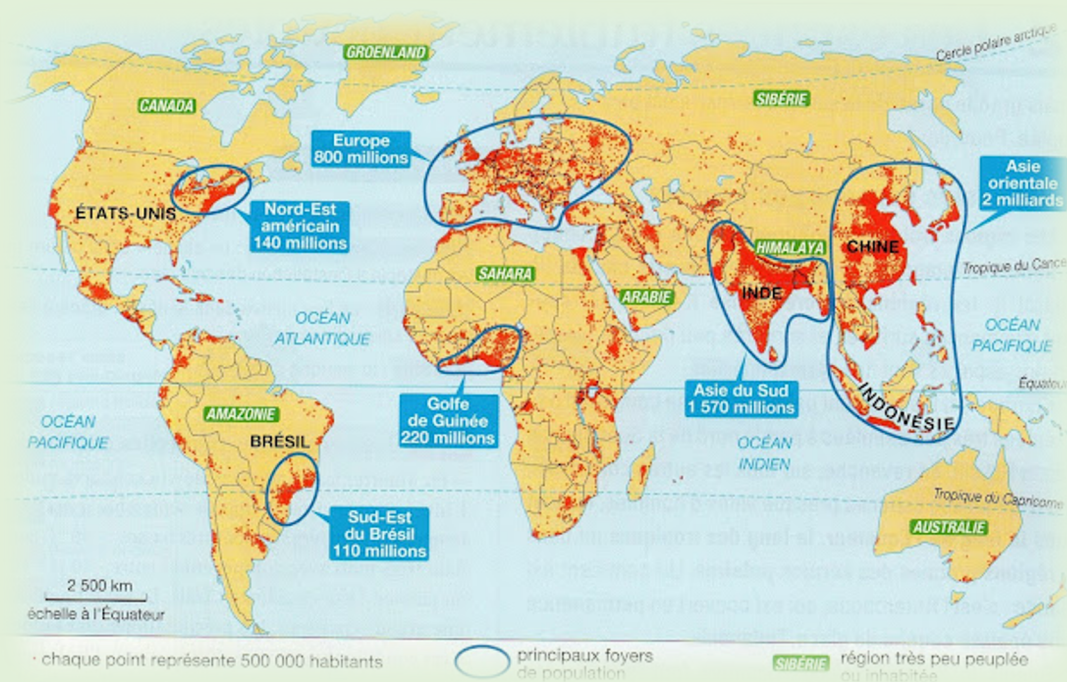



La répartition de la population mondiale



Etudes de documents

Source documents : Hatier

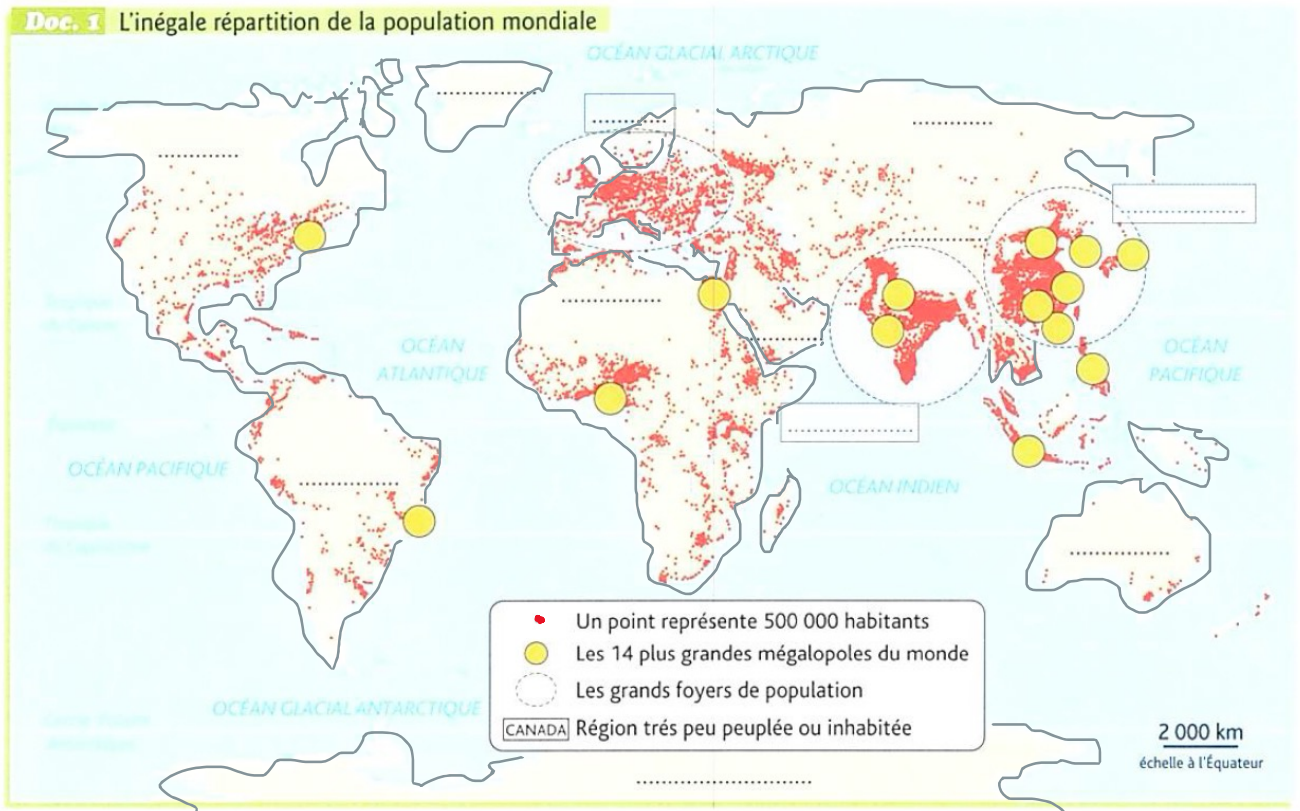
P'tit blog de Segpa



Où les femmes et les hommes vivent-ils sur la Terre?

Compétences:

Se repérer dans l'espace en complétant un planisphère



1). Dans la légende du planisphère, entoure la signification d'un point sur la carte

2). Sur la carte et en légende, entoure en vert les trois principaux foyers de population, puis écris leur nom:

Asie du Sud - Asie de l'Est - Europe

3). A l'aide du tableau, reporte sur la carte les numéros des 14 plus grandes mégapoles du monde dans la puce qui convient.

4). Quel continent concentre le plus de très grandes mégapoles ?

.....

5). Ecris sur la carte le nom des régions ou pays peu peuplés en raison de leurs contraintes naturelles:

Arizona - Amazonie - Australie - Sibérie - Antarctique - Canada - Sahara - Himalaya - Arabie

Rang	Mégapoles	Population (en millions d'hab.)
1	Delta de la Rivière des Perles (Chine)	65,7
2	Tokyo (Japon)	42,8
3	São Paulo (Brésil)	36,3
4	Jakarta (Indonésie)	35,1
5	Delhi (Inde)	26,4
6	Shanghai (Chine)	26,3
7	Séoul (Corée du Sud)	25,5
8	Le Caire (Égypte)	24,4
9	Mumbai (Inde)	24,3
10	Manille (Philippines)	24,2
11	New York (États-Unis)	23,5
12	Guangzhou (Chine)	23,4
13	Lagos (Nigeria)	22,8
14	Beijing (Chine)	21,5



- Une **mégapole** est une ville de plus de 10 millions d'habitants.
- Un **foyer de population** est une région du monde concentrant un grand nombre d'habitants.

Rang	Mégapoles	Population (en millions d'hab.)
1	Delta de la Rivière des Perles (Chine)	65,7
2	Tokyo (Japon)	42,8
3	São Paulo (Brésil)	36,3
4	Jakarta (Indonésie)	35,1
5	Delhi (Inde)	26,4
6	Shanghai (Chine)	26,3
7	Séoul (Corée du Sud)	25,5
8	Le Caire (Égypte)	24,4
9	Mumbai (Inde)	24,3
10	Manille (Philippines)	24,2
11	New York (États-Unis)	23,5
12	Guangzhou (Chine)	23,4
13	Lagos (Nigeria)	22,8
14	Beijing (Chine)	21,5

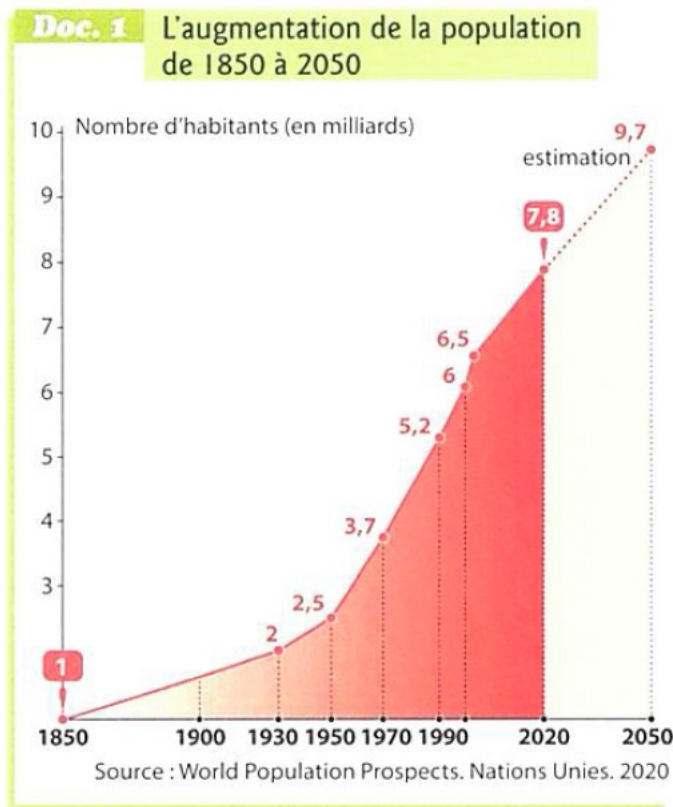


- Une **mégapole** est une ville de plus de 10 millions d'habitants.
- Un **foyer de population** est une région du monde concentrant un grand nombre d'habitants.

Comment évolue le nombre d'habitants dans le monde ?

Compétences:

Etudier un graphique et compléter un planisphère



1). Nature du document:

une carte un schéma un graphique en courbe

2). De combien de milliards d'habitants la population mondiale a-t-elle augmentée ?

- entre 1850 et 1950 ?milliard d'habitants.

- entre 1950 et 2020 ?milliards d'habitants.

3). A partir de quelle année cette augmentation est-elle devenue plus rapide ?

.....

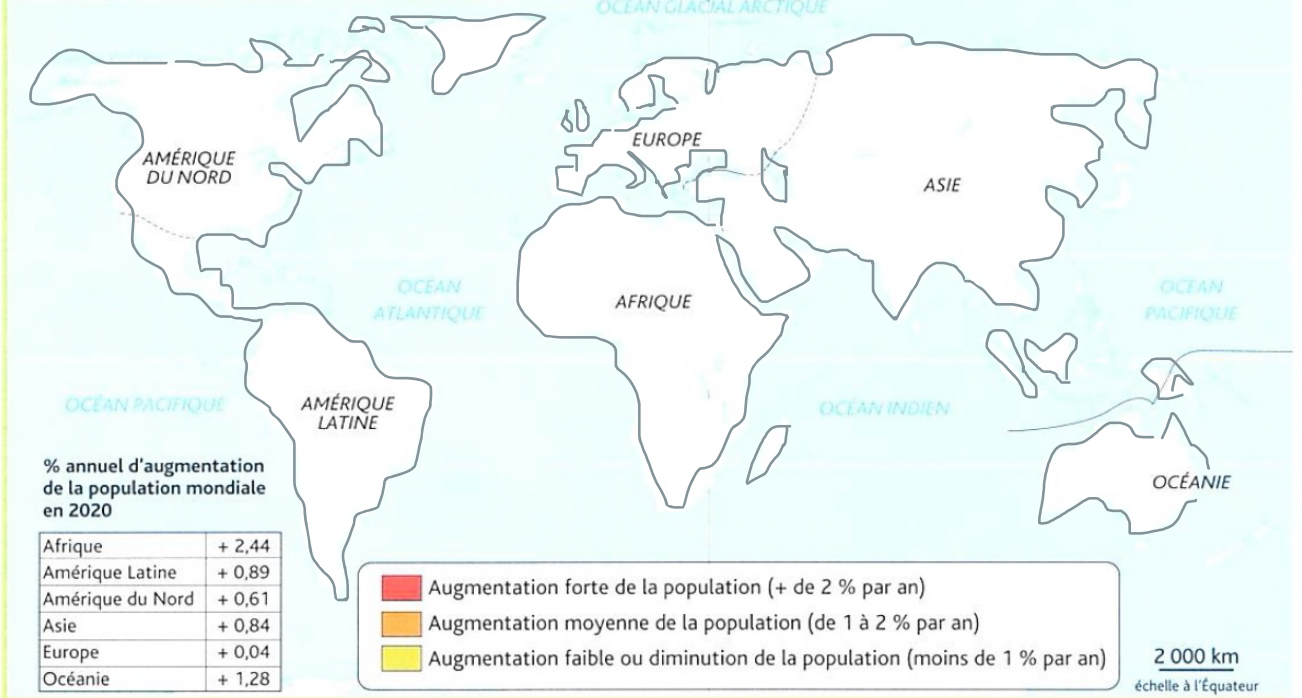
4). Souligne cette date sur le document 1.

5). En 2020, quelle région du monde a connu l'augmentation de population:

- la plus forte ?

- la plus faible ?

Doc. 2 L'inégale augmentation de la population dans le monde

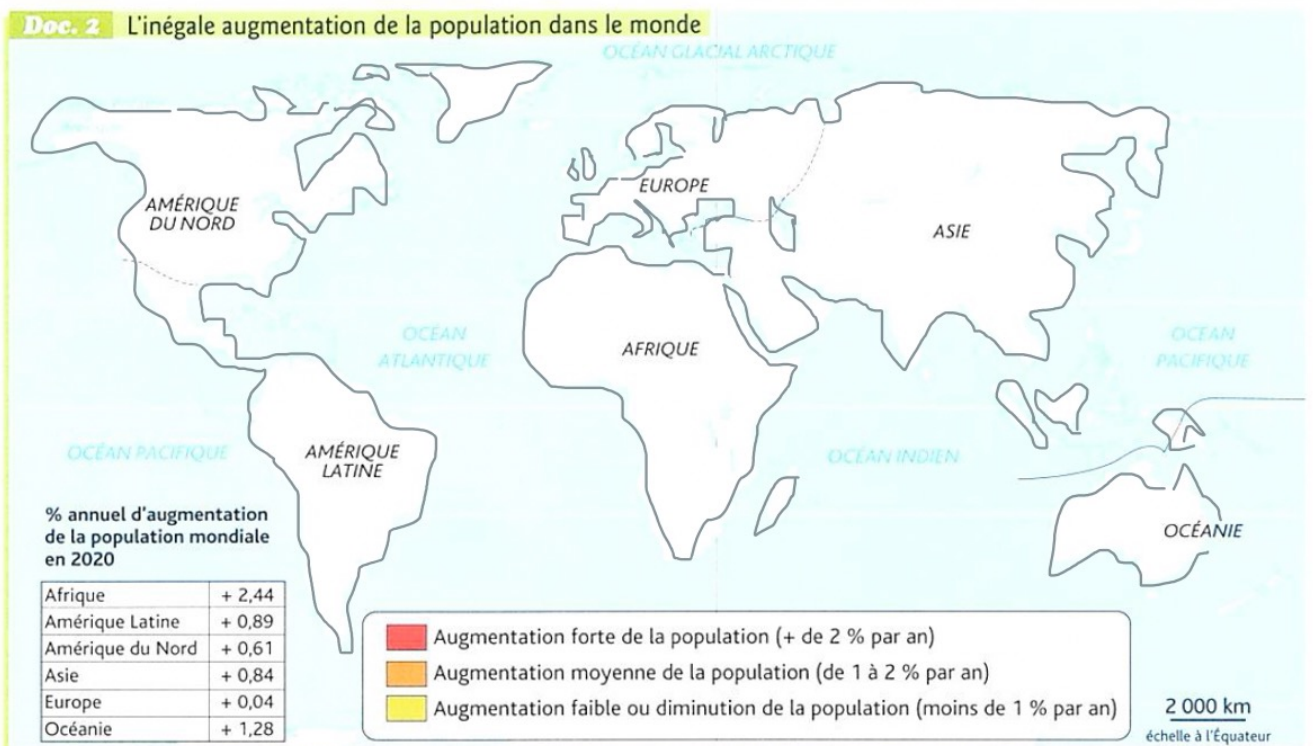


Source : World population prospects, Nations unies, 2020.

6). Nature du document:

.....

7). A l'aide des données indiquées dans le tableau, colorie chaque région du monde selon son pourcentage d'augmentation de population.



Source : World population prospects, Nations unies, 2020.

6). Nature du document:

.....

7). A l'aide des données indiquées dans le tableau, colorie chaque région du monde selon son pourcentage d'augmentation de population.