


Et après 20 ?

Dans chaque ensemble, colorie ou barre ce qu'il faut pour faire le nombre indiqué

22




28



24



27







Et après 20 ?

Dans chaque ensemble, colorie ou barre ce qu'il faut pour faire le nombre indiqué


26



25



23



21





Et après 10 ?

Dans chaque ensemble, colorie ou barre ce qu'il faut pour faire le nombre indiqué

28



29



26



25

