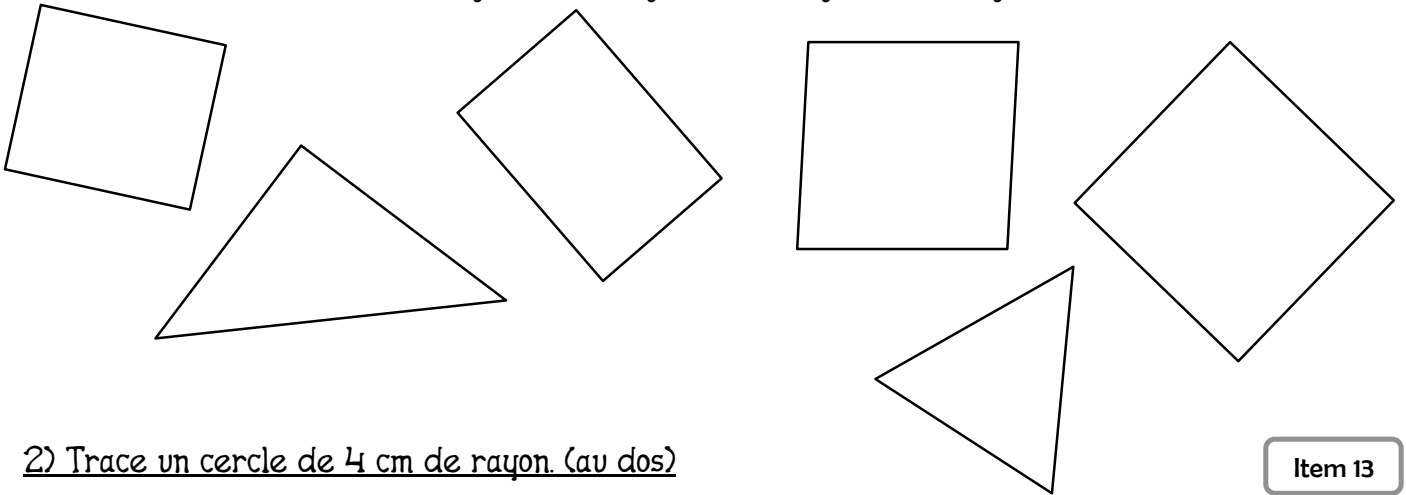


EVALUATION DE BILAN DE GEOMETRIE et MESURES

1) Ecris le nom de chaque figure :

Items 11 et 12

carré, rectangle, triangle, triangle rectangle, autre



2) Trace un cercle de 4 cm de rayon. (au dos)

Item 13

3) Trace un rectangle de 5 cm de longueur et 2 cm de largeur. (au dos)

Item 20

4) Complète :

Item 21

1 m = cm

1 m 38 = cm

1, 85 m = cm

1 € = c

2 € 30 = c

3 € 45 =c

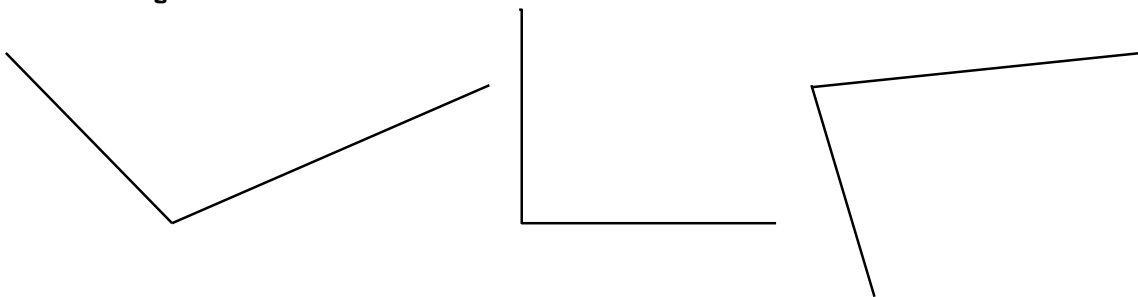
1 journée = heures

1 h = minutes

1 min = secondes

5) Code les angles droits :


Item 23



6) Calcule le périmètre de cette figure :

7) Quelle heure est-il ?

Item 25



Item 24



Il est h min.



Il est h min.



Il est h min.

Périmètre :