

A l'aide du diaporama, complète le schéma et donne la définition des mots suivants :



Société :

Territoire :

Valoriser :

Atout :

Contrainte :

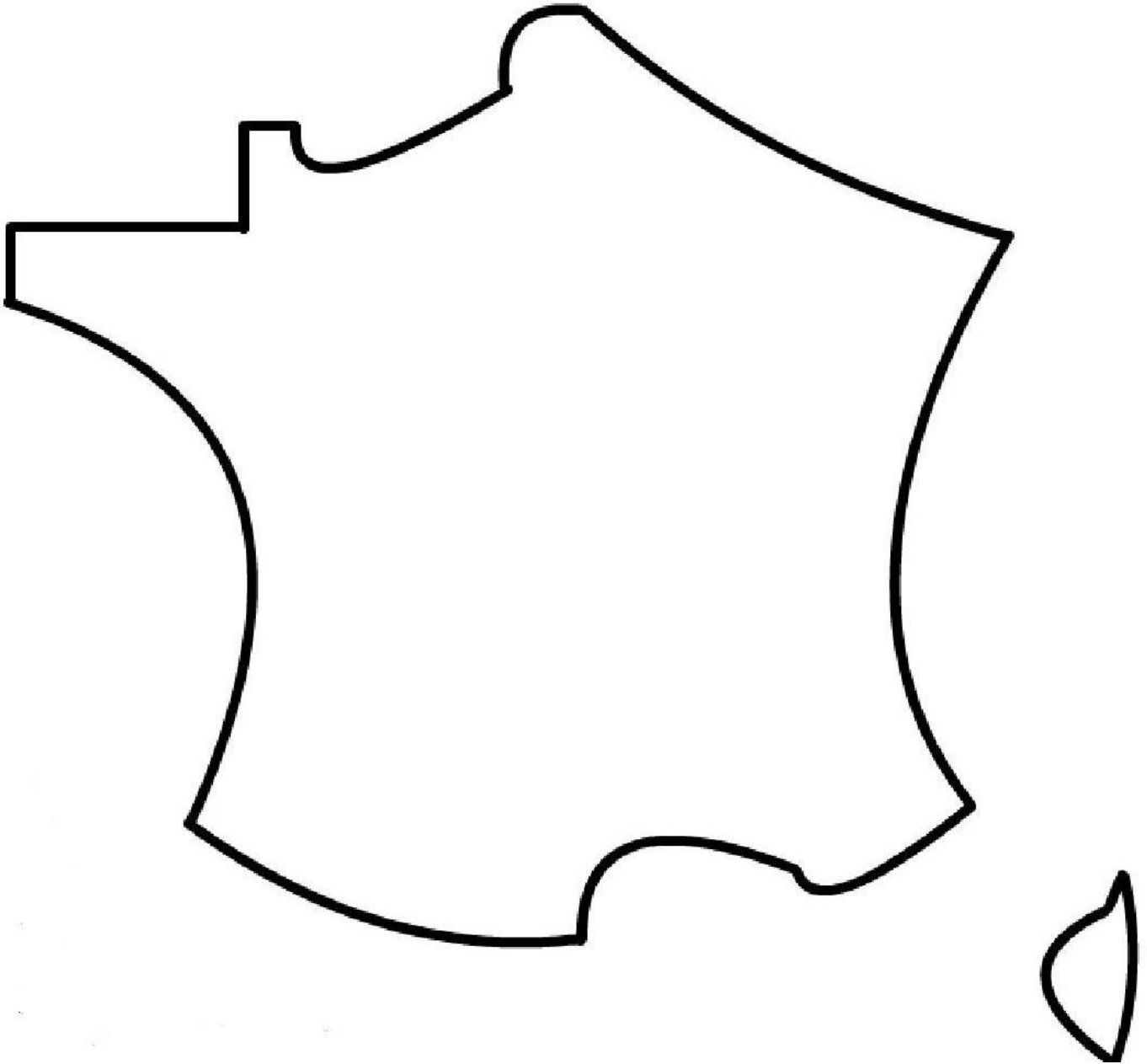
France métropolitaine ou territoire métropolitain :

Quelle forme géométrique a-t-il ?

Que remarque-t-on concernant ses façades maritimes ?

Réaliser un schéma de synthèse :

Les atouts et les contraintes du territoire métropolitain français



Atouts

Contraintes

Zones de plaines et de plateaux

Zones montagneuses

Façades maritimes

Zones de risque sismique

Atouts

Contraintes

Zones de plaines et de plateaux

Zones montagneuses

Façades maritimes

Zones de risque sismique

Atouts

Contraintes

Zones de plaines et de plateaux

Zones montagneuses

Façades maritimes

Zones de risque sismique

Atouts

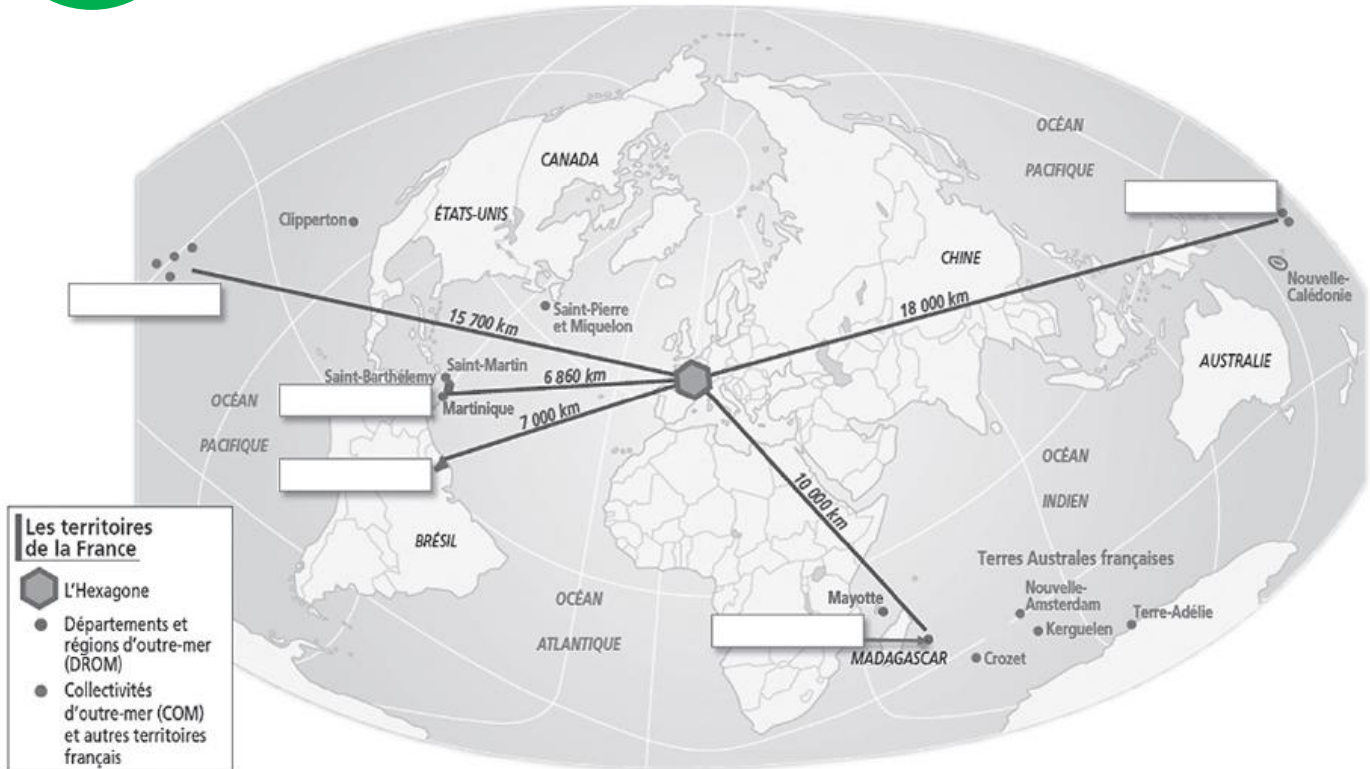
Contraintes

Zones de plaines et de plateaux

Zones montagneuses

Façades maritimes

Zones de risque sismique



1. Quelle est la particularité de cette carte du monde ?
2. Qu'est-ce que les DROM ?
3. A l'aide de la carte suivante, **complète les rectangles blancs de la première carte et entoure les noms des DROM en rouge.**

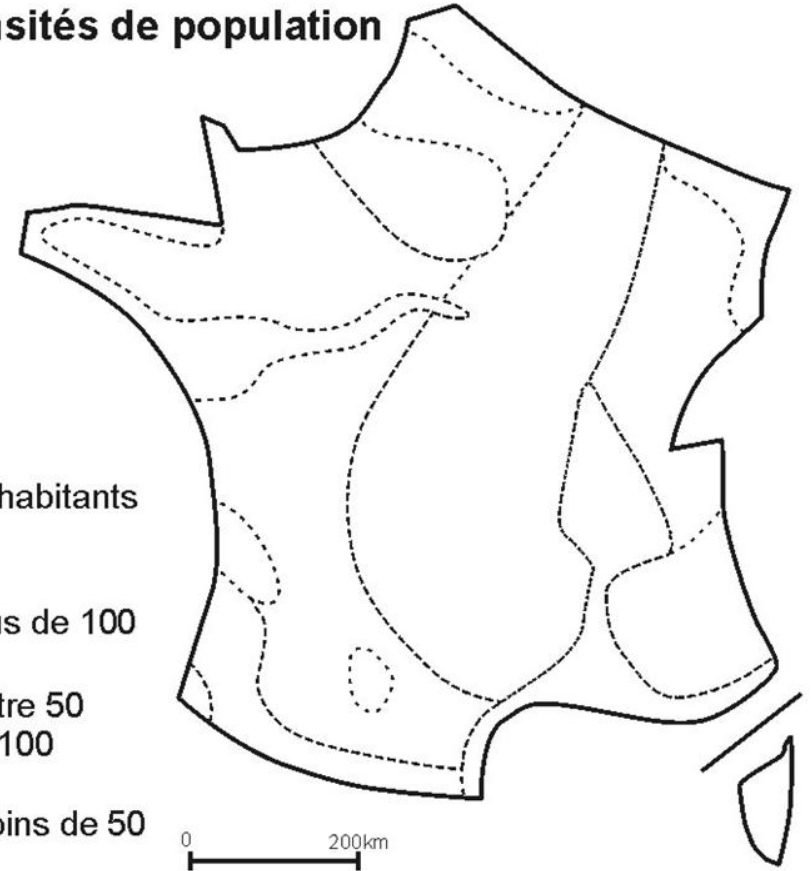


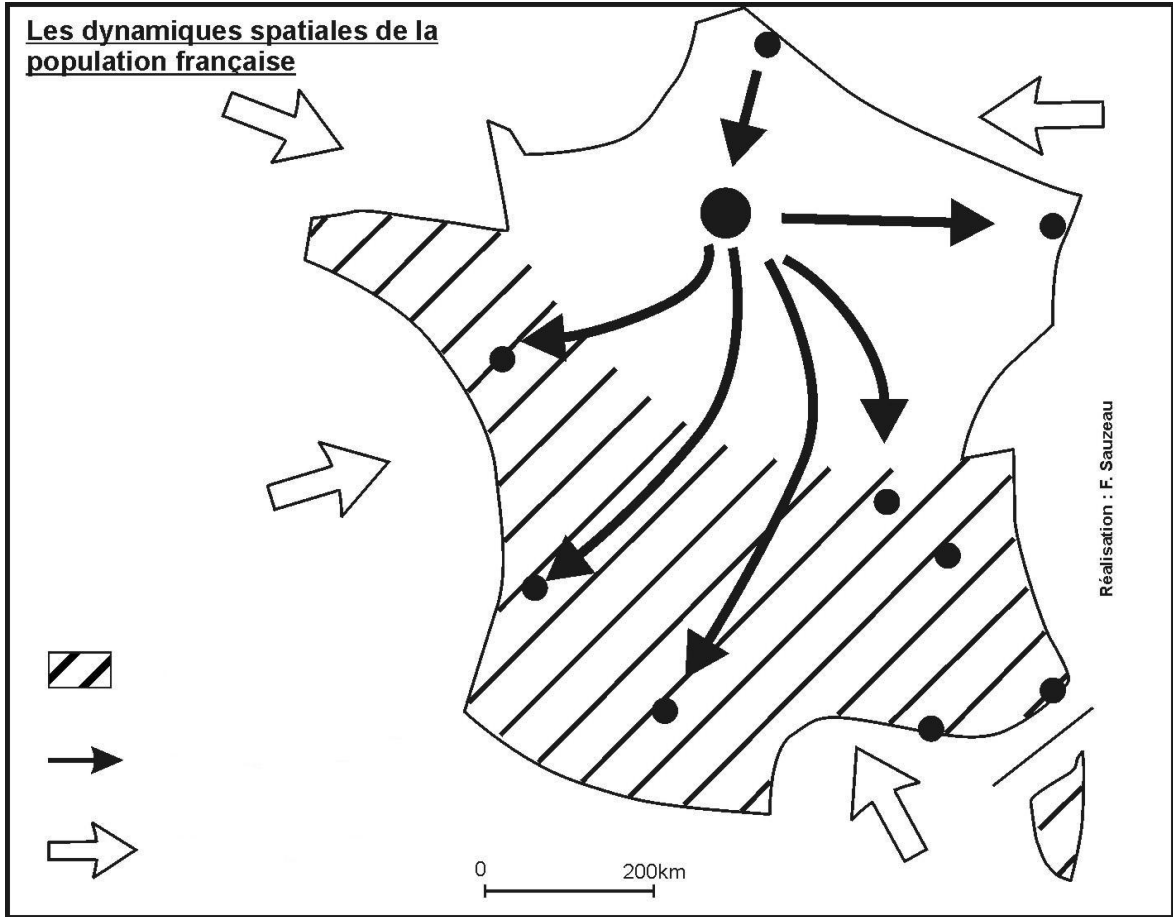
1. De quand date cette vidéo ?
2. Combien de naissances étaient prévues en France en 2010 ?
3. Combien d'habitants comptait la France lors du recensement de 2007 ?
  - a. Combien en France métropolitaine ?
  - b. Combien en France d'Outre-Mer ?
4. Comment la population d'un pays peut augmenter ?
5. Quelles sont les 3 régions dont la population augmente ?
6. Quelles sont les 2 régions dont la population diminue ?
7. Quelles sont les 2 régions qui restent les moins peuplées ?
8. A quoi sert le recensement ?

### Les densités de population

Nombre d'habitants  
au km<sup>2</sup>

Rouge	plus de 100
Orange	entre 50 et 100
Jaune	moins de 50





<http://la-segpa-dulienor.eclablog.com/>

