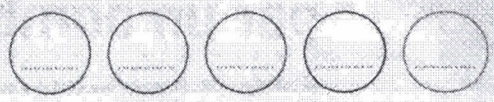


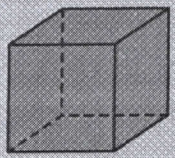
Les solides

Calcul mental: Multiplier une centaine entière par 7.
Ex.: $7 \times 400 = ?$; $7 \times 800 = ?$



Je comprends

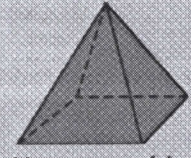
Activité de découverte: Identifier des solides.




Un cube



Un pavé droit




Une pyramide



Un cylindre






Un cône



Une sphère

Je m'entraîne

1 Relie chaque objet au solide qui a la même forme, puis écris le nom des solides.



un cylindre



une sphère



un pavé droit



une pyramide




un cube



un cône

2 Observe le dessin et écris dans le tableau le nombre de solides de chaque type.



| | |
|------------|---|
| Cylindre | 1 |
| Pavé droit | 3 |
| Sphère | 1 |
| Pyramide | 3 |
| Cône | 1 |