

NICOMATHS Fiche 5

Chez mamie !



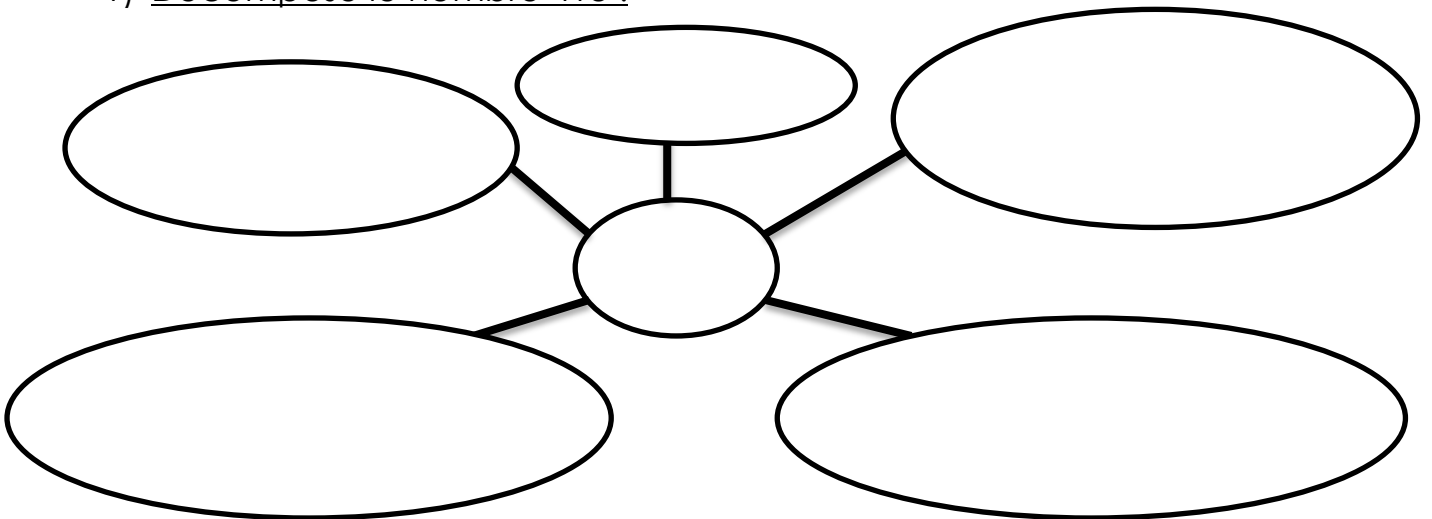
Dimanche, ce sera l'anniversaire de la mamie de Nicolas ! « Elle habite loin, mamie, mais on va lui faire une surprise », a dit maman. « On va lui rendre visite et on va apporter des gâteaux. » C'est vrai qu'elle habite loin ! Sa maison est à deux-cent-cinquante-huit kilomètres de celle de Nicolas. Il faut plusieurs heures de route pour y aller...

Après le déjeuner, chez mamie, Nicolas a le droit de jouer dans le jardin avec Gontran, Gaston et Emile, les fils des voisins. Ensemble, ils font des courses d'escargots. Ils laissent leur champion à coquille avancer pendant une minute dans un carré d'herbe, puis ils mesurent les distances parcourues par leurs montures ! Nicolas a hâte de retrouver ses copains !

Le dimanche matin, Nicolas et ses parents partent à dix heures de la maison. Ils s'arrêtent exactement à la moitié du chemin, à la boulangerie préférée de mamie. La boulangère vend des Merveilleux au spéculoos à trois euro ! Maman en achète un pour mamie, un pour papy, un pour papa, un pour elle et bien sûr un pour Nicolas ! Papa se gare devant chez mamie à treize heures. Quelle bonne surprise pour mamie ! Nicolas a bien faim après toute cette route, mais il mange très vite pour aller jouer dans le jardin !

A TOI DE JOUER !

1) Décompose le nombre 418 :



2) Ecris en mots les nombres suivants :

400 : _____

806 : _____

296 : _____

3) Trouve le double des nombres suivants :

7 → ____ 11 → ____ 25 → ____ 100 → ____ 2 000 → ____

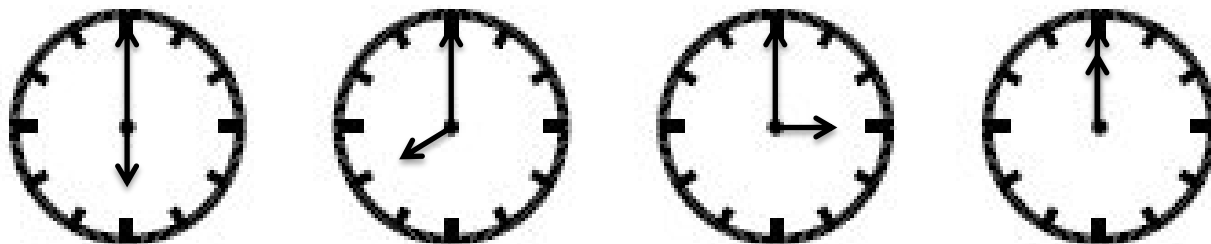
4) Trouve la moitié des nombres suivants :

8 → ____ 10 → ____ 30 → ____ 100 → ____ 2 000 → ____

5) Pose et calcule les multiplications suivantes :

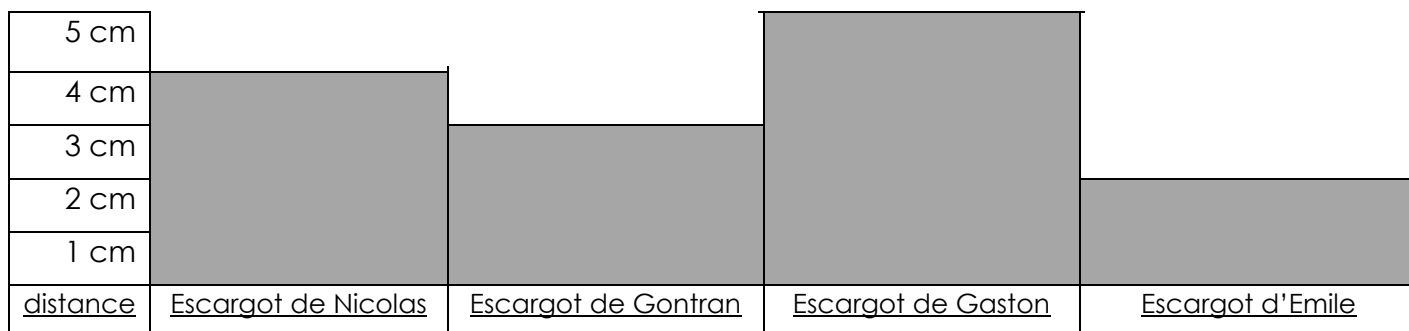
148 X 2	504 X 3	261 X 4

6) Indique l'heure du matin et celle de l'après-midi :



<u>matin</u>				
<u>a-midi</u>				

7) En lisant ce graphique, indique quelle distance a parcouru chaque escargot



8) Entoure seulement les polygones

