

# CALCUL RÉFLÉCHI, ENTRAÎNEMENT 1

Hugo et Lili jouent aux fléchettes.

Ils jouent l'un contre l'autre.

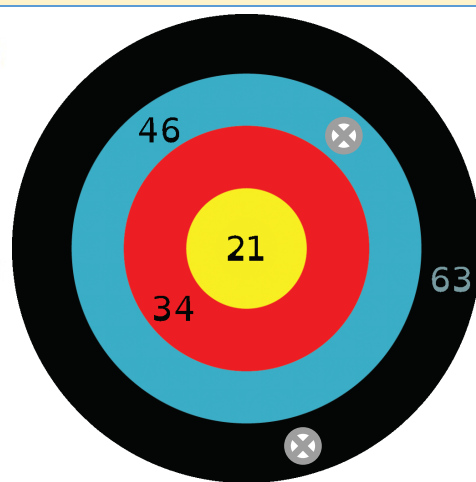
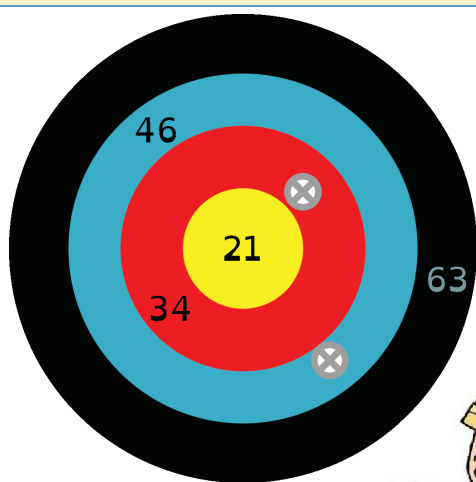
Ils lancent 2 fléchettes chacun, additionnent leurs scores, et celui qui a le plus grand score a gagné.

Chaque fléchette plantée dans la cible est représentée par cette croix : ⊗

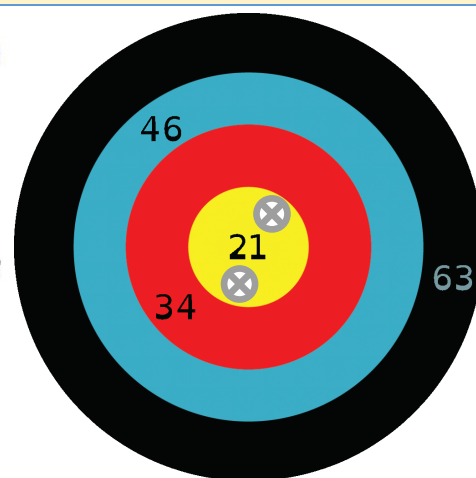
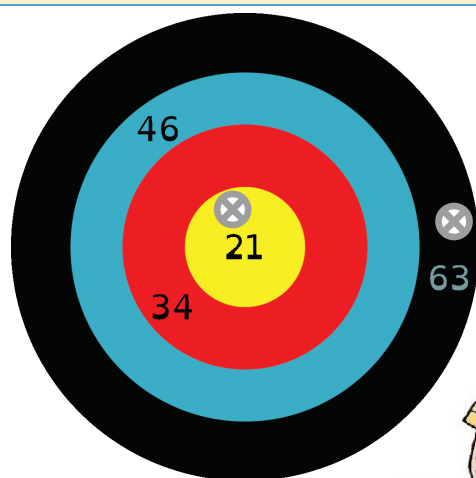
Pour chaque partie, calcule le score de Lili et le score d'Hugo, puis entoure celui qui a gagné.

Tu dois calculer en ligne et ET en colonnes.

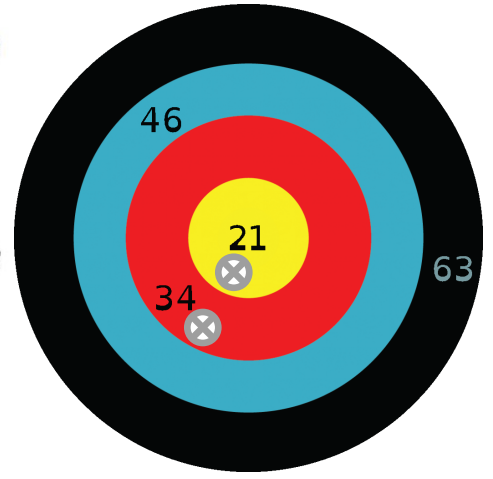
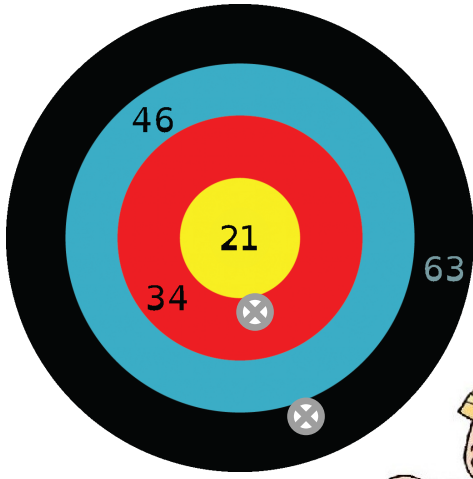
1.



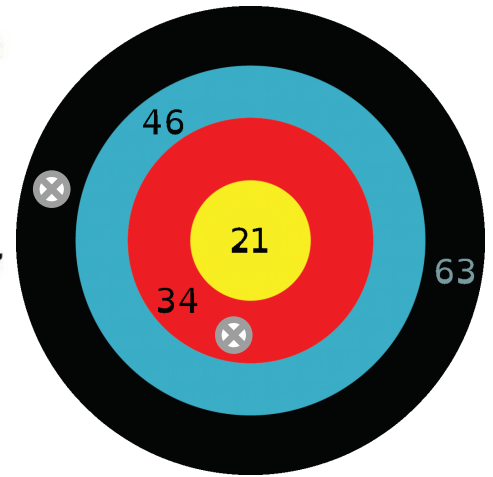
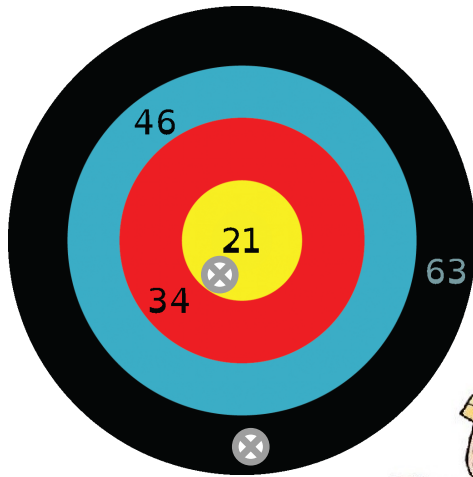
2.



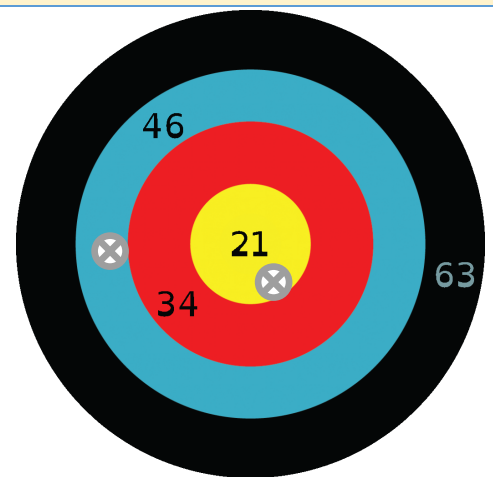
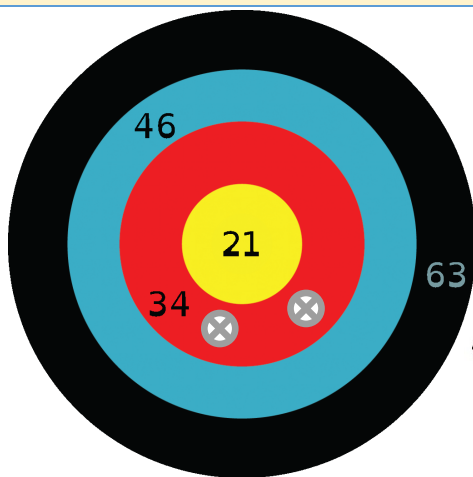
3.



4.



5.



Pour chacun de ces calculs, choisis la méthode que tu trouves la plus efficace :

**CALCULER DANS SA TÊTE - *COMPTER SUR SES DOIGTS* - CALCULER EN LIGNE - *POSER LE CALCUL***

$8+5=$

$30+8=$

$24+2=$

$31+4=$

$44+12=$

$21+14=$

$65+2=$

$21+22=$

$70+7=$

$22+16=$

$65+11=$

$60+11=$

$38+11=$

$8+2=$

$55+22=$

$42+17=$

$61+7=$

$34+10=$

$19+10=$

$55+32=$

$2+57=$

$42+55=$

$11+13=$

$82+15=$

$51+7=$

$23+6=$

$91+1=$

$26+20=$

$6+5=$

$33+64=$