

## Evaluation Géographie – cycle 3

Connaître les principaux caractères du relief, de l'hydrographie et du climat en France

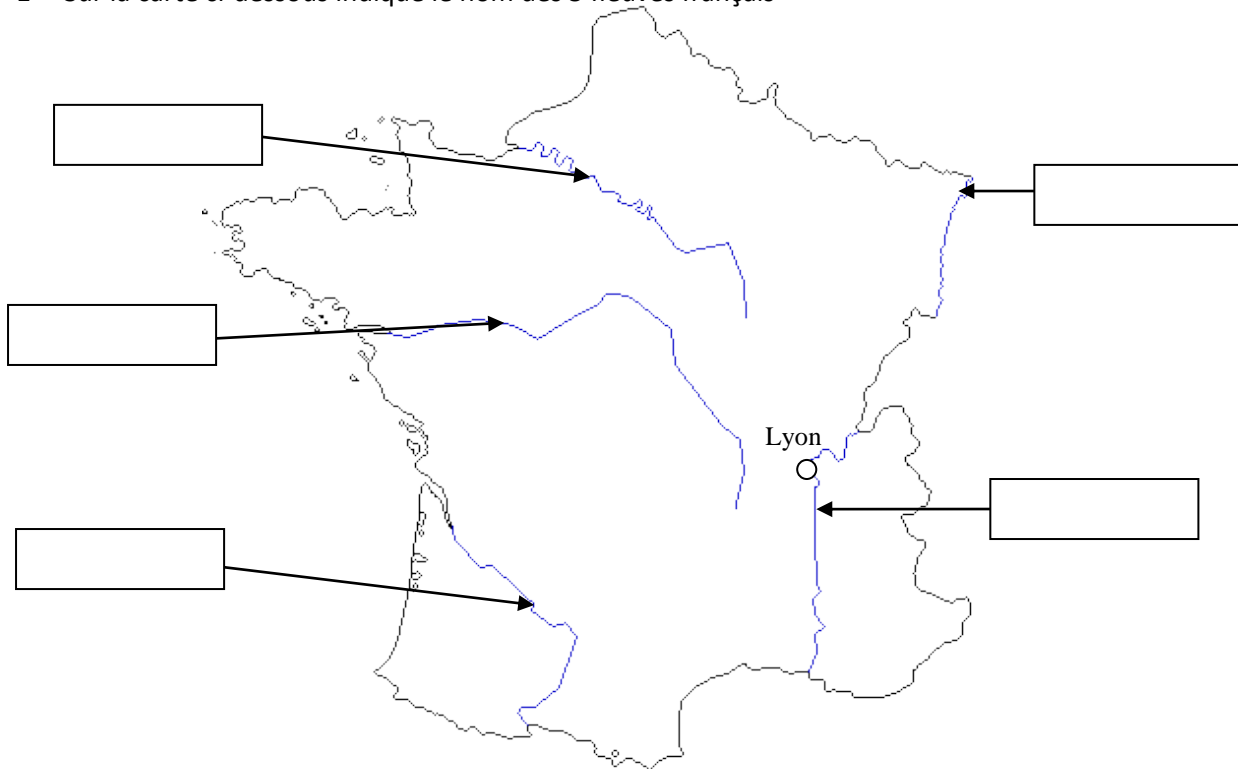
NA

ECA

AR

A

1- Sur la carte ci-dessous indique le nom des 5 fleuves français



2- Quel est le plus long des fleuves français ? \_\_\_\_\_

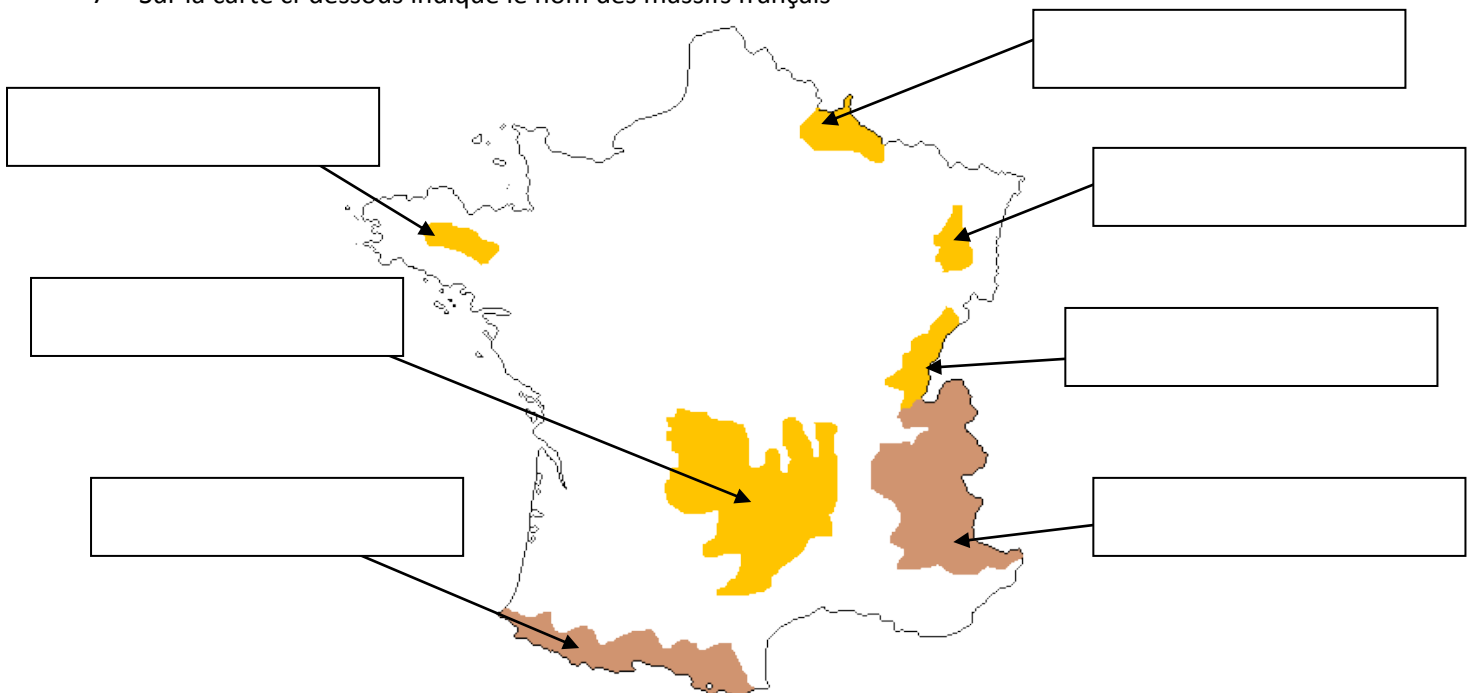
3- Où se jette-t-il ? \_\_\_\_\_

4- Quel fleuve arrose Lyon? \_\_\_\_\_

5- Dans quel océan se jette la Garonne ? \_\_\_\_\_

6- Où se jette la Seine? \_\_\_\_\_

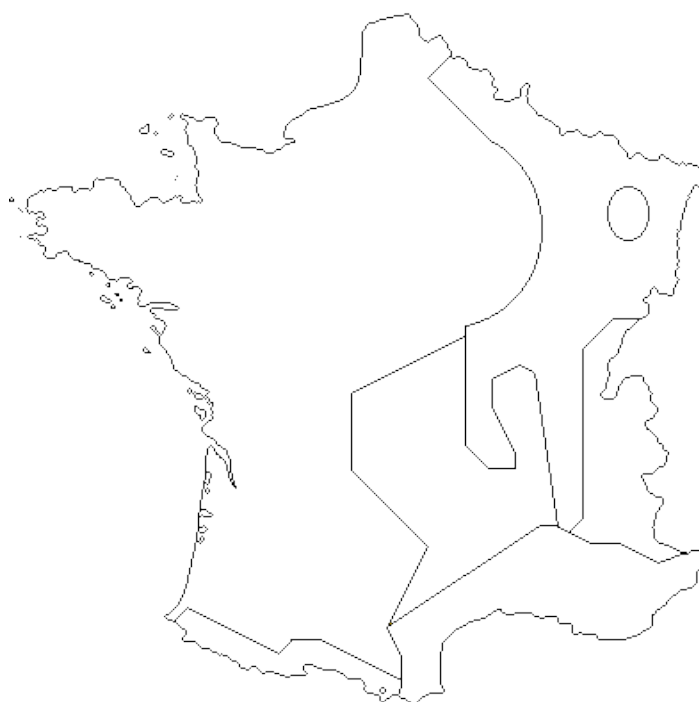
7- Sur la carte ci-dessous indique le nom des massifs français



8- Classe les montagnes suivantes dans le tableau ci-dessous  
Alpes – Ardennes – Jura – Massif armoricain – Massif central – Pyrénées – Vosges

Montagnes jeunes	Montagnes anciennes

9- Sur la carte ci-dessous, colorie en vert la zone où le climat est océanique. Colorie en marron les zones où le climat est montagnard. Colorie en jaune la zone où le climat est méditerranéen. Colorie en bleu la zone où le climat est continental.



10- Cite deux particularités du climat montagnard ? \_\_\_\_\_  
\_\_\_\_\_

11- Où les étés sont-ils les plus chauds : climat méditerranéen ou climat océanique ?  
\_\_\_\_\_

12- Sous quelle forme tombent les précipitations en hiver dans le climat montagnard ?  
\_\_\_\_\_