






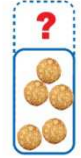



Ceinture jaune DIMINUTION - entraînement 4 - 3 situations mélangées

<p>J'ai 8 crêpes. J'en mange 3. Combien en ai-je maintenant ?</p> <div style="display: flex; align-items: center; gap: 10px;"> <div style="text-align: center;"> <p>AVANT</p>  </div> <div style="text-align: center;"> <p>DIMINUTION</p>  </div> <div style="text-align: center;"> <p>APRÈS</p>  </div> <div style="font-size: 24px; font-weight: bold;">8 - 3 = 5</div> </div>	<p>J'ai maintenant 5 crêpes. J'en ai mangé 3 tout à l'heure. Combien en avais-je avant ?</p> <div style="display: flex; align-items: center; gap: 10px;"> <div style="text-align: center;"> <p>AVANT</p>  </div> <div style="text-align: center;"> <p>DIMINUTION</p>  </div> <div style="text-align: center;"> <p>APRÈS</p>  </div> <div style="font-size: 24px; font-weight: bold;">5 + 3 = 8</div> </div>	<p>J'ai 5 crêpes. J'en avais 8 avant. Combien en ai-je mangées ?</p> <div style="display: flex; align-items: center; gap: 10px;"> <div style="text-align: center;"> <p>AVANT</p>  </div> <div style="text-align: center;"> <p>DIMINUTION</p>  </div> <div style="text-align: center;"> <p>APRÈS</p>  </div> <div style="font-size: 24px; font-weight: bold;">8 - 5 = 3</div> </div>
--	---	---

A Les tartes aux pommes

Le pâtissier a fabriqué 20 tartes ce matin.
Combien de tartes ont été achetées ?



B Le garage

On m'accorde une réduction de 2000 € sur ce véhicule. Combien vais-je payer ?



C Les cartouches

Ahmed m'a emprunté 4 cartouches.
Combien en avais-je avant ?



D La librairie

Dans la librairie de Joseph, il y avait en début du mois de juin 4 560 livres à vendre. Joseph en a vendu 197 durant le mois.

Combien Joseph a-t-il de livres en librairie à la fin du mois de juin ?

E Le stade du Soleil

Le stade du Soleil est en travaux. Les travaux, qui se déroulent dans un des deux virages, ont baissé la capacité d'accueil de 1500 places. En conséquence, pendant les travaux, il y a 11 170 places dans le stade.

Combien y avait-il de place dans le stade avant les travaux ?

F Le voyage en avion

Devant le siège que j'occupe durant un voyage en avion, un écran indique la distance jusqu'à l'arrivée. Avant de m'endormir, il restait 3508km à parcourir. A mon retour, l'écran indique 608km.

Quelle distance l'avion a-t-il parcouru durant mon sommeil ?