

Entrainement Ceinture Blanche de Calcul

Exercices à faire sur le cahier iparcours CM1

Exercices 1, 2, 3, 4 page 25

Exercices 1 et 2 page 26



Entrainement Ceinture Blanche de Calcul

Exercices à faire sur le cahier iparcours CM1

Exercices 1, 2, 3, 4 page 25

Exercices 1 et 2 page 26

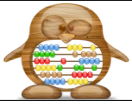


Entrainement Ceinture Blanche de Calcul

Exercices à faire sur le cahier iparcours CM1

Exercices 1, 2, 3, 4 page 25

Exercices 1 et 2 page 26

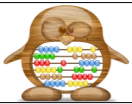


Entrainement Ceinture Blanche de Calcul

Exercices à faire sur le cahier iparcours CM1

Exercices 1, 2, 3, 4 page 25

Exercices 1 et 2 page 26

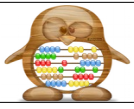


Entrainement Ceinture Blanche de Calcul

Exercices à faire sur le cahier iparcours CM1

Exercices 1, 2, 3, 4 page 25

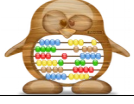
Exercices 1 et 2 page 26



Entrainement Ceinture Jaune de Calcul

Exercices à faire sur le cahier iparcours CM1

Exercices 1, 2, 3, 4 et 5 page 27



Entrainement Ceinture Jaune de Calcul

Exercices à faire sur le cahier iparcours CM1

Exercices 1, 2, 3, 4 et 5 page 27



Entrainement Ceinture Jaune de Calcul

Exercices à faire sur le cahier iparcours CM1

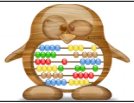
Exercices 1, 2, 3, 4 et 5 page 27



Entrainement Ceinture Jaune de Calcul

Exercices à faire sur le cahier iparcours CM1

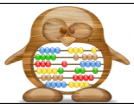
Exercices 1, 2, 3, 4 et 5 page 27



Entrainement Ceinture Jaune de Calcul

Exercices à faire sur le cahier iparcours CM1

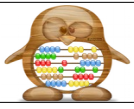
Exercices 1, 2, 3, 4 et 5 page 27



Entrainement Ceinture Jaune de Calcul

Exercices à faire sur le cahier iparcours CM1

Exercices 1, 2, 3, 4 et 5 page 27



Entrainement Ceinture Orange de Calcul

Exercices à faire sur le cahier iparcours CM1

Exercices 1, 2, 3 et 4 page 29



Entrainement Ceinture Orange de Calcul

Exercices à faire sur le cahier iparcours CM1

Exercices 1, 2, 3 et 4 page 29



Entrainement Ceinture Orange de Calcul

Exercices à faire sur le cahier iparcours CM1

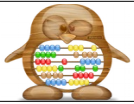
Exercices 1, 2, 3 et 4 page 29



Entrainement Ceinture Orange de Calcul

Exercices à faire sur le cahier iparcours CM1

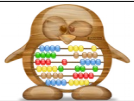
Exercices 1, 2, 3 et 4 page 29



Entrainement Ceinture Orange de Calcul

Exercices à faire sur le cahier iparcours CM1

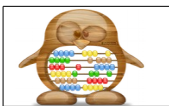
Exercices 1, 2, 3 et 4 page 29



Entrainement Ceinture Orange de Calcul

Exercices à faire sur le cahier iparcours CM1

Exercices 1, 2, 3 et 4 page 29



Entrainement Ceinture Verte de Calcul

Exercices à faire sur la feuille

Retrouve et place le résultat qui convient pour chaque opération.

$3\ 605 - 798 = \underline{\hspace{2cm}} \quad 275 \times 14 = \underline{\hspace{2cm}}$

2 807

4 824

$134 \times 4 \times 9 = \underline{\hspace{2cm}} \quad 728 + 396 + 136 = \underline{\hspace{2cm}}$

3 850

1 260

Pour chaque opération, retrouve et écris sur les touches le signe qui manque +, - ou x.
Vérifie avec ta calculatrice.

$286 \quad \square \quad 39 = 247$

$971 \quad \square \quad 376 = 1\ 347$

$405 \quad \square \quad 187 = 592$

$124 \quad \square \quad 3 = 372$

$86 \quad \square \quad 2 = 172$

$901 \quad \square \quad 671 = 230$

Utilise ta calculatrice pour découvrir les mots cachés. Effectue les opérations puis retourne la calculatrice et trouve les mots cachés.

La semaine dernière, **1** et
2 copines sont venues chez moi pour
 jouer aux **3** . **4**
5 roulaient sur le **6**
7 montaient sur **8**
9 . Pour finir **10**
 descendaient le long d'une **11**
 fontaine de **12** .

1 $702146 : 2$

2 $10 \times 10 \times 10 - 465$

3 $13\ 567 + 255\ 292 \times 2$

4 $2\ 685 : 5$

5 $2 \times 3 \times 4 \times 5 \times 6 \times 7 \times 8 \times 9 + 174\ 838$

6 $705 - 50 \times 3 + 150 : 3$

7 $53,773 \times 1000$

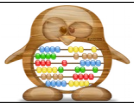
8 $9 \times 25 \times 4 + 174 : 2$

9 $530\ 000 + 5\ 000 + 500 + 8$

10 $6\ 614\ 079 : 123$

11 $99\ 999 : 3 + 4405$

12 $300 : 2 - 3 \times 5$



Entrainement Ceinture Bleue de Calcul

Exercices à faire sur le cahier iparcours CM1

Exercices 1, 2 et 3 page 33

Exercices 1, 2 et 3 page 34



Entrainement Ceinture Bleue de Calcul

Exercices à faire sur le cahier iparcours CM1

Exercices 1, 2 et 3 page 33

Exercices 1, 2 et 3 page 34

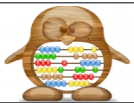


Entrainement Ceinture Bleue de Calcul

Exercices à faire sur le cahier iparcours CM1

Exercices 1, 2 et 3 page 33

Exercices 1, 2 et 3 page 34



Entrainement Ceinture Bleue de Calcul

Exercices à faire sur le cahier iparcours CM1

Exercices 1, 2 et 3 page 33

Exercices 1, 2 et 3 page 34

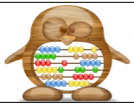


Entrainement Ceinture Bleue de Calcul

Exercices à faire sur le cahier iparcours CM1

Exercices 1, 2 et 3 page 33

Exercices 1, 2 et 3 page 34



Entrainement Ceinture Marron de Calcul

Exercices à faire sur le cahier iparcours CM1

Exercices 1, 2, 3, 4 et 5 page 35



Entrainement Ceinture Marron de Calcul

Exercices à faire sur le cahier iparcours CM1

Exercices 1, 2, 3, 4 et 5 page 35



Entrainement Ceinture Marron de Calcul

Exercices à faire sur le cahier iparcours CM1

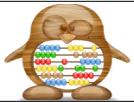
Exercices 1, 2, 3, 4 et 5 page 35



Entrainement Ceinture Marron de Calcul

Exercices à faire sur le cahier iparcours CM1

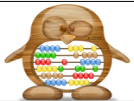
Exercices 1, 2, 3, 4 et 5 page 35



Entrainement Ceinture Marron de Calcul

Exercices à faire sur le cahier iparcours CM1

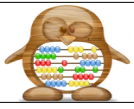
Exercices 1, 2, 3, 4 et 5 page 35



Entrainement Ceinture Marron de Calcul

Exercices à faire sur le cahier iparcours CM1

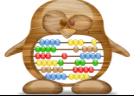
Exercices 1, 2, 3, 4 et 5 page 35



Entrainement Ceinture Noire de Calcul

Exercices à faire sur le cahier iparcours CM1

Exercices 1, 2, 3 et 4 page 36



Entrainement Ceinture Noire de Calcul

Exercices à faire sur le cahier iparcours CM1

Exercices 1, 2, 3 et 4 page 36



Entrainement Ceinture Noire de Calcul

Exercices à faire sur le cahier iparcours CM1

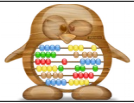
Exercices 1, 2, 3 et 4 page 36



Entrainement Ceinture Noire de Calcul

Exercices à faire sur le cahier iparcours CM1

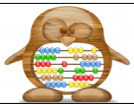
Exercices 1, 2, 3 et 4 page 36



Entrainement Ceinture Noire de Calcul

Exercices à faire sur le cahier iparcours CM1

Exercices 1, 2, 3 et 4 page 36



Entrainement Ceinture Noire de Calcul

Exercices à faire sur le cahier iparcours CM1

Exercices 1, 2, 3 et 4 page 36