

Prénom: _____

Numération

Date: _____

Construit la file numérique en écrivant les nombres dans l'ordre.

| | | | | | | | | | |
|---|--|--|--|--|--|--|--|--|--|
| 0 | | | | | | | | | |
|---|--|--|--|--|--|--|--|--|--|

| | | | | | | | | | |
|--|--|--|--|--|--|--|--|--|--|
| | | | | | | | | | |
|--|--|--|--|--|--|--|--|--|--|

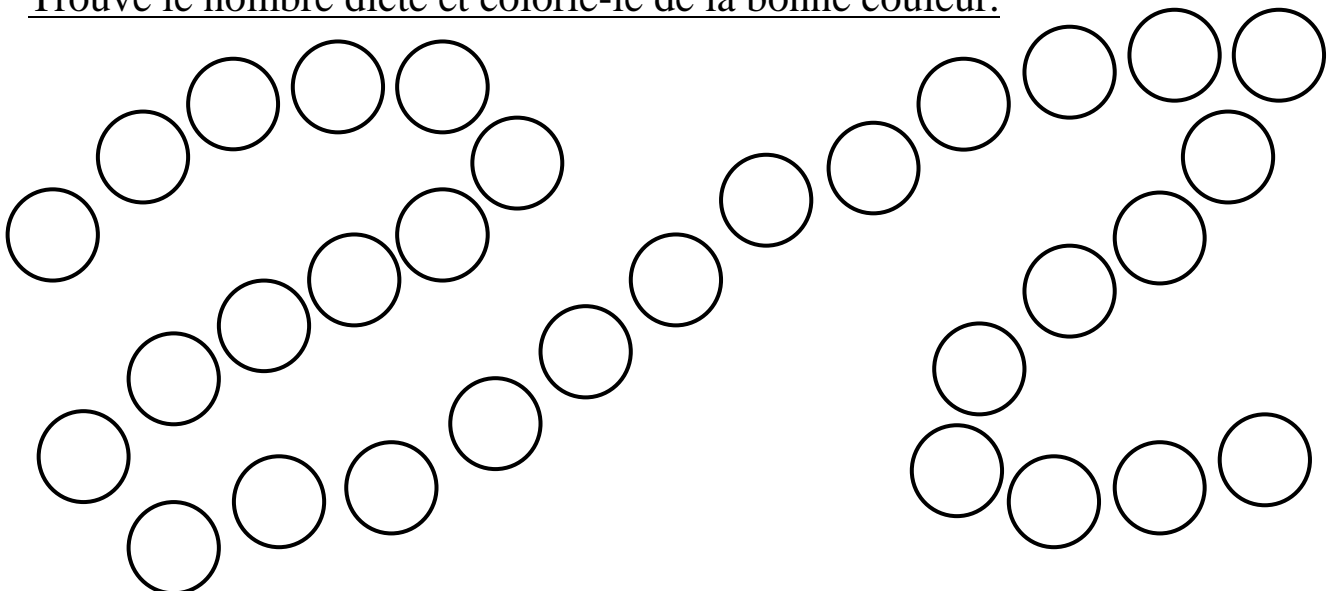
| | | | | | | | | | |
|--|--|--|--|--|--|--|--|--|--|
| | | | | | | | | | |
|--|--|--|--|--|--|--|--|--|--|

| | | | | | | | | | |
|--|--|--|--|--|--|--|--|--|--|
| | | | | | | | | | |
|--|--|--|--|--|--|--|--|--|--|

| | | | | | | | | | |
|--|--|--|--|--|--|--|--|--|--|
| | | | | | | | | | |
|--|--|--|--|--|--|--|--|--|--|

| | | | | | | | | | |
|--|--|--|--|--|--|--|--|--|--|
| | | | | | | | | | |
|--|--|--|--|--|--|--|--|--|--|

Trouve le nombre dicté et colorie-le de la bonne couleur.

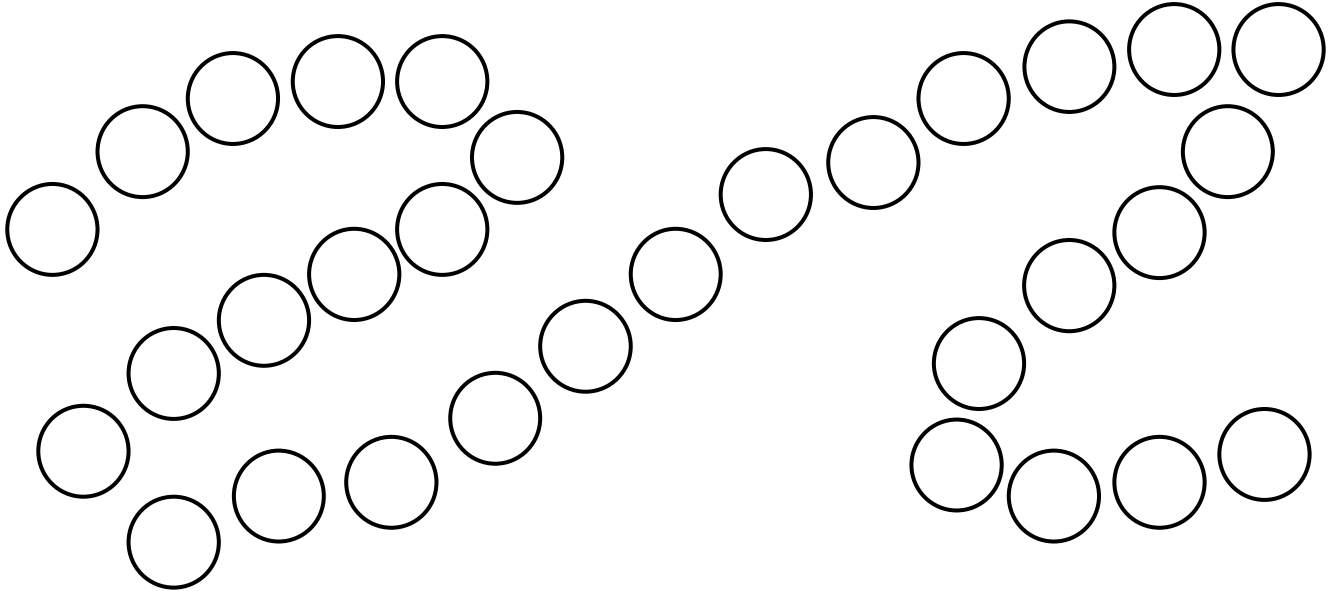


Prénom: _____

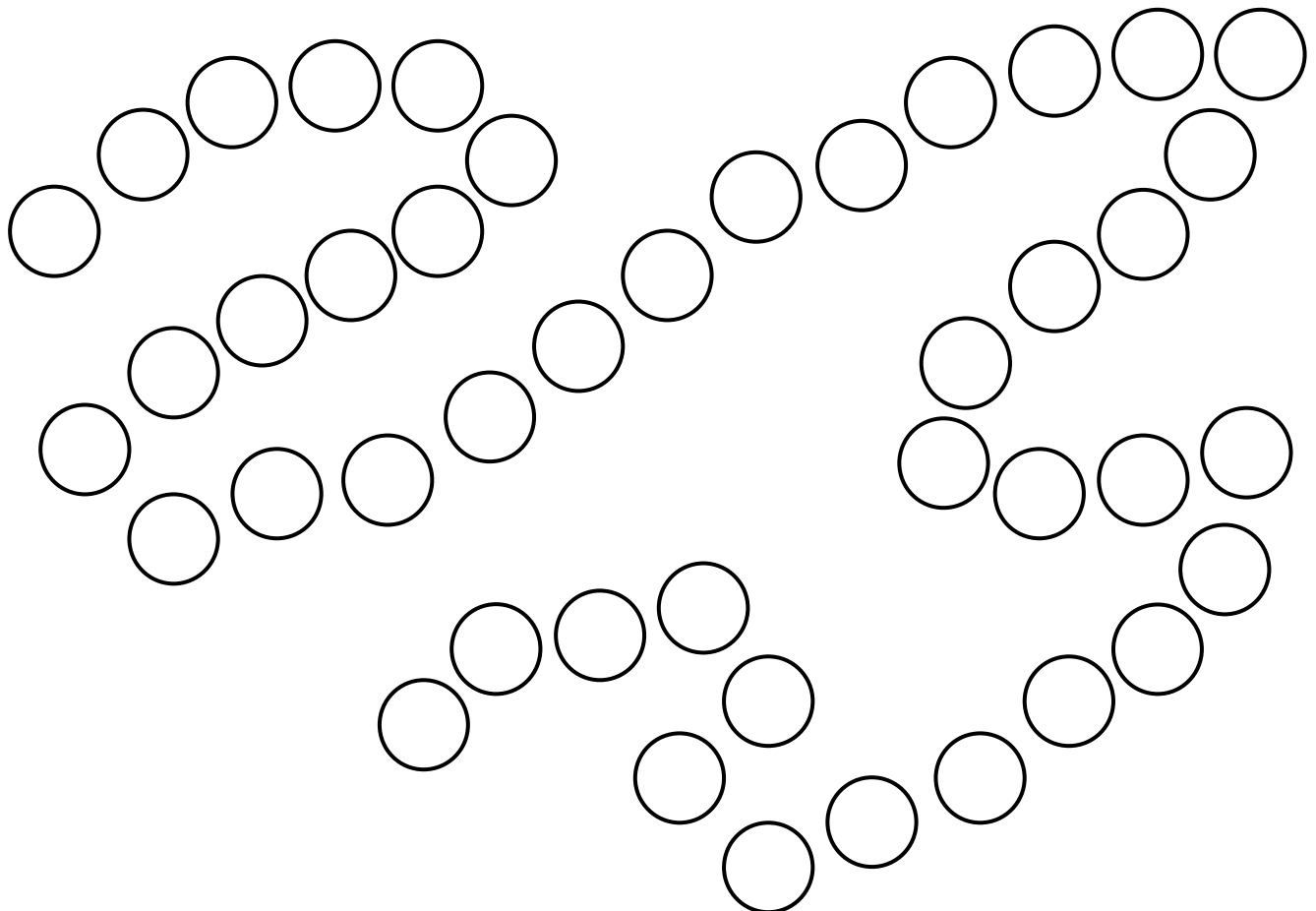
Numération

Date: _____

Ecris les nombres qui manquent.



Ecris chaque nombre à sa place. 24 - 52 - 38 - 40 - 19 - 59 - 45




Prénom: _____

Numération

Date: _____

Ecris le nombre dicté.



Ecris le nombre qui vient avant et après.

_____ - 45 - _____

_____ - 54 - _____

_____ - 33 - _____

_____ - 39 - _____

_____ - 41 - _____

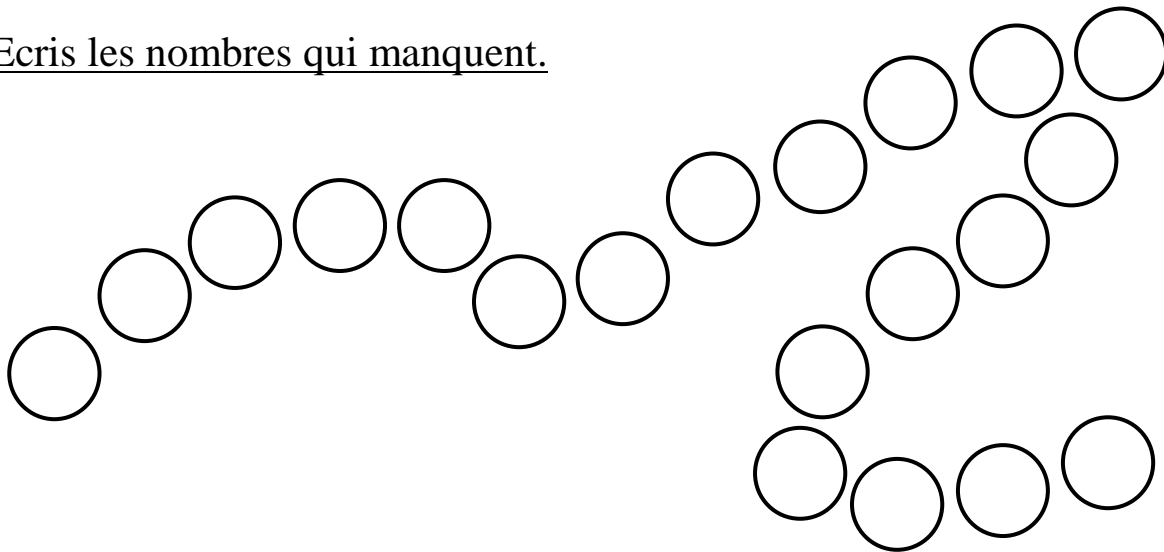
_____ - 49 - _____

_____ - 57 - _____

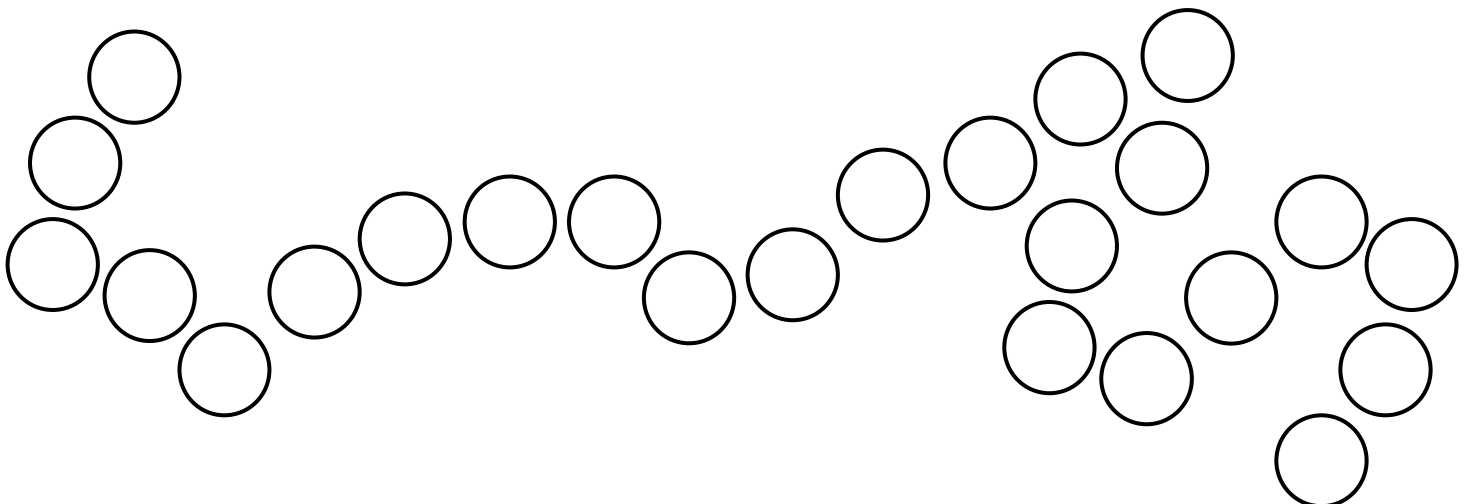
_____ - 46 - _____

_____ - 52 - _____

Ecris les nombres qui manquent.



Ecris chaque nombre à sa place. 39 - 56 - 42 - 50 - 54 - 49



Prénom: _____

Numération

Date: _____

Range ces nombres du plus petit au plus grand.

45 - 35 - 53 - 54 - 59 - 31 - 56

Range ces nombres du plus grand au plus petit.

25 - 52 - 24 - 42 - 35 - 53 - 59

Ecris les nombres en lettres:

48: _____

36: _____

54: _____

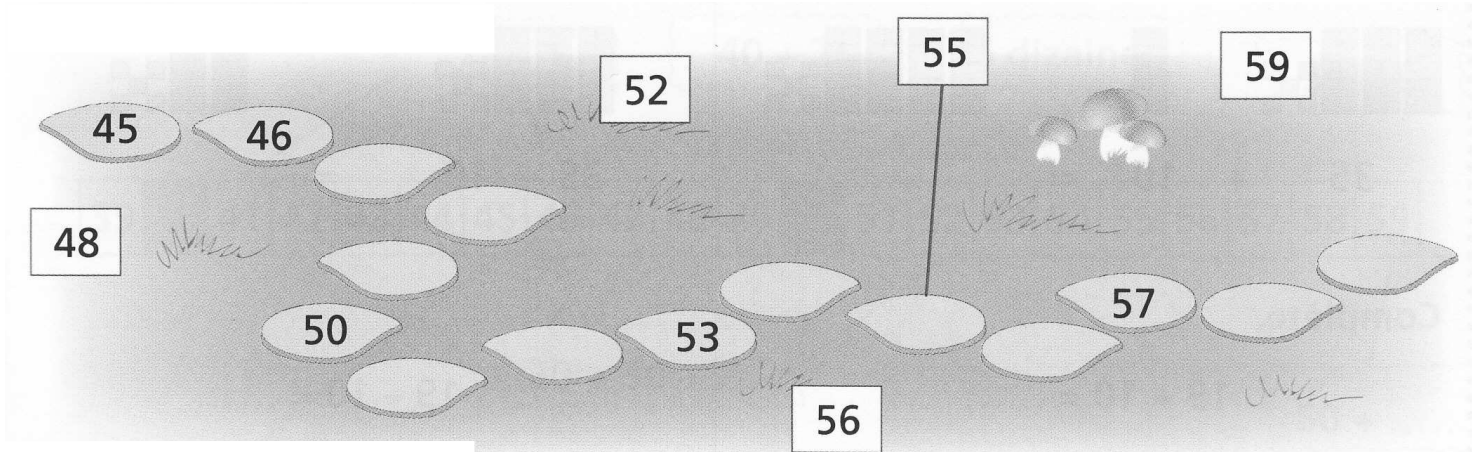
41: _____

29: _____

60: _____

57: _____

Relie les cases au bon endroit.



Ecris les nombres qui manquent dans les nénuphars.

Date: _____

Numération

Prénom: _____

Ecris les nombres de 0 à 19 dans l'ordre en lettres et en chiffres.

| | | | | | |
|--|--|--|--|--|--|
| | | | | | |
| | | | | | |
| | | | | | |
| | | | | | |
| | | | | | |

Date: _____

Numération

Prénom: _____

Ecris les nombres de 20 à 39 dans l'ordre en lettres et en chiffres.

| | |
|--|--|
| | |
|--|--|

| | |
|--|--|
| | |
|--|--|

| | |
|--|--|
| | |
|--|--|

| | |
|--|--|
| | |
|--|--|

| | |
|--|--|
| | |
|--|--|

| | |
|--|--|
| | |
|--|--|

| | |
|--|--|
| | |
|--|--|

| | |
|--|--|
| | |
|--|--|

| | |
|--|--|
| | |
|--|--|

| | |
|--|--|
| | |
|--|--|

| | |
|--|--|
| | |
|--|--|

| | |
|--|--|
| | |
|--|--|

| | |
|--|--|
| | |
|--|--|

| | |
|--|--|
| | |
|--|--|

| | |
|--|--|
| | |
|--|--|

| | |
|--|--|
| | |
|--|--|

| | |
|--|--|
| | |
|--|--|

| | |
|--|--|
| | |
|--|--|

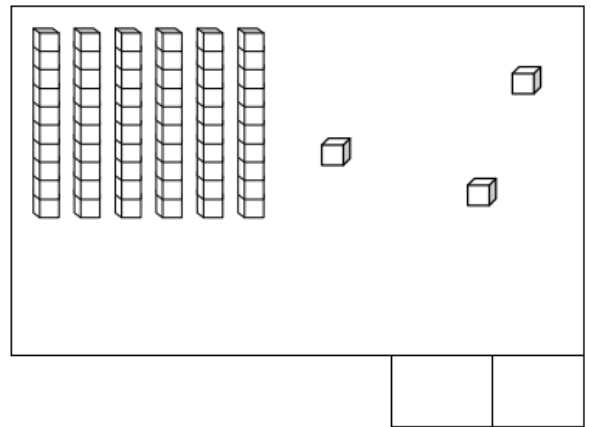
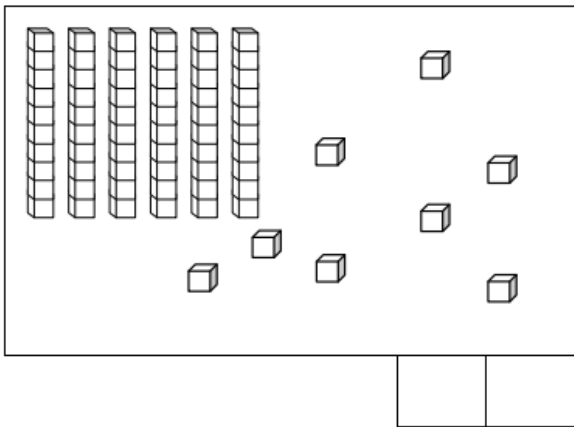
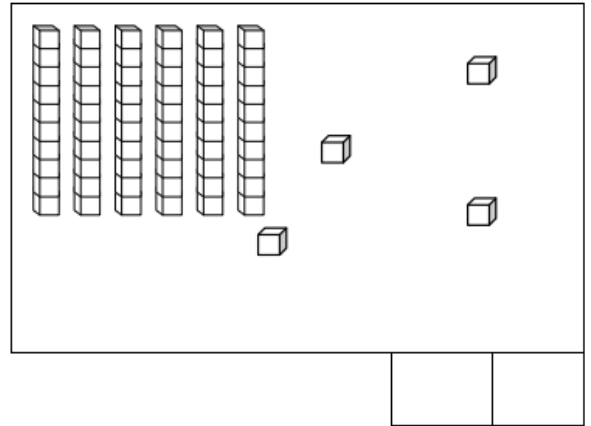
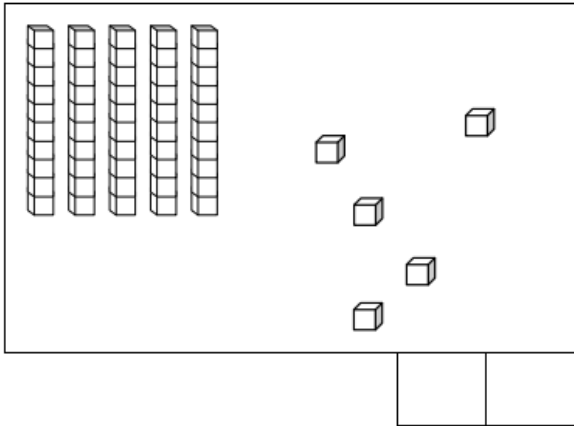
| | |
|--|--|
| | |
|--|--|

| | |
|--|--|
| | |
|--|--|

Prénom: _____

Date: _____

Ecris le nombre qui correspond.



Ecris ces nombres du plus petit au plus grand: 43-63-36-64-31-13-60

Ecris ces nombres du plus grand au plus petit: 65-52-24-42-35-56-60

Continue ces files numériques:

58 – 59 - _____ - _____ - _____ - _____ - _____ - _____ - _____ - _____ - _____ - _____

38 – 39 - _____ - _____ - _____ - _____ - _____ - _____ - _____ - _____ - _____ - _____

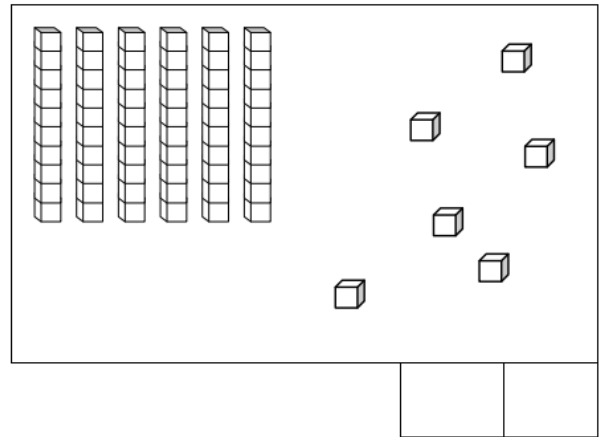
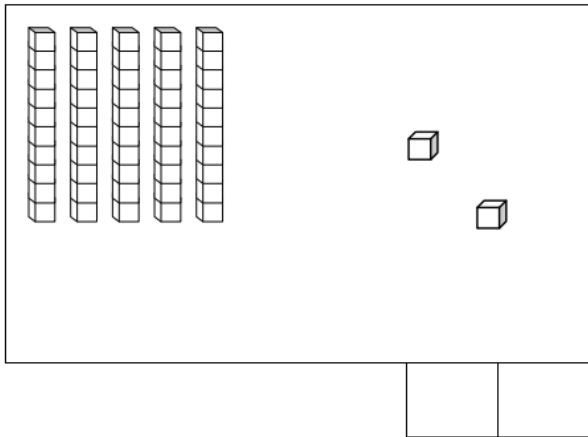
47 – 48 - _____ - _____ - _____ - _____ - _____ - _____ - _____ - _____ - _____ - _____

12 – 13 - _____ - _____ - _____ - _____ - _____ - _____ - _____ - _____ - _____ - _____

Prénom: _____

Date: _____

Ecris le nombre qui correspond.



Entoure les nombres qui sont entre 53 et 63.

52 51 49 54 65 61 60 57

Entoure les nombres qui sont entre 32 et 48.

23 33 26 49 47 46 40 31

Continue ces files numériques.

48 – 49 – ___ – ___ – 52 – 53 – ___ – 55 – ___ – ___ – ___ – ___

58 – 59 – ___ – ___ – 62 – 63 – ___ – 65 – ___ – ___ – ___ – ___

Ecris ces nombres en lettres.

45 : _____

50 : _____

67 : _____

29 : _____

16 : _____

34 : _____

Prénom: _____

Numération

Date: _____

Ecris le nombre dicté.

Ecris le nombre qui suit et celui qui précède.

_____ 53 _____ _____ 49 _____ _____ 30 _____

_____ 68 _____ _____ 10 _____ _____ 65 _____

_____ 39 _____ _____ 59 _____ _____ 29 _____

Range ces nombres dans l'ordre croissant: 52 - 35 - 69 - 18 - 25 - 58 - 64

Range ces nombres dans l'ordre décroissant: 17 - 54 - 66 - 45 - 58 - 62 - 49

Complète comme le modèle:

$54 = 5d + 4u = 50 + 4 =$ cinquante-quatre

65 = _____

16 = _____

38 = _____

21 = _____

40 = _____

52 = _____