

Complète :

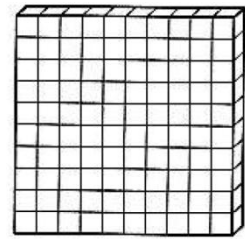


en lettres: _____

___ dizaines et
___ unités

ecc : $30 + 4$:

$10 + 10 +$ _____



Complète :

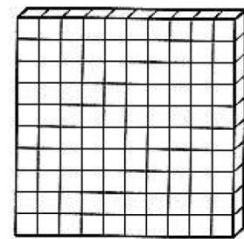


en lettres: _____

___ dizaines et
___ unités

ecc : $30 + 4$:

$10 + 10 +$ _____



Complète :



en lettres: _____

___ centaines
___ dizaines et
___ unités

ex : $200 + 30 + 4$

$10 + 10 +$ _____

| c | d | u |
|---|---|---|
| | | |



Complète :



en lettres: _____

___ centaines
___ dizaines et
___ unités

ex : $200 + 30 + 4$:

$10 + 10 +$ _____

| c | d | u |
|---|---|---|
| | | |



Complète :



en lettres: _____

___ centaines
___ dizaines et
___ unités

ex : $200 + 30 + 4$

$10 + 10 +$ _____

| c | d | u |
|---|---|---|
| | | |

Complète :



en lettres: _____

___ centaines
___ dizaines et
___ unités

ex : $200 + 30 + 4$

$10 + 10 +$ _____

| c | d | u |
|---|---|---|
| | | |

Complète :



en lettres: _____

___ dizaines et
___ unités

ecc : 30 + 4:

10 + 10 + _____



Complète :




en lettres: _____

___ dizaines et
___ unités

ecc : 30 + 4:

10 + 10 + _____



Complète :



en lettres: _____

___ centaines
___ dizaines et
___ unités

ex : $200 + 30 + 4$

100 + _____



Complète :



en lettres: _____

___ centaines
___ dizaines et
___ unités

ex : $200 + 30 + 4$

100 + _____



Complète :



en lettres: _____

___ centaines
___ dizaines et
___ unités

ex : $200 + 30 + 4$

100+ _____

Complète :



en lettres: _____

___ centaines
___ dizaines et
___ unités

ex : $200 + 30 + 4$

100+ _____
