

Nom, prénom :*Correction*.....

Fiche n° 11

1 Identifie les fonctions grammaticales des mots ou groupes de mots de la phrase suivante :

Je m'évalue			
A	VA	NA	

J'ai rangé les pyjamas ce matin.
 s V O I CV CP

2 Analyse les mots suivants (classe, genre, nombre et pour les verbes : infinitif, groupe, temps et personne)

Je m'évalue			
A	VA	NA	

Pyjamas : *nom commun, masculin, pluriel.*

Les : *déterminant (article défini), masculin, pluriel.*

3 Conjugue le verbe « ranger » au passé composé.

Je m'évalue			
A	VA	NA	

J'ai rangé

Tu as rangé

Il a rangé

Elle a rangé

Nous avons rangé

Vous avez rangé

Ils ont rangé

Elles ont rangé

4 Conjugue les verbes entre parenthèses au présent de l'indicatif

Je m'évalue			
A	VA	NA	

Les voisins *passent* tout l'après-midi dans la piscine. (*passer*)

La gouvernante *garde* les enfants de la duchesse. (*garder*)

Où *est* la reproduction de cette planche ? (*être*)

Nous *finissons* nos devoirs et nous *passons* à table (*finir - passer*)

5 Écris le résultat des opérations suivantes le plus rapidement possible :

$8 \times 4 = 32$ $7 \times 5 = 35$ $9 \times 9 = 81$ $6 \times 8 = 48$ $4 \times 7 = 28$ $3 \times 7 = 21$

Je m'évalue			
A	VA	NA	

6 Pose les opérations suivantes :

18964×45 96487×26

Je m'évalue			
A	VA	NA	

$$\begin{array}{r}
 18964 \\
 \times 45 \\
 \hline
 94820 \\
 + 75856 \\
 \hline
 853380
 \end{array}$$

$$\begin{array}{r}
 96487 \\
 \times 26 \\
 \hline
 578922 \\
 + 192974 \\
 \hline
 2508662
 \end{array}$$

7 Associe chaque horloge à l'étiquette qui lui correspond.

Je m'évalue			
A	VA	NA	

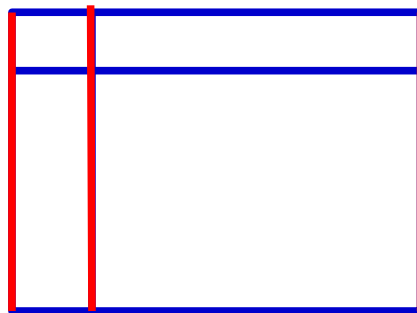


14:28
 22:08
 17:04

8 Dans ce polygone, trouve si des côtés sont parallèles. Utilise

Je m'évalue			
A	VA	NA	

tes instruments et repasse d'une même couleur les côtés qui sont parallèles.



Avant de rendre ma feuille, (coche la case une fois l'action accomplie)

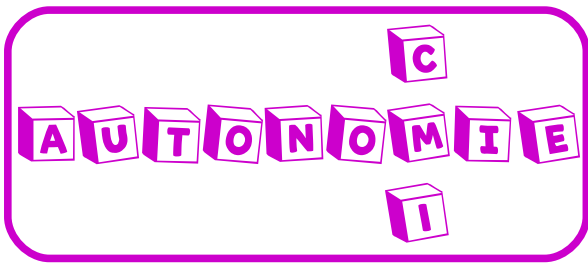


Je me relis

Je me corrige grâce à la correction

Je m'auto-évalue





Nom, prénom : *Correction*

Fiche n°12

1 Identifie les fonctions grammaticales des mots ou groupes de mots de la phrase suivante :

Je m'évalue			
A	VA	NA	

Nous construisons des droites parallèles aujourd'hui.

S V CV CP

2 Analyse les mots suivants (classe, genre, nombre et pour les verbes : infinitif, groupe, temps et personne)

Je m'évalue			
A	VA	NA	

Parallèles : *adjectif féminin, pluriel.*

Construisons : *construire, 3^e groupe, présent de l'indicatif, 1^{ère} personne du pluriel.*

3 Conjuge le verbe « construire » au présent de l'indicatif.

Je m'évalue			
A	VA	NA	

4 Choisis, en l'entourant, le sens proposé correspondant au mot en gras.

Je m'évalue			
A	VA	NA	

Je construis

Tu construis

Il construit

Elle construit

Nous construisons

Vous construisez

Ils construisent

Elles construisent

Le chef d'orchestre dirige ses musiciens grâce à sa **baguette**. (pain long et mince - petit bâton mince)

Il faudra **battre** l'équipe adverse. (**gagner** - frapper)

L'agent de police a voulu voir une **pièce** d'identité. (monnaie - **document permettant l'identification**)

Tu as oublié le **point** d'exclamation. (**signe de ponctuation** - Score)

5 Écris le résultat des opérations suivantes le plus rapidement possible :

Je m'évalue			
A	VA	NA	

$3200 \div 10 = 320$
 $301 \times 100 = 30\ 100$
 $107\ 000 \div 1000 = 107$
 $50 \times 100 = 5\ 000$

6 Pose les opérations suivantes :

$256 + 65\ 984 + 1\ 254$
 $125\ 895 - 117\ 996$

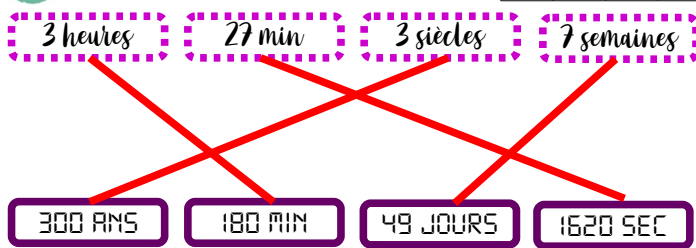
Je m'évalue			
A	VA	NA	

$$\begin{array}{r}
 \\
 6\ 5\ 9\ 8\ 4 \\
 + 1\ 2\ 5\ 4 \\
 + 2\ 5\ 6 \\
 \hline
 6\ 7\ 4\ 9\ 4
 \end{array}$$

$$\begin{array}{r}
 1\ 2\ 5\ 8\ 9\ 5 \\
 - 1\ 1\ 7\ 9\ 9\ 6 \\
 \hline
 0\ 0\ 7\ 8\ 9\ 9
 \end{array}$$

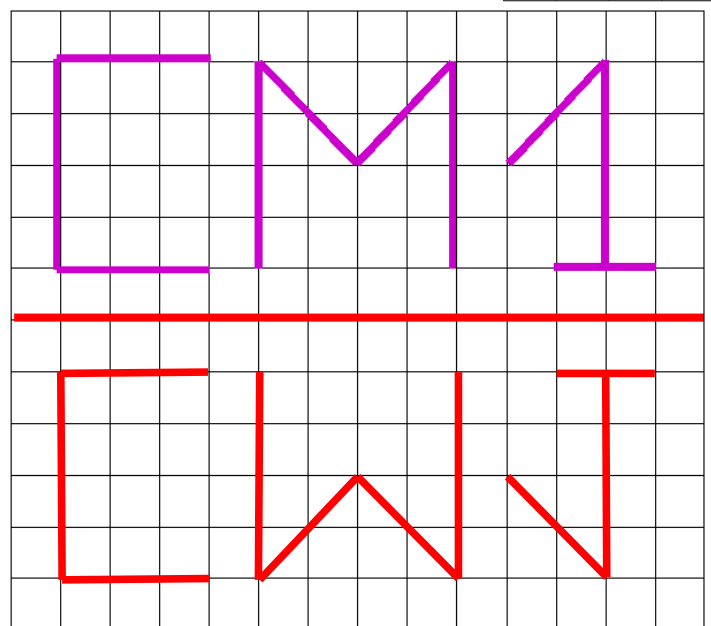
7 Relie les durées équivalentes.

Je m'évalue		
A	VA	NA



8 Reproduis cette figure par symétrie axiale.

Je m'évalue		
A	VA	NA



Avant de rendre ma feuille, (coche la case une fois l'action accomplie)

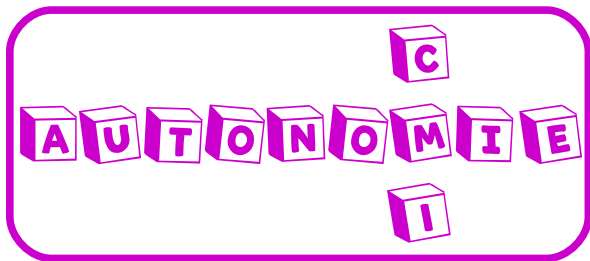


Je me relis

Je me corrige grâce à la correction

Je m'auto-évalue





Nom, prénom : *Correction*

Fiche n°13

1 Identifie les fonctions grammaticales des mots ou groupes de mots de la phrase suivante :

Je m'évalue			
A	VA	NA	

Il y a quelques années, les élèves passaient un examen, à la fin de l'école primaire.

CP

S

V

CV

CP

2 Analyse les mots suivants (classe, genre, nombre et pour les verbes : infinitif, groupe, temps et personne)

Je m'évalue			
A	VA	NA	

Passaient : *passer, 1^{er} groupe, imparfait, 3^e personne du pluriel.*

à : *préposition, invariable.*

3 Conjugue le verbe « passer » à l'imparfait.

Je m'évalue			
A	VA	NA	

Je passais

Tu passais

Il passait

Elle passait

Nous passions

Vous passiez

Ils passaient

Elles passaient

En face de chaque phrase, inscris le numéro de la définition correspondant au

Je m'évalue			
A	VA	NA	

4 « compter » utilisé dans la phrase.

À l'école, on apprend à *compter*. **3**

Cette ville *compte* 3 000 habitants. **1**

Il faut *compter* environ une heure de route. **2**

Définitions

1. contenir

2. évaluer

3. énoncer la suite des nombres

5 Écris le résultat des opérations suivantes le plus rapidement possible :

2h05 = 125 min

60 mm = 600 cm

300 l = 3 hl

3 dag = 300 dg

Je m'évalue			
A	VA	NA	

6 Pose les opérations suivantes :
5698 x 37 28634 x 234

Je m'évalue			
A	VA	NA	

$$\begin{array}{r}
 5698 \quad 564 \\
 \times 37 \quad 222 \\
 \hline
 1111 \\
 39886 \\
 + 17094 \\
 \hline
 210826
 \end{array}$$

$$\begin{array}{r}
 28634 \quad 1123 \\
 \times 234 \quad 1112 \\
 \hline
 1121 \\
 114536 \\
 + 85902 \\
 + 57268 \\
 \hline
 6700356
 \end{array}$$

7 Résous le problème suivant :

Je m'évalue			
A	VA	NA	

Le voyage inaugural du Titanic a commencé le 10 avril 1912 à environ 13 heures. Il n'arrivera jamais à destination. Le 14 avril, il heurte un iceberg et coule le 15 avril peu après 2 heures.

Combien d'heures a duré la traversée ?

Je réfléchis

10 avril : 13h → 0h = 11h
 11, 12, 13 et 14 avril = 24 x 4 = 96h
 15 avril : 0 → 2h = 2h

11 + 96 + 2 = 109

Je réponds

La traversée a duré 109 heures.



Avant de rendre ma feuille, (coche la case une fois l'action accomplie)

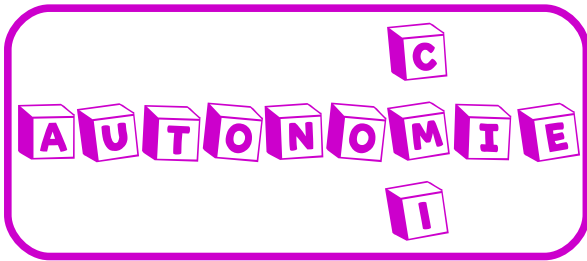


Je me relis

Je me corrige grâce à la correction

Je m'auto-évalue





Nom, prénom : Correction

Fiche n°14

1

Identifie les fonctions grammaticales des mots ou groupes de mots de la phrase suivante :

Je m'évalue			
A	VA	NA	

Mélissa et ses amies boivent du thé aux agrumes.
S V CV

2

Analyse les mots suivants (classe, genre, nombre et pour les verbes : infinitif, groupe, temps et personne)

Je m'évalue			
A	VA	NA	

Boivent : boire, 3e groupe, présent de l'indicatif, 3e personne du pluriel.

Les : déterminant (possessif), féminin, pluriel.

3

Conjugué le verbe « boire » à l'imparfait.

Je m'évalue			
A	VA	NA	

4

Dans l'extrait suivant, souligne la définition du mot en couleur donnée

Je m'évalue			
A	VA	NA	

Je buvais

Tu buvais

Il buvait

Elle buvait


Nous buvions

Vous buviez

Ils buvaient

Elles buvaient

par l'auteur.



Le plus bel éléphant appartenait à Deesa, le plus mauvais **Mahout** (conducteur), et cet animal magnifique s'appelait Moti-Guj.

Rudyard Kipling, *L'éléphant fidèle*, © le Livre de Poche

5 Écris le résultat des opérations suivantes le plus rapidement possible :

Je m'évalue			
A	VA	NA	

$3 \times 6 = 18$ $8 \times 7 = 56$ $6 \times 4 = 24$ $7 \times 7 = 49$ $3 \times 9 = 27$ $9 \times 9 = 81$

6 Pose les opérations suivantes :

Je m'évalue			
A	VA	NA	

$597\ 457 - 568\ 589$ $56 + 89775 + 987$

$$\begin{array}{r}
 5\ 9\ 17\ 14\ 15\ 17 \\
 -\ 5\ 6\ 8\ 5\ 8\ 9 \\
 \hline
 0\ 2\ 8\ 8\ 6\ 8
 \end{array}$$

$$\begin{array}{r}
 \\
 8\ 9\ 7\ 7\ 5 \\
 + 9\ 8\ 7 \\
 + 5\ 6 \\
 \hline
 9\ 0\ 8\ 1\ 8
 \end{array}$$

7 Complète les phrases suivantes.

Je m'évalue			
A	VA	NA	

8 Avec tes instruments de géométrie, construis une horloge indiquant

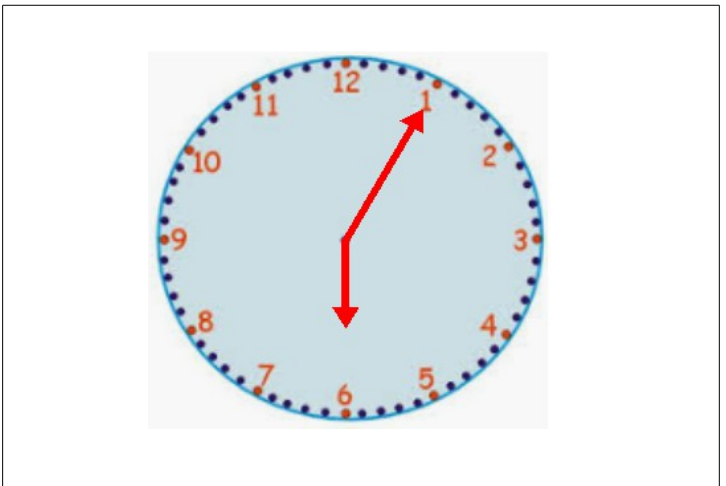
Je m'évalue			
A	VA	NA	

Il est 17h56, la petite aiguille montre le chiffre 5 et la grande aiguille montre le chiffre 11. Une fois finie, n'hésite pas à la décorer.

Il est 15h20, la grande aiguille montre le chiffre 4 et la petite aiguille montre le chiffre 3.

Il est 20h45, la grande aiguille montre le chiffre 9 et la petite aiguille montre le chiffre 8.

Il est 21h, la petite aiguille montre le chiffre 9 et la grande aiguille montre le chiffre 12.



Avant de rendre ma feuille, (coche la case une fois l'action accomplie)

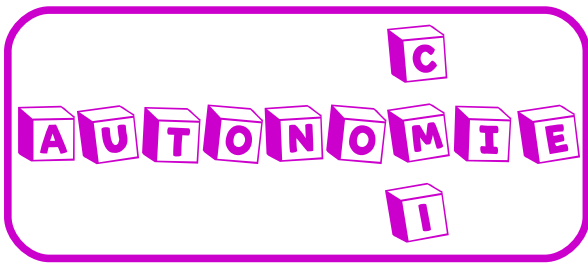


Je me relis

Je me corrige grâce à la correction

Je m'auto-évalue





Nom, prénom : *Correction*

Fiche n°15

1 Identifie les fonctions grammaticales des mots ou groupes de mots de la phrase suivante :

Je m'évalue			
A	VA	NA	

Encadre les verbes conjugués, souligne les sujets.

2 Analyse les mots suivants (classe, genre, nombre et pour les verbes : infinitif, groupe, temps et personne)

Je m'évalue			
A	VA	NA	

Verbes : *nom commun, masculin, pluriel.*

Sujet : *nom commun, masculin, pluriel.*

3 Conjugue le verbe encadrer à l'imparfait.

Je m'évalue			
A	VA	NA	

J'encadrais

Tu encadrais

Il encadrerait

Elle encadrerait

Nous encadrerions

Vous encadreriez

Ils encadreraient

Elles encadreraient

4 Sauras-tu schtroumpher ce texte ?

Je m'évalue			
A	VA	NA	

Un  et une bûcheronne avaient

sept . L'aîné n'avait que dix  et le

plus  n'en avait que sept. Ils

étaient fort  et leurs sept

enfants les  beaucoup.

1 *bûcheron*

2 *enfants*

3 *ans*

4 *jeune*

5 *pauvres*

6 *incommodaient*

5 Écris le résultat des opérations suivantes le plus rapidement possible :

Je m'évalue			
A	VA	NA	

$5020 \div 10 = 502$
 $300 \times 1000 = 300\ 000$
 $127\ 000 \div 1\ 000 = 127$
 $62 \times 10\ 000 = 620\ 000$

6 Pose les opérations suivantes :
 $253\ 235 + 154 + 89\ 768$

Je m'évalue			
A	VA	NA	

$978\ 365 - 897\ 688$

$$\begin{array}{r}
 \\
 \\
 + \\
 + \\
 \hline
 3\ 4\ 3\ 1\ 5\ 7
 \end{array}$$

$$\begin{array}{r}
 \\
 - \\
 \hline
 0\ 8\ 0\ 6\ 7\ 7
 \end{array}$$

7 Lis et écris, en toutes lettres, ces fractions.

Je m'évalue			
A	VA	NA	

$\frac{7}{2}$

Sept demis

$\frac{3}{5}$

Trois cinquièmes

$\frac{14}{10}$

Quatorze dixièmes

8 Relie les mots à leur bonne définition.

Je m'évalue			
A	VA	NA	

Figure plane fermée délimitée par des segments

Polygone qui a trois côtés

Polygone qui a quatre côtés

Quadrilatère ayant 4 côtés égaux et 4 angles droits

Quadrilatère

Polygone

Carré

Triangle

Avant de rendre ma feuille, (coche la case une fois l'action accomplie)



Je me relis

Je me corrige grâce à la correction

Je m'auto-évalue

