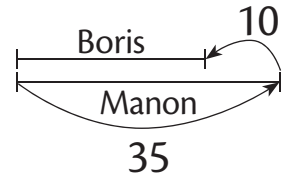
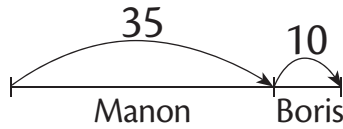
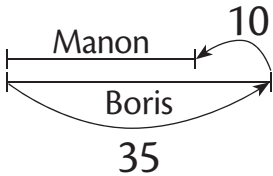


1 Manon a 35 timbres. Boris a 10 timbres de plus que Manon.

• Qui a le plus de timbres ?

• Entoure le schéma qui représente la situation.



• Combien de timbres Boris a-t-il ?

Entoure et complète l'opération qui convient.

$$35 - 10 = \boxed{\quad}$$

$$35 + 10 = \boxed{\quad}$$

Réponds : Boris a  timbres.

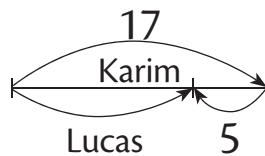
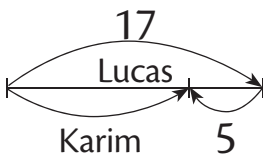


2 Lucas a 17 billes.

Il dit à Karim : « J'ai 5 billes de plus que toi. »

• Qui a le plus de billes ?

• Entoure le schéma qui représente la situation.



• Combien de billes Karim a-t-il ?

Entoure et complète l'opération qui convient.

$$17 + 5 = \boxed{\quad}$$

$$17 - 5 = \boxed{\quad}$$

Réponds : Karim a  billes.



