**Nombres et quantités : de 0 à 79**Complète le tableau:

nombre avant	nombre	nombre après
	75	
68		
		71
77		

Complète avec <, > ou =:3  15

65 55

42 62

16 61

70 7

67 77

78 75

61 61

44 66

Relie les nombres à leur place sur la droite graduée

38

52

68

75

79


40

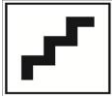
50

60

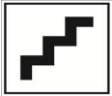
70

80

Complète la bande numérique:



réussite



effort

Date: _____

Nombre et quantités: de 0 à 79



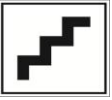
Relie les nombres dans l'ordre, de 1 à 80

www.pointapoint.com

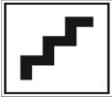
Complète :

72	$70 + 2$
74	
57	
71	

	$70 + 5$
	$30 + 3$
	$70 + 6$
	$70 + 9$



réussite



effort

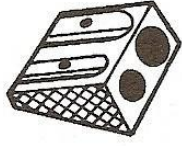
Date: _____

Nombre et quantités : de 0 à 79




Ecris les nombres manquants:

63 66

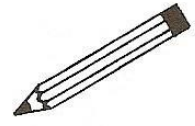


..... 66



.....
.....
69 72

57
.....





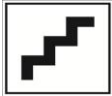
.....
.....
.....
69 79

65
.....
.....
..... 75

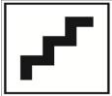


Compte en groupant par 10:





réussite



effort

Date: _____

Nombres et quantités : de 0 à 79

3  15

papa Complète avec $<$, $>$ ou $=$:

72 7d 3u

71 7d

64 6d 4u

69 4d 9u

64 4d 6u

70 7d

papa Ecris les nombres dans l'ordre croissant, du plus petit au plus grand:

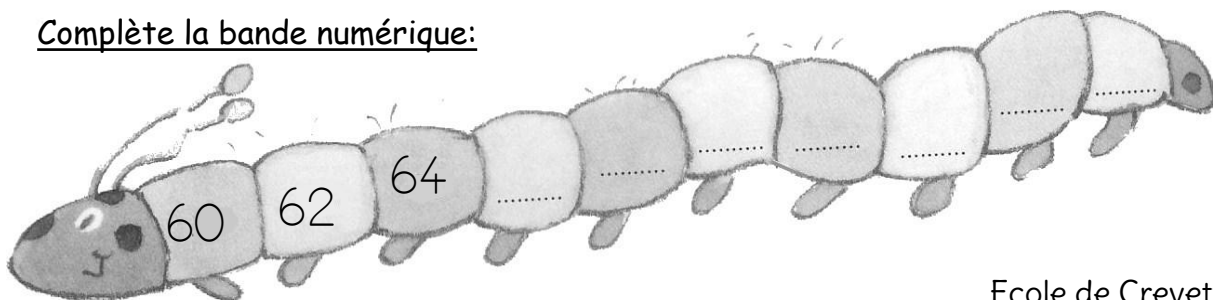
61 - 74 - 53 - 79 - 19 - 67

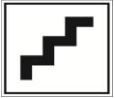
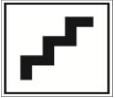
<input type="text"/>	<input type="text"/>	<input type="text"/>	<input type="text"/>	<input type="text"/>	<input type="text"/>
----------------------	----------------------	----------------------	----------------------	----------------------	----------------------

papa Ecris les nombres en lettres:

54	
69	
76	
67	
78	
41	

papa Complète la bande numérique:





Nombre et quantités : de 0 à 79



Complète les tableaux:

54	5d 4u
75	
42	
60	

	7d 5u
	6d 4u
	4d 2u
	7d 0u

Colorie le chiffre 6 quand il correspond une dizaine:

62

46

5

69

76

78

67

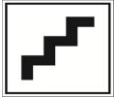
6

Ecris les nombres dans l'ordre croissant, du plus petit au plus grand:

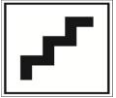
45 - 74 - 35 - 68 - 73 - 60

Dessine :

73		79	
71		70	



réussite



effort

Date: _____

Nombre et quantités : de 0 à 79

3  15

Complète avec $<$, $>$ ou $=$:

72

.....

$10 + 2$

75

.....

$70 + 2$

58

.....

$50 + 8$

72

.....

$20 + 7$

46

.....

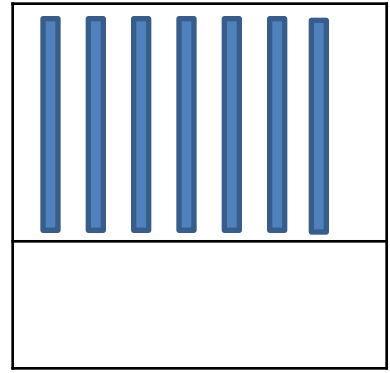
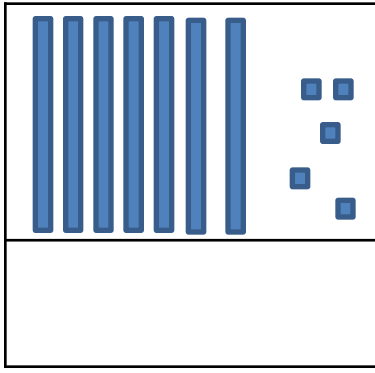
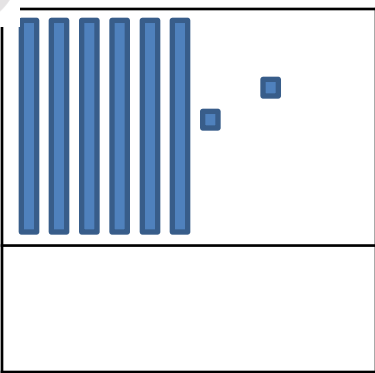
$20 + 20 + 8$

70

.....

$50 + 10$

Compte et complète :



Ecris les nombres du plus grand au plus petit:

76 - 64 - 55 - 15 - 70 - 40

Complète :

