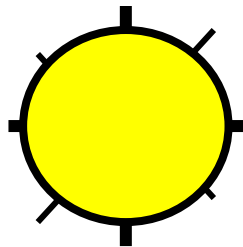
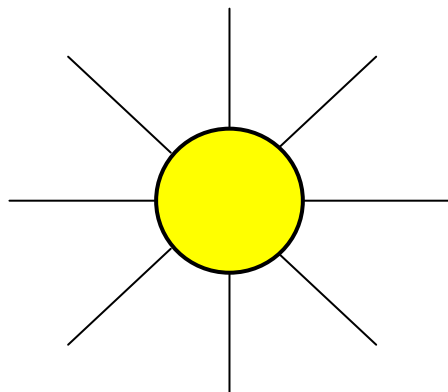




Mesure : niveau 1



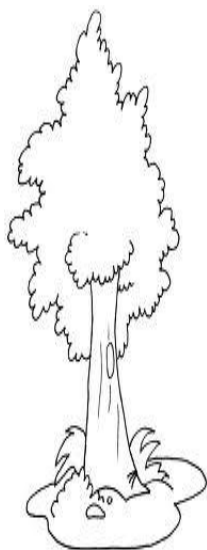
Reproduis cette figure avec des traits de 4 cm.





Mesure : niveau 1

Range ces arbres du plus petit au plus grand :



A

B

C

D

E

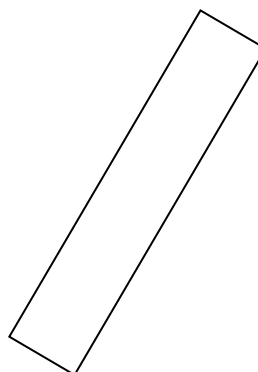
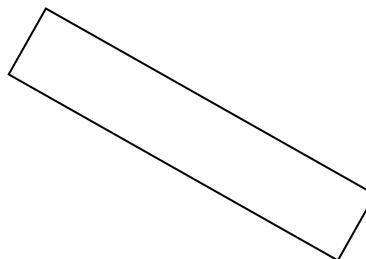
Réponse :

|  |  |  |  |  |
|--|--|--|--|--|
|  |  |  |  |  |
|--|--|--|--|--|



### Mesure : niveau 1

Colorie les bandes qui ont la même longueur que celle du milieu. Utilise la règle.


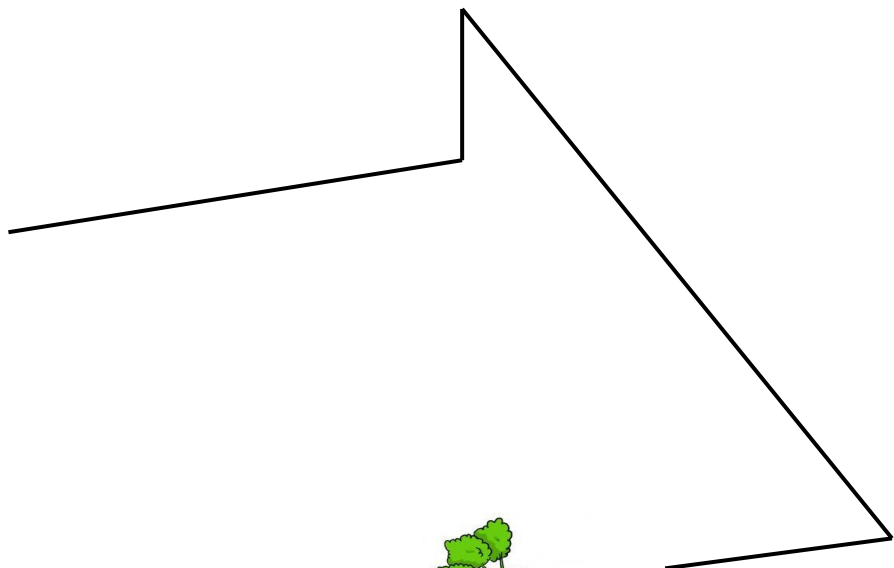

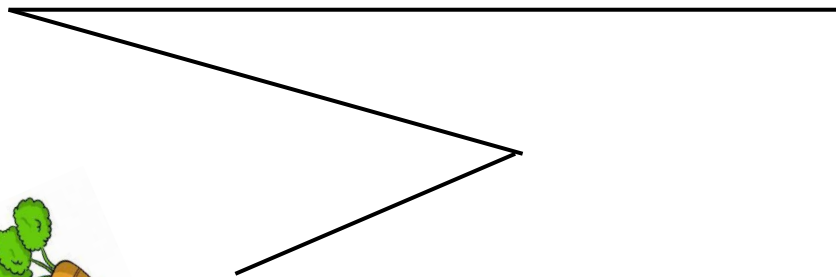




Ce1

Mesure : niveau 2

Entoure le lapin qui parcourt le chemin le plus long pour manger sa carotte.





Ce1

Mesure : niveau 2

Réponds aux questions en observant le calendrier

| JANVIER   |    |    |    |    |    |    | FÉVRIER |    |    |    |    |    |    | MARS     |    |    |    |    |    |    | AVRIL    |    |    |    |    |    |    |   |
|-----------|----|----|----|----|----|----|---------|----|----|----|----|----|----|----------|----|----|----|----|----|----|----------|----|----|----|----|----|----|---|
| L         | M  | M  | J  | V  | S  | D  | L       | M  | M  | J  | V  | S  | D  | L        | M  | M  | J  | V  | S  | D  | L        | M  | M  | J  | V  | S  | D  |   |
|           | 1  | 2  | 3  | 4  | 5  |    |         |    |    |    | 1  | 2  |    |          |    |    |    | 1  | 2  |    | 1        | 2  | 3  | 4  | 5  | 6  |    |   |
| 6         | 7  | 8  | 9  | 10 | 11 | 12 | 3       | 4  | 5  | 6  | 7  | 8  | 9  | 3        | 4  | 5  | 6  | 7  | 8  | 9  | 7        | 8  | 9  | 10 | 11 | 12 | 13 |   |
| 13        | 14 | 15 | 16 | 17 | 18 | 19 | 10      | 11 | 12 | 13 | 14 | 15 | 16 | 10       | 11 | 12 | 13 | 14 | 15 | 16 | 14       | 15 | 16 | 17 | 18 | 19 | 20 |   |
| 20        | 21 | 22 | 23 | 24 | 25 | 26 | 17      | 18 | 19 | 20 | 21 | 22 | 23 | 17       | 18 | 19 | 20 | 21 | 22 | 23 | 21       | 22 | 23 | 24 | 25 | 26 | 27 |   |
| 27        | 28 | 29 | 30 | 31 |    |    | 24      | 25 | 26 | 27 | 28 |    |    | 24       | 25 | 26 | 27 | 28 | 29 | 30 | 28       | 29 | 30 |    |    |    |    |   |
|           |    |    |    |    |    |    |         |    |    |    |    |    |    |          |    |    |    |    |    |    |          |    |    |    |    |    |    |   |
| MAI       |    |    |    |    |    |    | JUIN    |    |    |    |    |    |    | JUILLET  |    |    |    |    |    |    | AOÛT     |    |    |    |    |    |    |   |
| L         | M  | M  | J  | V  | S  | D  | L       | M  | M  | J  | V  | S  | D  | L        | M  | M  | J  | V  | S  | D  | L        | M  | M  | J  | V  | S  | D  |   |
|           | 1  | 2  | 3  | 4  |    |    |         |    |    |    |    | 1  |    | 1        | 2  | 3  | 4  | 5  | 6  |    |          |    |    |    | 1  | 2  | 3  |   |
| 5         | 6  | 7  | 8  | 9  | 10 | 11 | 2       | 3  | 4  | 5  | 6  | 7  | 8  | 7        | 8  | 9  | 10 | 11 | 12 | 13 | 4        | 5  | 6  | 7  | 8  | 9  | 10 |   |
| 12        | 13 | 14 | 15 | 16 | 17 | 18 | 9       | 10 | 11 | 12 | 13 | 14 | 15 | 14       | 15 | 16 | 17 | 18 | 19 | 20 | 11       | 12 | 13 | 14 | 15 | 16 | 17 |   |
| 19        | 20 | 21 | 22 | 23 | 24 | 25 | 16      | 17 | 18 | 19 | 20 | 21 | 22 | 21       | 22 | 23 | 24 | 25 | 26 | 27 | 18       | 19 | 20 | 21 | 22 | 23 | 24 |   |
| 26        | 27 | 28 | 29 | 30 | 31 |    | 23      | 24 | 25 | 26 | 27 | 28 | 29 | 28       | 29 | 30 | 31 |    |    |    | 25       | 26 | 27 | 28 | 29 | 30 | 31 |   |
|           |    |    |    |    |    |    | 30      |    |    |    |    |    |    |          |    |    |    |    |    |    |          |    |    |    |    |    |    |   |
| SEPTEMBRE |    |    |    |    |    |    | OCTOBRE |    |    |    |    |    |    | NOVEMBRE |    |    |    |    |    |    | DECEMBRE |    |    |    |    |    |    |   |
| L         | M  | M  | J  | V  | S  | D  | L       | M  | M  | J  | V  | S  | D  | L        | M  | M  | J  | V  | S  | D  | L        | M  | M  | J  | V  | S  | D  |   |
| 1         | 2  | 3  | 4  | 5  | 6  | 7  |         | 1  | 2  | 3  | 4  | 5  |    |          |    |    |    |    | 1  | 2  |          | 1  | 2  | 3  | 4  | 5  | 6  | 7 |
| 8         | 9  | 10 | 11 | 12 | 13 | 14 | 6       | 7  | 8  | 9  | 10 | 11 | 12 | 3        | 4  | 5  | 6  | 7  | 8  | 9  | 8        | 9  | 10 | 11 | 12 | 13 | 14 |   |
| 15        | 16 | 17 | 18 | 19 | 20 | 21 | 13      | 14 | 15 | 16 | 17 | 18 | 19 | 10       | 11 | 12 | 13 | 14 | 15 | 16 | 15       | 16 | 17 | 18 | 19 | 20 | 21 |   |
| 22        | 23 | 24 | 25 | 26 | 27 | 28 | 20      | 21 | 22 | 23 | 24 | 25 | 26 | 17       | 18 | 19 | 20 | 21 | 22 | 23 | 22       | 23 | 24 | 25 | 26 | 27 | 28 |   |
| 29        | 30 |    |    |    |    |    | 27      | 28 | 29 | 30 | 31 |    |    | 24       | 25 | 26 | 27 | 28 | 29 | 30 | 29       | 30 | 31 |    |    |    |    |   |

Tim, habitant du futur, à une année 2250 bien chargée :



- L'année scolaire de Tim commence le 4 janvier et se termine le 31 octobre. **Entoure ces 2 dates.**
- Il part en vacances sur Jupiter du 4 au 25 décembre. **Colorie cette période de vacances.**
- Quatre jours après la fin de ses vacances, il fêtera son anniversaire : **Ce sera le :**

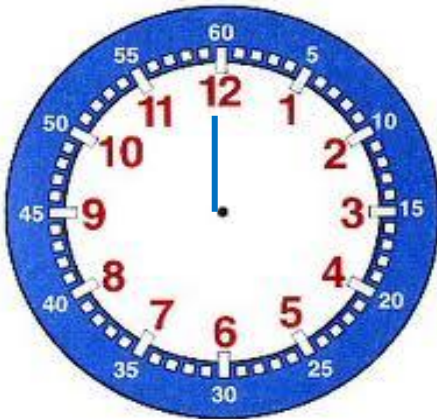
.....



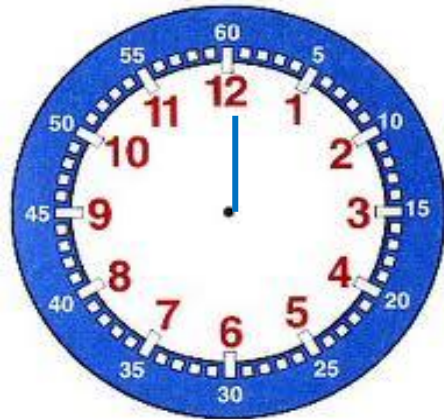
Ce1

Mesure : niveau 2

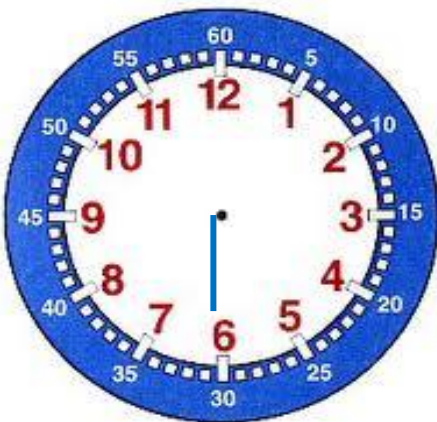
Monsieur Pierre l'horloger a perdu certaines aiguilles de ses montres. Peux-tu l'aider en redessinant les aiguilles des heures sur les cadrans ?



Il est 4 heures.



Il est 10 heures.



Il est 3 h 30.



Il est 9 h 30.