




Dans la cour, les enfants sortent le matériel. Ils choisissent 15 cerceaux et 22 plots.
Combien d'objets ont-ils sortis en tout ?





Ce matin, les élèves de CE et de CM jouent ensemble sur le terrain.


Il y a dans l'école :

27 maternelles

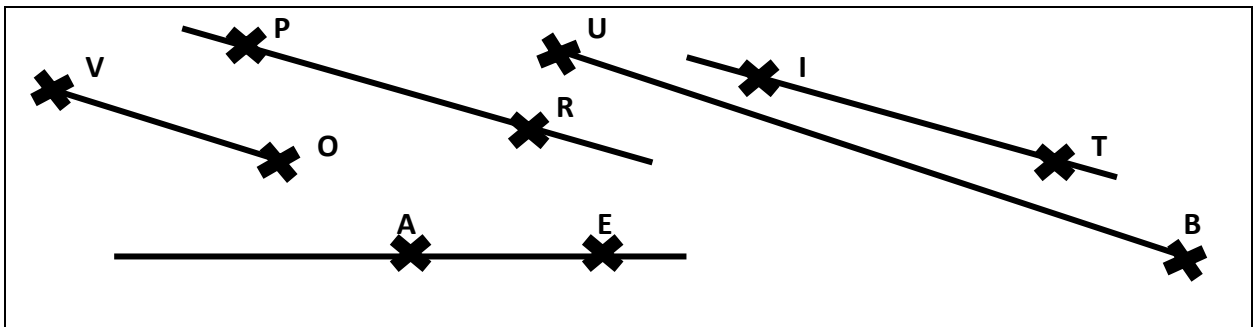
15 CP

29 CE1/CE2

27 CM1/CM2



Combien d'enfants jouent sur le terrain ?



Pour trouver le mot mystère :

1/ Relève les lettres des droites uniquement : _____

2/ Replace les dans l'ordre pour écrire un mot : _____



Ma grande sœur a 20 ans. La maîtresse en a le double.

Quel âge a la maîtresse?



A Halloween, Bidule a récolté 32 bonbons. Sur le chemin du retour elle en a mangé 5.

Combien de bonbons lui restait-il de retour à la maison ?
