

Prénom : _____

Date : _____



Les nombres de 0 à 10

Objectif : Dénombrer une collection

1) Ecris pour chaque collection le nombre d'objets :



2) Ecris le nombre indiqué par les constellations de dés :



Objectif : Connaître la suite numérique jusqu'à 10

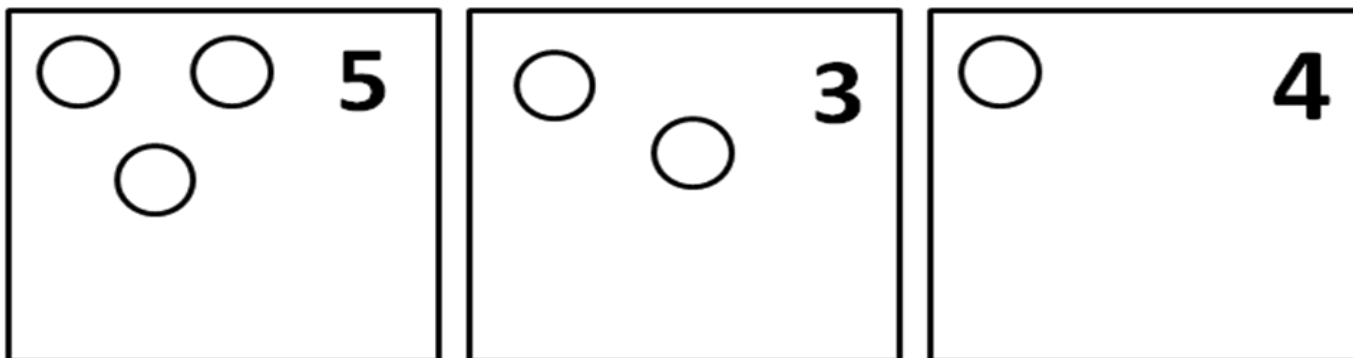
3) Découpe les étiquettes et complète la frise numérique :

	2		4		6			9	
--	---	--	---	--	---	--	--	---	--

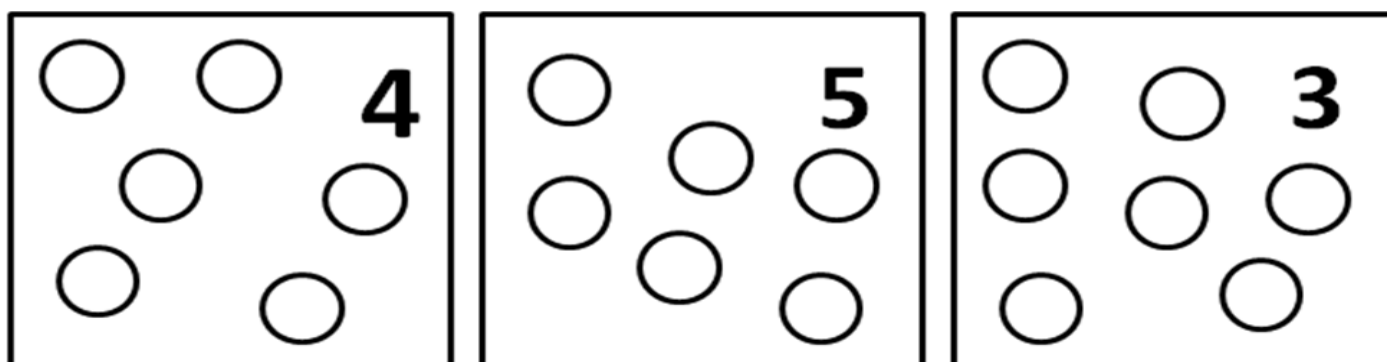
9	5	6	1	8	10	4	7	3	2
---	---	---	---	---	----	---	---	---	---

Objectif : Compléter une collection

4) Complète les collections pour qu'il y ait autant d'objets que demandé :

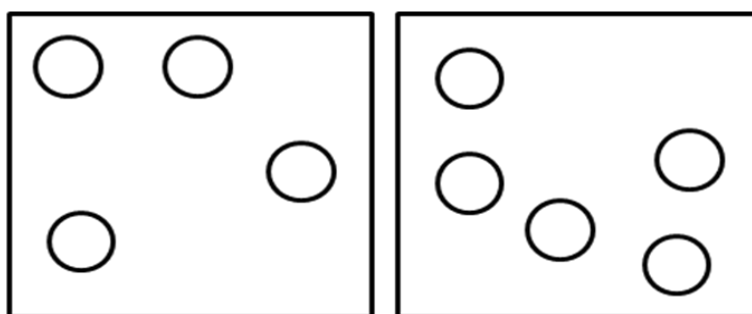


5) Barre les objets qu'il y a en trop :



Objectif : Comparer des collections

6) Colorie la collection où il y a le plus d'objets :



7) Colorie la collection où il y a le moins d'objets :

