

J'ai 9 billes dont 7 noires.

Combien ai-je de blanches?



designed by freepik

J'avais 6 jetons dans mes mains. Il m'en reste 5.

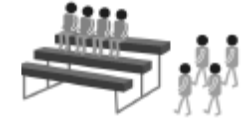
Combien en ai-je retiré?



designed by freepik

Dans l'enclos vivent 7 moutons. Il y a 4 moutons blancs.

Combien y a-t-il de moutons noirs?



designed by freepik

Pour la fête de l'école, 8 parents sont entrés.

4 sont déjà assis. Combien sont debouts?



designed by freepik

Dans l'enclos vivent 7 moutons. Il y a 3 moutons qui s'enfuient.


Combien de moutons reste-t-il?



designed by freepik

J'ai apporté 7 bonbons.

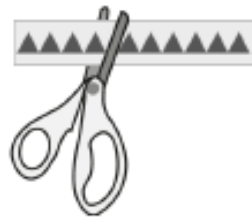
5 bonbons sont au goût chocolat. Combien sont au goût citron?



designed by freepik

Mamy a oublié d'arroser son bouquet de 5 fleurs. Il ne lui en reste que 2.

Combien sont fanées?



designed by freepik

J'ai un dessin qui mesure 10 cm. Je découpe 4 cm.


Quelle taille fait encore mon dessin?



designed by freepik


J'ai offert à madame des tulipes mais il n'en reste qu'une, les 4 autres sont fanées.

Combien y avait-il de tulipes?



designed by freepik

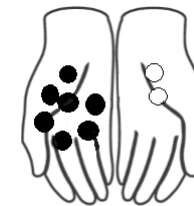
A la fête de l'école, le premier spectacle est terminé. 4 parents quittent la salle, 4 autres restent assis.
Combien de parents sont venus?



J'ai offert à mamy 4 roses. Elle en a 8 maintenant.
Combien en avait-elle déjà?



Je cueille une fleur rouge que j'ajoute aux 5 jaunes.
Combien y a-t-il de fleurs dans mon bouquet?



3 canetons arrivent à la marre. Ils sont 7 maintenant.

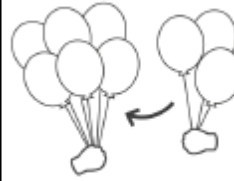
Combien étaient déjà dans l'eau?



designed by freepik

Ma poule a pondu. Je lui retire 2 œufs. Il lui en reste 4.

Combien d'œufs avait-elle pondu?



designed by freepik

Mon frère a gagné 3 ballons à la foire. Nous rapportons 9 ballons à la maison.

Combien en ai-je gagné?



designed by freepik

Sur les 8 oiseaux, 6 s'envolent.

Combien en reste t'il dans le nid?



designed by freepik

J'ai ramassé les 8 œufs de ma poule mais j'en ai cassé 4.

Combien en reste t'il?



designed by freepik

Je vois 7 oiseaux qui veulent se poser sur le fil.

Ils seront 8.


Combien d'oiseaux attend déjà sur le fi?



designed by freepik

J'ai mangé deux pommes. Il y en a encore 6.

Combien maman avait-elle acheté de pommes?



designed by freepik

Maman a acheté des pommes. Elle en reçoit 2 de la voisine. Il y en a 7 dans le plat.

Combien maman en avait-elle acheté?



designed by freepik

Tom veut 6 ballons. Lya a gonflé trois ballons.

Combien Téo en gonfle t'il?




designed by freepik

J'ai ramassé 9 œufs
et j'en ai mangé 5.
Combien en reste
t'il?



designed by freepik

Il y avait 9 oiseaux
sur le fil.
Maintenant il en
reste 5. Combien
se sont envolés?



designed by freepik

J'ai mangé 4
pommes.
Il en reste le
double.
Combien en reste
t'il?



designed by freepik