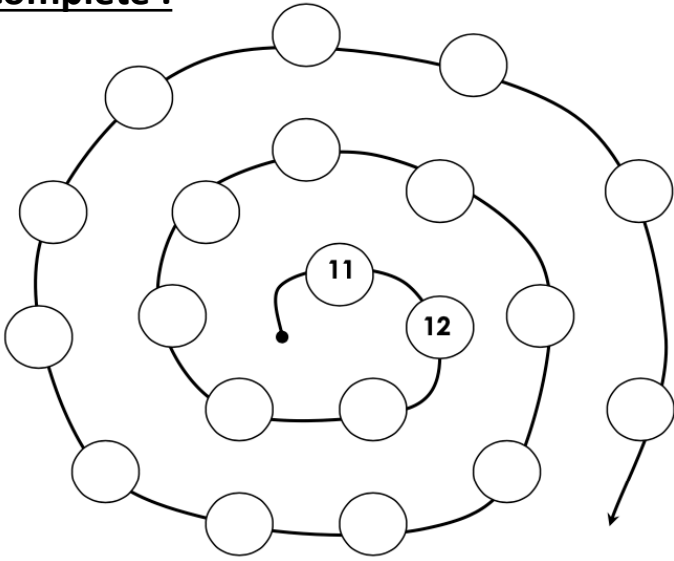


CEINTURE VIOLETTE
(fiche 1 / 4)

Complète :



Mets le bon signe :

20 ____ 22

13 ____ 23

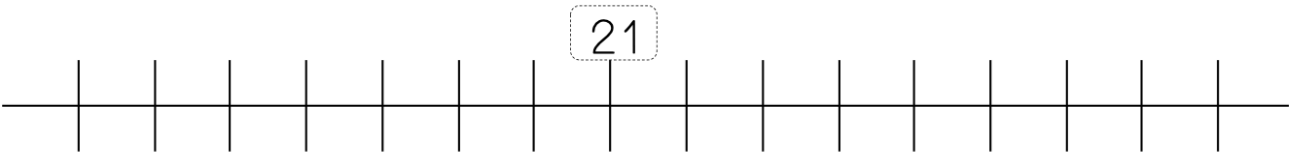
24 ____ 14

26 ____ 28

15 ____ 16

28 ____ 17

Place les nombres suivants : 23 / 28 / 17 / 14 / 24



Ecris en lettres :

23 :

20 :

27 :

23 :

Range du plus petit au plus grand :

28 / 18 / 21 / 29 / 17 / 20

.....<.....<.....<.....<.....<.....

Dessine le bon nombre de dizaines et d'unités :

CEINTURE VIOLETTE (fiche 2 / 4)

Calcule :

$30 + 6 = \dots\dots\dots$

$30 + 4 = \dots\dots\dots$

$30 + 9 = \dots\dots\dots$

$30 + 8 = \dots\dots\dots$

$30 + 1 = \dots\dots\dots$

Mets le bon signe :

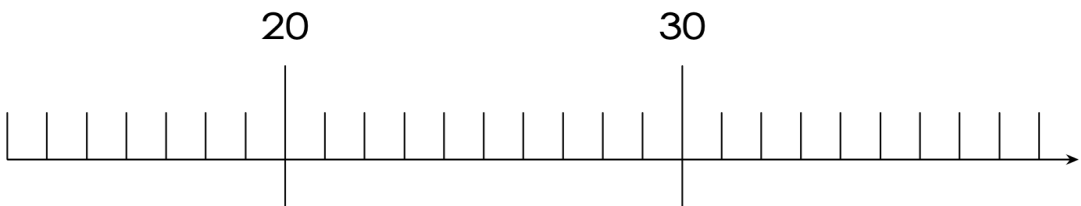
$32 \ . \ 23$

$38 \ . \ 28$

$36 \ . \ 39$

$39 \ . \ 30$

Place les nombres suivants : 35 / 21 / 19 / 29 / 31 / 32



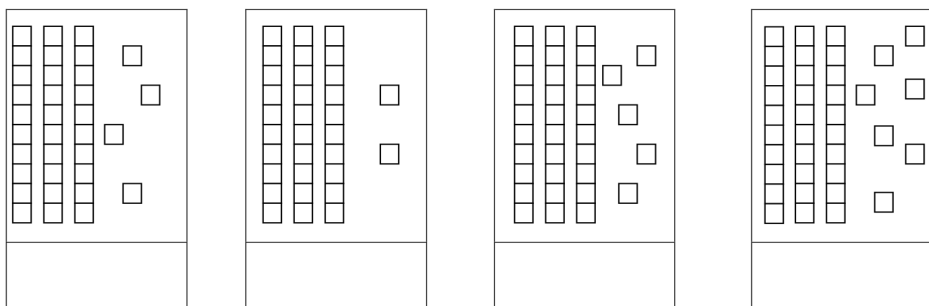
Ecris en lettres :

33 : **30 :**

Place les nombres : 29 / 31 / 35:



Complète:



Complète le tableau.

avant	Le nombre	après
	35	
	34	
	30	

Décompose comme l'exemple :

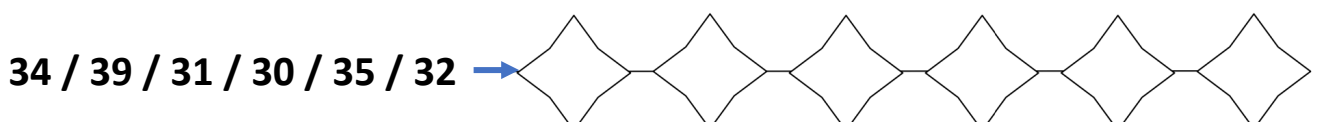
$31 = 10 + 10 + 10 + 1$

$35 = \dots\dots\dots$

$39 = \dots\dots\dots$

$33 = \dots\dots\dots$

Range du plus petit au plus grand :



CEINTURE VIOLETTE (fiche 3 / 4)

Calcule :

$40 + 6 = \dots\dots\dots$ $40 + 4 = \dots\dots\dots$
 $40 + 0 = \dots\dots\dots$ $40 + 5 = \dots\dots\dots$
 $40 + 8 = \dots\dots\dots$ $40 + 1 = \dots\dots\dots$

Mets le bon signe :

$44 . 46$ $48 . 42$
 $46 . 49$ $49 . 40$
 $43 . 39$ $48 . 49$

Complète:

31			34				38					
----	--	--	----	--	--	--	----	--	--	--	--	--

Relie :

- | | |
|------|------------------|
| 41 • | • quarante-cinq |
| 14 • | • quarante et un |
| 46 • | • quatorze |
| 4 • | • quarante-six |
| 40 • | • quarante-deux |
| 42 • | • quatre |
| 45 • | • quarante |
| 43 • | • quarante-trois |

Complète :

Avant	Le nombre	Après
	48	
	41	
	42	
	46	
	40	

Complète:

Décompose comme l'exemple :

$42 = 10 + 10 + 10 + 10 + 2$ $49 = \dots\dots\dots$
 $47 = \dots\dots\dots$ $40 = \dots\dots\dots$

Range du plus petit au plus grand :

34 / 43 / 41 / 30 / 45 / 40 →

CEINTURE VIOLETTE (VALIDATION)

Calcule :

$50 + 6 = \dots\dots\dots$

$20 + 4 = \dots\dots\dots$

$40 + 0 = \dots\dots\dots$

$30 + 8 = \dots\dots\dots$

Mets le bon signe :

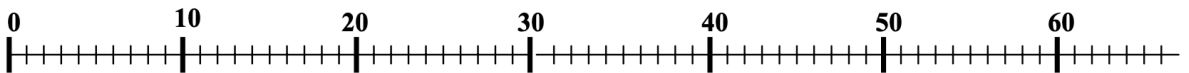
$54 . 46$

$58 . 42$

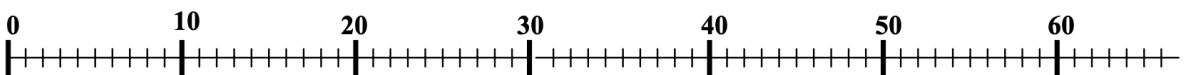
$56 . 29$

$39 . 20$

Place sur la ligne les nombres suivants : quarante-deux / vingt-cinq



Place sur la ligne les nombres suivants : cinquante-sept / trente et un



Complète :

avant	Le nombre	après
	54	
	29	
	41	
	36	

Décompose comme l'exemple :

$56 = 10 + 10 + 10 + 10 + 10 + 6$

$50 = \dots\dots\dots$

$49 = \dots\dots\dots$

$34 = \dots\dots\dots$

$23 = \dots\dots\dots$

Range du plus petit au plus grand : 45 / 53 / 35 / 24 / 31 / 43 / 50

<
 <
 <
 <
 <
 <
 <

Ecris le nombre :

