



Mathématiques CP - Année 2017/2018 - Bilan 5

Date : _____

Ton prénom : _____

1 Ecris les nombres dictés.

● ■ ★ ☾ ♥ ▲


2 Ecris les réponses

● ■ ★ ☾ ♥ ▲

3 Ecris les résultats.

- 5 + 4 + 4 = ____
- 1 + 4 + 5 = ____
- 2 + 3 + 2 + 5 = ____
- 4 + 1 + 5 + 1 = ____
- 3 + 3 + 5 + 5 = ____
- 10 + 6 = ____

4 Zoé a cassé son collier de perles. Fais des groupements de 10 et compte les perles qu'elle a retrouvé.




Elle a retrouvé _____ perles.



5 Complète les bons de commande.

Attention, il n'est pas possible de commander plus de 9 boutons seuls.

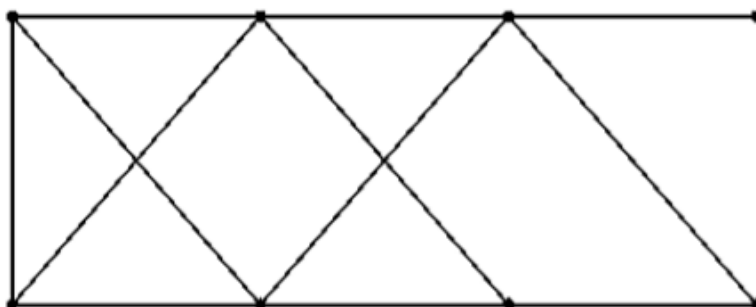


Zoé a besoin de 34 boutons.
 Elle commande :
 _____ paquets de 10 boutons, et
 _____ boutons.

Arthur a reçu _____ boutons.
 Il a commandé :
 2 paquets de 10 boutons, et
 boutons.



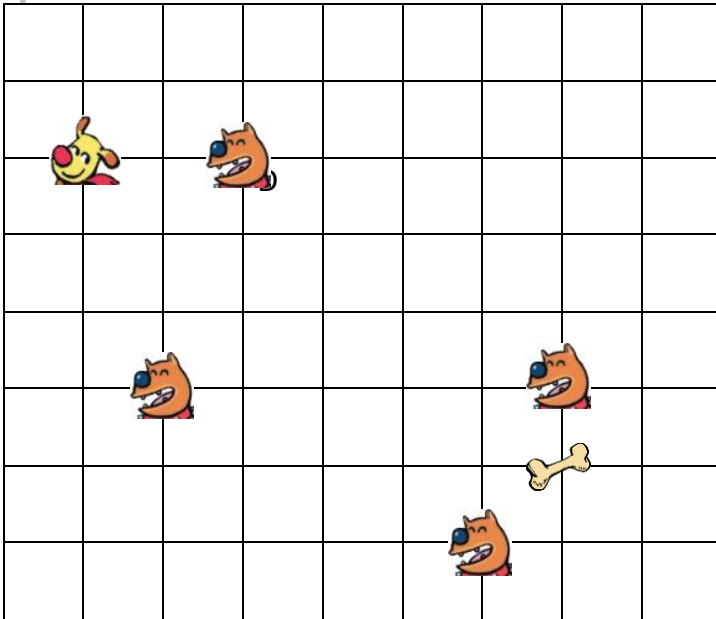
6 Termine la frise.



6



Trace le chemin de Gribouille. Il se dirige toujours vers la couleur indiquée par le dé.



B

J

J

B

J

B

B

J

B



7



Complète les dates en utilisant cet extrait de calendrier.

Ecris le jour.

→ _____ 11 janvier.

→ le 16 janvier est un _____

→ le premier jour du mois de janvier est un _____

Ecris le numéro.

→ le dernier mardi du mois de janvier est le _____

Complète la date.

→ vendredi ___6 janvier

Ecris la date.

→ le lendemain du vendredi 19 janvier

→ le jour avant le jeudi 4 janvier

Janvier 2018

1	lundi
2	mardi
3	mercredi
4	jeudi
5	vendredi
6	samedi
7	dimanche
8	lundi
9	mardi
10	mercredi
11	jeudi
12	vendredi
13	samedi
14	dimanche
15	lundi
16	mardi
17	mercredi
18	jeudi
19	vendredi
20	samedi
21	dimanche
22	lundi
23	mardi
24	mercredi
25	jeudi
26	vendredi
27	samedi
28	dimanche
29	lundi
30	mardi
31	mercredi