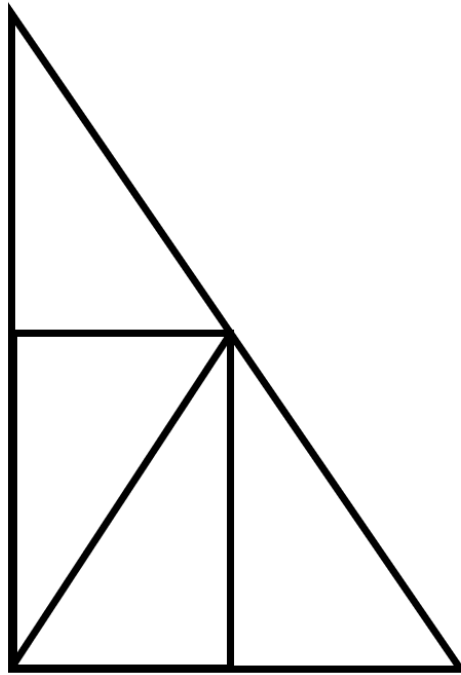


## Activités ritualisées

- **Regarde 30 secondes** la figure 3 du jeu des formes, puis cache-la et retrace-la sur une ardoise/une feuille.

CE1 - FICHE 3 :



## Calcul mental

- **Observe et continue** :  $1 \times 10 = 10$  ;  $2 \times 10 = 20$  ;  $3 \times 10 = 30$  ;  $4 \times 10 = 40$  ;  $5 \times 10 = \underline{\hspace{2cm}}$  ;  $6 \times 10 = \underline{\hspace{2cm}}$  ;  
 $7 \times 10 = \underline{\hspace{2cm}}$  ;  $8 \times 10 = \underline{\hspace{2cm}}$  ;  $9 \times 10 = \underline{\hspace{2cm}}$  ;  $10 \times 10 = \underline{\hspace{2cm}}$

**Fais-toi interroger** sur la table de  $\times 10$  :  $3 \times 10$  ;  $6 \times 10$  ;  $9 \times 10$  ;  $5 \times 10$  ;  $7 \times 10$  ;  $1 \times 10$  ;  $8 \times 10$  ;  $4 \times 10$  ;  
 $2 \times 10$  ;  $10 \times 10$

- **Faire des additions en ligne qui obligent à passer la centaine.**

$$479 + 25 = \underline{\hspace{2cm}}$$

$$528 + 32 = \underline{\hspace{2cm}}$$

$$747 + 13 = \underline{\hspace{2cm}}$$

exemple de stratégie :  $47 \text{ dizaines} + 2 \text{ dizaines} = 49 \text{ dizaines}$  ;

$9 \text{ unités} + 5 \text{ unités} = 14 \text{ unités} (1 \text{ dizaine et } 4 \text{ unités})$



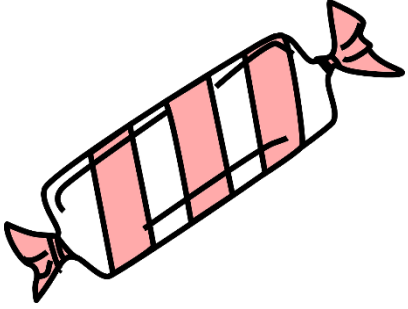
$49 \text{ dizaines} + 1 \text{ dizaine} = 50 \text{ dizaines}$

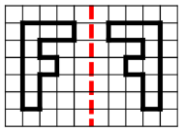
On écrit les 4 unités à la suite, donc  $479 + 25 = 504$  !

## Apprentissage

- **Interroger la connaissance des pièces** : euros et centimes.

Dessiner les pièces nécessaires pour payer ces objets :

 <p><b>92 centimes</b></p>	 <p><b>73 centimes</b></p>	 <p><b>67 centimes</b></p>



## LE MIROIR ★

5

Trace la figure symétrique par rapport à l'axe rouge:

