
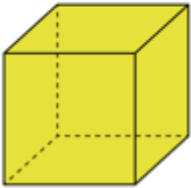
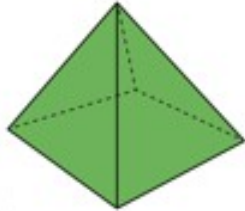

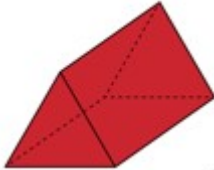

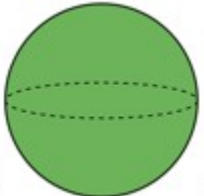
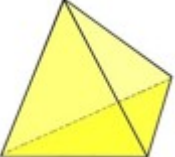
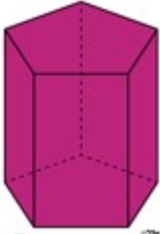
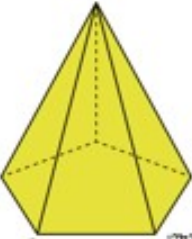

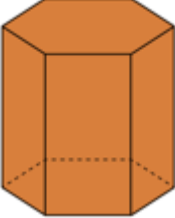


Géométrie : tri de solides

A/ Voici des solides. Certains ont déjà été vus dans l'activité de la semaine dernière, d'autres non. Tu en connais déjà quelques uns, pas les autres.

Observe-les bien et cherche des ressemblances et des différences (les couleurs ne comptent toujours pas!)

 1 - Cône	 2 - Cube	 3 - Pyramide à base carrée
 4 - Prisme à base carrée	 5 - Prisme à base triangulaire	 6 - Cylindre
 7 - Sphère	 8 - Pyramide à base triangulaire	 9 - Prisme à base pentagonale
 10 - Pyramide à base pentagonale	 11 - Prisme à base rectangulaire	 12 - Prisme à base hexagonale

B/ Classe les figures en deux groupes. Donne un nom à chaque groupe. Explique ton classement (pourquoi tu as rangé les figures comme cela).