

Je pense à un nombre à 2 chiffres. Le chiffre des dizaines est plus grand que celui des unités. Si j'additionne les 2 chiffres de ce nombre je trouve 17.

Je pense à un nombre de 3 chiffres. Si j'additionne les 3 chiffres de ce nombre je trouve 27.

Dans un autobus : 3 personnes parlent français, 3 personnes parlent anglais, 3 personnes parlent chinois. Pourtant, il n'y a que 3 personnes dans l'autobus...

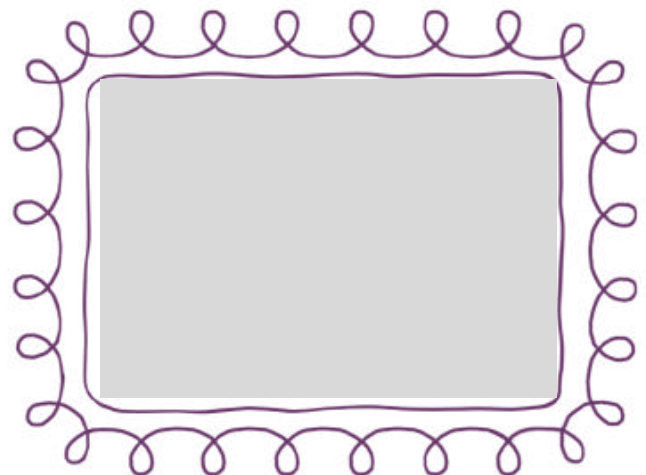
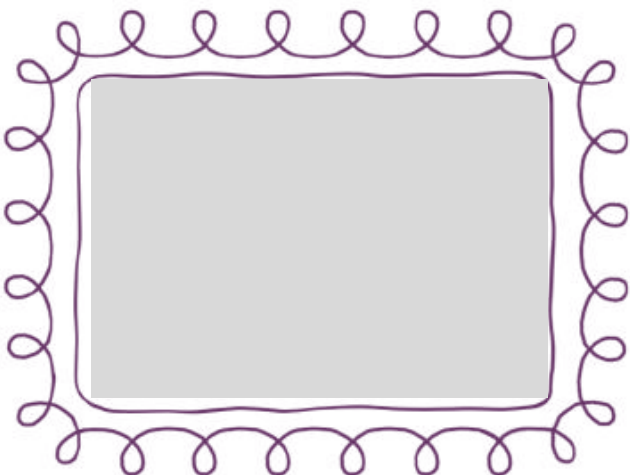
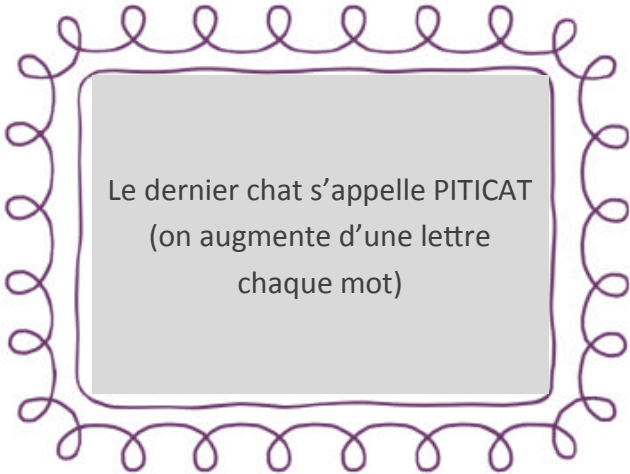
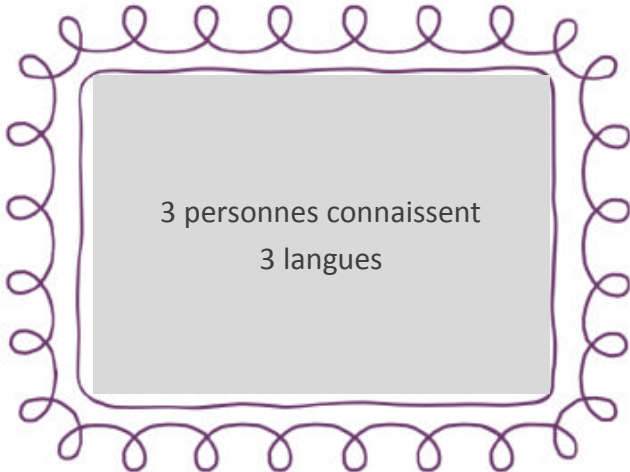
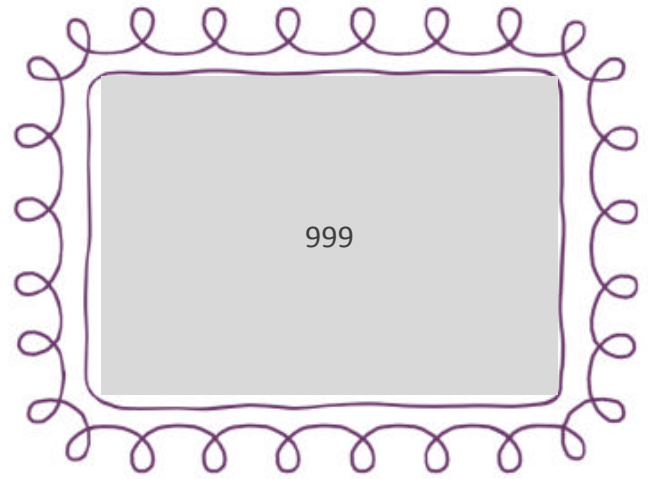
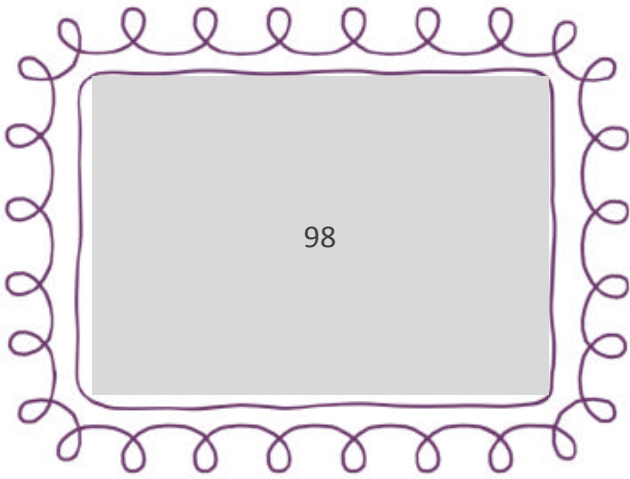
Si Alain danse avec Noémioe, si Eric danse avec Caroline, si Dimitri danse avec Isabelle, si Hervé danse avec Emilie; qui danse avec Gaël ? Valérie ? Julie ? Ou Laëtitia ?

Belle, la chatte de Lucie, a donné naissance à 5 chatons. Elle a appelé les 4 premiers : Mic, Mimi, Minet, Mignon. Comment a-t-elle appelé le dernier ? Chatounet ? Piticat ? Katkatou ?

Romain monte les marches deux par deux. Camille descend les marches trois par trois. Sur quelle marche vont-ils se retrouver ?

Jean compte de 7 en 7 en partant du nombre 3. A un certain moment il trouve un nombre composé de chiffres identiques. Quel est ce nombre ?

Combien de fois utilise-t-on le chiffre 1 pour écrire tous les nombres de 0 à 50 ?



Quel nombre ne devrait pas figurer dans cette série ?
13—211—22—202—
40—112—35

Cet après-midi, au tennis nous sommes 4 joueurs : Lucie, Véronique, Marc et Christophe. Nous voulons faire des équipes mixtes. Quels choix d'équipes possède-t-on ?

Blanche-Neige dure plus longtemps que Peter Pan et Dumbo est le plus court. Range ces dessins animés du plus long au plus court.

Dans le monde, les pays sont différemment peuplés. L'Inde est plus peuplée que le Brésil. La Chine est plus peuplée que l'Inde. Range ces pays du moins peuplé au plus peuplé.

Cinq enfants ont fait la course. Marc a battu Laurent, Sophie n'a pas battu Elodie, Lucie a gagné la course et Marc est arrivé juste derrière Sophie. Quel a été l'ordre d'arrivée ?

J'ai 8 tulipes et 4 roses dans mon bouquet. Ai-je plus de tulipes ou de fleurs ?

J'ai des prunes et des poires dans mon panier. Ai-je plus de prunes ou de fruits ?

Si dans un panier je place des poires et des pêches, peut-on faire quelque chose pour avoir plus de pêches que de fruits ?

Le nombre 35 car la somme de ces chiffres est 8 (4 pour les autres)

2 possibilités :
Lucie/Marc contre Véronique/
Christophe
Ou
Lucie/Christophe contre Véronique/Marc

Blanche-Neige, Peter Pan, Dumbo

Brésil, Inde, Chine

Lucie, Elodie, Sophie, Marc, Laurent

Plus de fleurs

Plus de fruits

On ne peut rien faire

Dans trois jours nous serons le surlendemain de lundi. Quel jour de la semaine étions-nous il y a trois jours ?

La piscine de Max pèse 310 kg quand elle est pleine à ras bord. Quand elle est à moitié vide, elle pèse 165 kg. Quelle est la masse de la piscine de Max quand elle est vide ?

Paul, Louis et Thibaut se disputent toujours 3 ballons. Paul n'a pas pris le bleu. Louis et Thibaut n'ont pas voulu du rouge. Thibaut et Paul ont laissé le vert dans le placard. Qui a quel ballon ?

Paul a 5 ballons, un vert, un rouge, un bleu, un marron et un jaune. Il ne prend pas le vert, le bleu est crevé, son frère utilise le marron. Sa maman lui a confisqué le jaune. Quel ballon utilisera-t-il ?

Jacques et André ont chacun un animal domestique différent : un chien ou un chat. L'animal de Jacques ne miaule pas. Qui a quoi ?

A l'occasion de la fête des mères, Aline et Sébastien ont offert à leur maman l'un un bijou, l'autre des fleurs. Le cadeau d'Aline fait « tic-tac ». Qui a offert quoi ?

Des parents et leurs deux enfants se trouvent chacun dans une pièce. Le père se rase, la mère prépare le petit déjeuner, Christian dort et Nelly regarde la télé dans le canapé. Où sont-ils ?

Denis, Gilbert, Olivier, Raymond et Vincent sont sur un cheval. Vincent est assis entre Raymond et Gilbert. Olivier n'a qu'un voisin, Raymond, qui peut le voir qu'en se retournant. Où sont-ils ?

Un jeudi

20 kg

Paul : rouge
Louise: vert
Thibaut : bleu

Le rouge

Jacques a un chien
André a un chat

Sébastien a offert des fleurs
Aline a offert une montre

Le père est dans la salle de bain,
la mère à la cuisine, Christian est
dans sa chambre et
Nelly au salon.

Denis, Gilbert, Vincent, Raymond,
Olivier

Olivier, Agathe et Pauline mangent chacun un goûter : une banane, un choco BN ou un sandwich au jambon. Olivier n'aime pas les fruits. Agathe ne mange que du salé. Qui mange quoi ?

Dans la famille Boulon, Xavier a deux fois plus de sœurs que de frères et Gertrude a deux fois plus de frères que de sœurs. De combien d'enfants se compose cette famille ?

Yvon, Manuel et Emilie ont chacun un animal domestique différent : un chat, un chien ou un canari. L'animal d'Emilie ne miaule pas, Manuel n'aime pas les animaux à poils. Qui a quoi ?

Lors de la kermesse, Juliette, Sandrine, Irène et Coralie ont fait la course de sac. Coralie est arrivée avant Sandrine mais après Irène. Juliette a terminé bonne dernière. Quel est l'ordre d'arrivée ?

Quel est l'âge du Maire ? Son fils Bernard a 10 ans. Son cousin Emile a 15 ans de plus que Laurent. Son adjoint Alain a 6 ans de plus qu'Emile et 6 de moins que le Maire. A la naissance de Bernard, Laurent avait l'âge qu'a Bernard aujourd'hui.

Un cuisinier, un serveur et le patron travaillent dans un restaurant. Vincent est célibataire. Le serveur est fils unique. Le cuisinier, qui ne s'appelle pas Didier, a épousé la sœur de Vincent. Qui fait quoi ?

