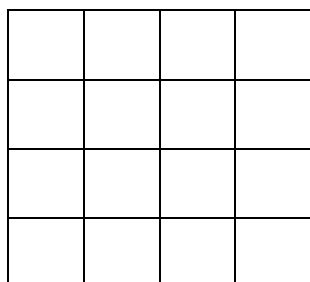
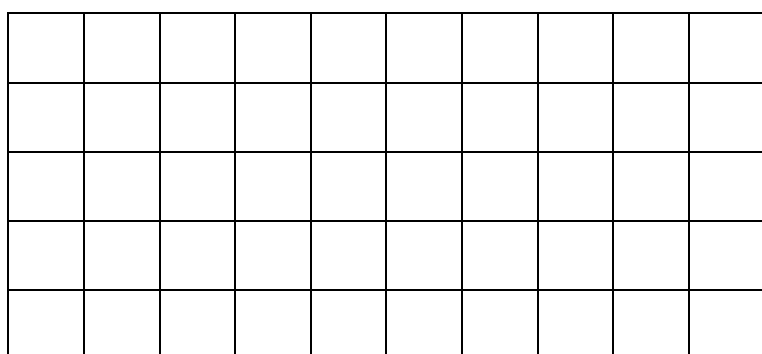


**Aire du carré = côté x côté**

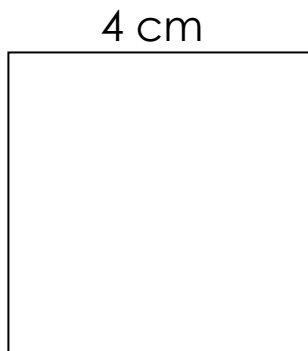
aire de ce carré = 4 carreaux x 4 carreaux = 16 carreaux

Ce carré a une aire de 16 carreaux.

**Aire du rectangle = Longueur x largeur**

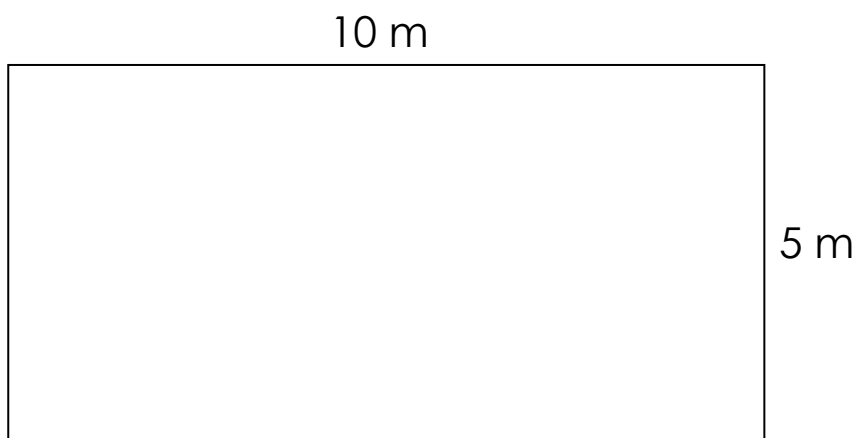
aire de ce rectangle = 10 carreaux x 5 carreaux = 50 carreaux

Ce rectangle a une aire de 50 carreaux.

**Aire du carré = côté x côté**

aire de ce carré =  $4 \text{ cm} \times 4 \text{ cm} = \underline{16 \text{ cm}^2}$

Ce carré a une aire de  $16 \text{ cm}^2$ .

**Aire du rectangle = Longueur x largeur**

aire de ce rectangle =  $10 \text{ m} \times 5 \text{ m} = \underline{50 \text{ m}^2}$

Ce rectangle a une aire de  $50 \text{ m}^2$ .